

**Проверочная работа
по МАТЕМАТИКЕ**

4 КЛАСС

Вариант 16

Инструкция по выполнению работы

На выполнение работы по математике даётся 45 минут. Работа содержит 11 заданий.

В заданиях, после которых есть поле со словом «Ответ», запиши ответ в указанном месте.

В заданиях 5 (пункт 2) и 10 нужно сделать чертёж или рисунок.

В заданиях, после которых есть поле со словами «Решение» и «Ответ», запиши решение и ответ в указанном месте.

Если ты хочешь изменить ответ, то зачеркни его и запиши рядом новый.

При выполнении работы нельзя пользоваться учебниками, рабочими тетрадями, справочниками, калькулятором.

При необходимости можно пользоваться черновиком. Записи в черновике проверяться и оцениваться не будут.

Советуем выполнять задания в том порядке, в котором они даны. Для экономии времени пропускай задание, которое не удаётся выполнить сразу, и переходи к следующему. Постарайся выполнить как можно больше заданий.

Желаем успеха!


1 Вычисли: $16 \cdot 5$.

Ответ:

2 Вычисли: $(17 + 3) : 5 + 16$.

Ответ:

3 Бабушка сварила 14 литров варенья и пошла в магазин за банками. Банки стоят на прилавке (см. рис.). Бабушка купила две трёхлитровые, две двухлитровые и одну самую маленькую банку. Сколько литров варенья останется у бабушки, когда она заполнит им все купленные банки?



Запиши решение и ответ.

Решение:

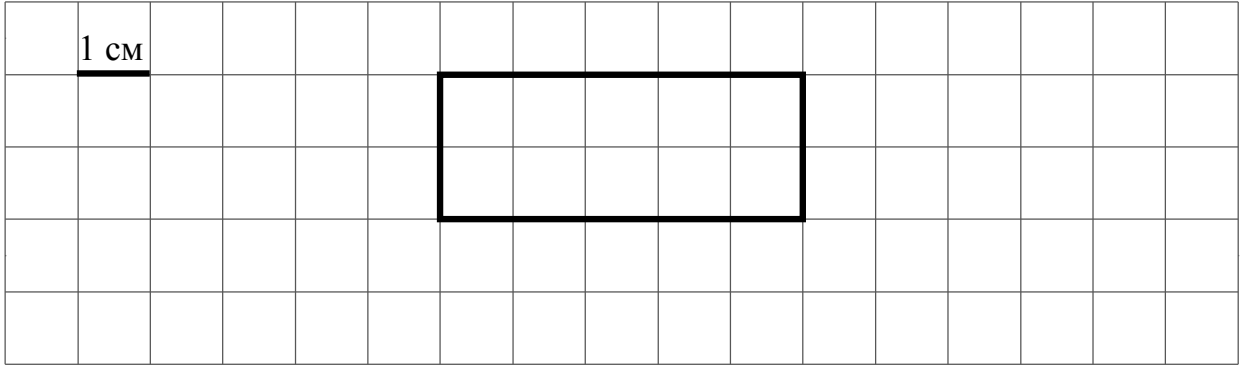
Ответ:

4) Восхождение альпинистов на вершину продолжалось 4 часа 15 минут и закончилось в 17 часов 8 минут. В котором часу восхождение началось?

Ответ:

		ч			мин		
--	--	----------	--	--	------------	--	--

5) На клеточном поле со стороной клетки 1 см изображён прямоугольник.



1) Найди площадь этого прямоугольника.

Ответ:

--	--	--	--	--	--	--	--	--	--	--	--	--	--	--	--	--	--

2) Проведи на рисунке прямую линию, которая разделит этот прямоугольник на квадрат и прямоугольник.

6) Коротышки из Цветочного Города соревнуются в устном счёте. Количество ошибок, сделанных каждым коротышкой за три дня, показано в таблице. Используя эти данные, ответь на вопросы.

Коротышка	Понедельник	Вторник	Среда
Ворчун	8	5	2
Молчун	5	6	1
Торопыжка	7	12	9
Незнайка	9	6	6

1) Сколько ошибок сделал Торопыжка во вторник?

Ответ:

--	--	--	--	--	--	--	--	--	--	--	--	--	--	--	--	--	--

2) Кто сделал в сумме за три дня меньше всех ошибок?

Ответ:

--	--	--	--	--	--	--	--	--	--	--	--	--	--	--	--	--	--

7 Вычисли: $3274 - (645 + 255 : 15)$.

Ответ:	
--------	--

8 В больших пачках по 500 листов бумаги, а в малых — по 250 листов. В понедельник в типографии было 30 больших пачек и 17 малых пачек бумаги, а к концу недели осталось ровно 18 больших пачек и ровно 8 малых пачек бумаги. Сколько листов бумаги израсходовано за неделю?

Запиши решение и ответ.

Решение:	
Ответ:	

9 Ира, Катя, Лида и Маша выстроились в шеренгу по росту (в порядке убывания). Известно, что Катя ниже Маши, Лида выше Иры, а Катя стоит рядом с Лидой.

1) Кто из девочек самая высокая?

Ответ:	
--------	--

2) Кто из девочек в шеренге четвёртая?

Ответ:	
--------	--

- 10 На столбе висела табличка (рис. 1). Верхний винт, державший табличку, выпал, и табличка перевернулась. Нарисуй, как будет выглядеть перевернутая табличка с надписью (рис. 2).



Рис. 1

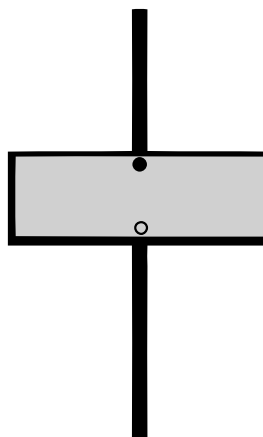


Рис. 2

- 11 Журавль стоит на двух ногах. А цапля — на одной ноге. Лягушка, сидя в болоте, насчитала 18 ног. Известно, что на болоте журавлей и цапель всего 11. Сколько на болоте цапель?

Запиши решение и ответ.

Решение:	
Ответ:	