

□ □ □ □ □

ИМЯ УЧАСТНИКА



□ □ □ □ □ □ □ □ □ □ □ □ □ □ □

ФАМИЛИЯ УЧАСТНИКА

□ □ □ □ □ □ □ □ □ □ □ □ □ □ □ □ □ □ □ □

ОКРУЖАЮЩИЙ МИР

БЛАНК ЗАДАНИЙ
ДЛЯ УЧАСТНИКОВ
5 - 6 ЛЕТ



1. Отгадай загадку:

Лишь стукнет она
К нам в окошко снежком,
Мы санки берём
И на горку — бегом!



А Мама



Б Зима



В Девочка

2. В какой последовательности должны стоять картинки?

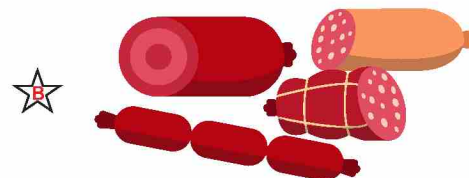


А 1, 2, 3


Б 1, 3, 2

В 3, 2, 1

3. Рассмотрите внимательно изображения. Чем не питаются птицы?



4. Определи, где обитает это животное:



5. Какой знак определяет пешеходную зону?




6. Что не является ягодой?

А, Б

Б, В


В Это всё - ягоды.



КОНТРОЛЬ ОТВЕТОВ

ВОПРОС №

1 2 3 4 5 6 7 8 9 10 11



А

А

А

А

А

А

А

А

А

А

А

А

Б

Б

Б

Б

Б

Б

Б

Б

Б

Б

Б

Б

В

В

В

В

В

В

В

В

В

В

В

В

○

○

○

○

○

○

○

○

○

○

○

○

ВАРИАНТ
ОТВЕТА

НЕТ ОТВЕТА
НЕ ЗНАЮ

© Educational development institute Ltd.

7. Сколько времени показывают часы?

А 12 часов

Б Час

В 2 часа



8. Как называется музыкальный инструмент?

А Рояль

Б Пианино

В Синтезатор



9. Из какого материала сделаны предметы на картинке?



А Пластик

Б Резина

В Ткань



10. Рассмотрите рисунки. Что лишнее?



А 1

Б 2

В 4

11. Рассмотрите рисунки. Определи, на каком рисунке изображены горы.

А

Б

В

