


ИМЯ УЧАСТНИКА

ФАМИЛИЯ УЧАСТНИКА

МУЛЬТИТЕСТ

 БЛАНК ЗАДАНИЙ
 ДЛЯ УЧАСТНИКОВ
 7 ЛЕТ


www.olympiada-umka.ru

1. Отгадай загадку:

Наступили холода.
 Обернулась в лед вода.
 Длинноухий зайка серый
 Обернулся зайкой белым.
 Перестал медведь реветь:
 В спячку впал в бору медведь.
 Кто скажет, кто знает,
 Когда это бывает?



Лето

Зима

Осень

2. Торт разрезали на 4 одинаковые части, а потом каждую часть разрезали на 2 одинаковые части. На сколько человек хватит торта, если каждому положить на блюдо один кусок?

(A)

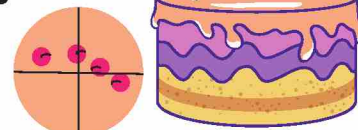
8

(Б)

6

★

4



3. Впиши недостающее число, чтобы равенства были равными. Какое число пропущено во всех равенствах?

(A)



(Б)



★



$$7 + \text{apple} = 10$$

$$\text{apple} - 2 = 1$$

$$10 + \text{apple} = 13$$

4. Реши задачу:

Еж спешит домой с грибами:

«Пять грибов нашел я маме!»
 Вдруг споткнулся и упал,
 Два грибочка потерял.
 Сколько он принес грибов?
 У тебя ответ готов?

(A)



(Б)



★





5. Какие по счету месяца январь и февраль? Декабрь – последний месяц года.

(A) Январь - 1-й, февраль - 2-й.

(Б) Январь - 13-й, февраль - 14-й.

★ Январь - 11-й, февраль - 10-й.



6. Найди фотографию детей Ивана Олеговича, если известно, что:

- У Владимира Сергеевича только сыновья;
- У Алексея Максимовича – двойня.

(A)




(Б)



★



КОНТРОЛЬ ОТВЕТОВ

ВОПРОС №	1	2	3	4	5	6	7	8	9	10	11
	А	А	А	А	А	А	А	А	А	А	А
	Б	Б	Б	Б	Б	Б	Б	Б	Б	Б	Б
	В	В	В	В	В	В	В	В	В	В	В
	НЕТ ОТВЕТА НЕ ЗНАЮ	○	○	○	○	○	○	○	○	○	○

ВАРИАНТ
ОТВЕТА

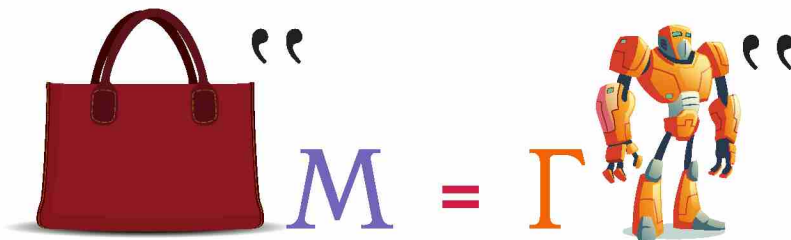
© Educational development institute Ltd.

7. Деду Морозу нужно объехать все дома по порядку. По какому маршруту он сможет выполнить свое задание?

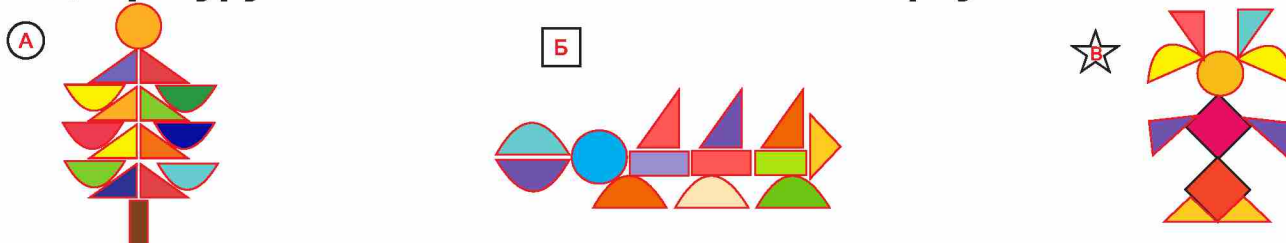


8. Реши ребус:

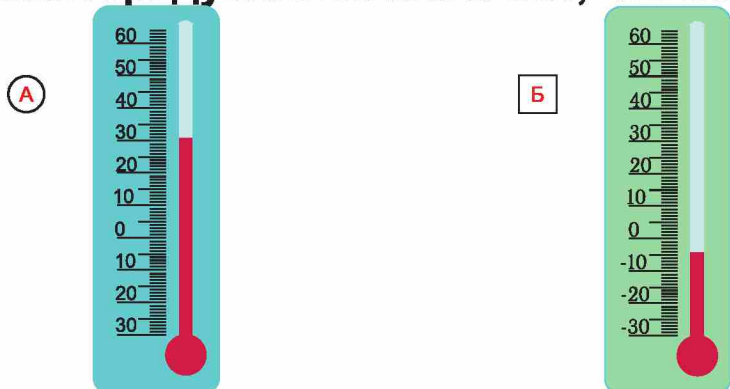
- А Сурок
- Б Сумка для компьютера
- В Сугроб



9. Найди фигуру с наибольшим количеством треугольников:



10. Какой градусник показывает, что на улице мороз?



Все ответы
верны

11. Для музыкального номера новогоднего утренника не хватает духового инструмента. Какой инструмент нужно добавить?

