


ИМЯ УЧАСТНИКА

ФАМИЛИЯ УЧАСТНИКА

ОКРУЖАЮЩИЙ
МИРБЛАНК ЗАДАНИЙ
ДЛЯ УЧАСТНИКОВ
7 ЛЕТ

www.olympiada-umka.ru

1. Отгадай ребус. Какое слово зашифровано?

- А Мак
- Б Зима
- В Букет

ЗИ

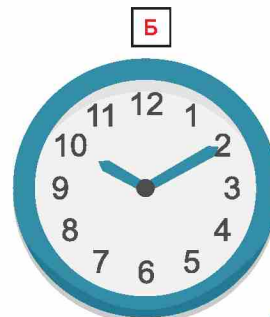



2. Рассмотрй рисунки. Определи, какой вид транспорта не является механическим?



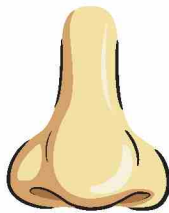
3. Найди часы, которые соответствуют записи:

10:10



4. Определи органы чувств.

- А Нос, рот
- Б Кожа
- В Все ответы верны.



5. Как называется это явление природы?


- А Рассвет
- Б Радуга
- В Северное сияние



6. Какой инвентарь не относится к зимним видам спорта?



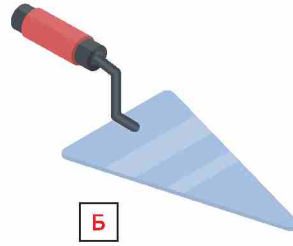

КОНТРОЛЬ ОТВЕТОВ

ВОПРОС №	1	2	3	4	5	6	7	8	9	10	11
 А	<input type="radio"/>	<input type="radio"/>	<input type="radio"/>	<input type="radio"/>	<input type="radio"/>	<input type="radio"/>	<input type="radio"/>	<input type="radio"/>	<input type="radio"/>	<input type="radio"/>	<input type="radio"/>
Б	<input type="radio"/>	<input type="radio"/>	<input type="radio"/>	<input type="radio"/>	<input type="radio"/>	<input type="radio"/>	<input type="radio"/>	<input type="radio"/>	<input type="radio"/>	<input type="radio"/>	<input type="radio"/>
В	<input type="radio"/>	<input type="radio"/>	<input type="radio"/>	<input type="radio"/>	<input type="radio"/>	<input type="radio"/>	<input type="radio"/>	<input type="radio"/>	<input type="radio"/>	<input type="radio"/>	<input type="radio"/>
НЕТ ОТВЕТА НЕ ЗНАЮ	<input type="radio"/>	<input type="radio"/>	<input type="radio"/>	<input type="radio"/>	<input type="radio"/>	<input type="radio"/>	<input type="radio"/>	<input type="radio"/>	<input type="radio"/>	<input type="radio"/>	<input type="radio"/>

ВАРИАНТ
ОТВЕТА


© Educational development institute Ltd.

7. Помоги Пете собрать инструменты для работы. Какой инструмент лишний?

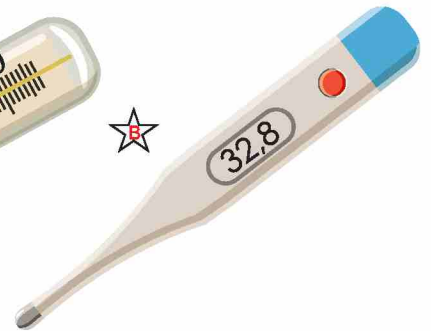



8. Как называется данный старинный предмет?


- А Корыто
- Б Ванна
- В Ванночка



9. Ваня заболел, у него высокая температура. Определи, каким термометром измеряли температуру.



10. На каком рисунке изображена только живая природа?



11. Рассмотрите рисунки. Какой знак можно увидеть на здании аптеки?

