



Учимся составлять, решать, анализировать задачи





$$\square + \square = \square$$

$$\square - \square = \square$$

$$\square - \square = \square$$

У Лены было... Потом... Сколько...?



Составить задачу, которая решается так:

$$5 + 2 = 7$$



 Ответ : 7 ПТИЦ

Решите
примеры


помощница- линейка
1 2 3 4 5 6 7 8 9 10

$10-2=$

$10-\square=9$

$8+2=$

$6+\square=7$



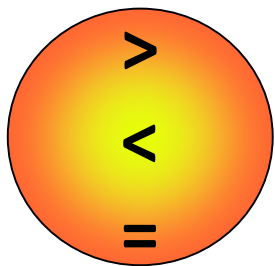
$0+1=$

$6+2=\square$

$2-2=$

$\square-2=6$






Подумай и объясни

$$8-1 * 7 \quad 7+2 * 9 \quad 6-2 * 5$$

$$8-1 * 6 \quad 7+2 * 8 \quad 4+1 * 6$$



$$1+2=3$$

$$4+2=6 \square$$

$$59-22=77$$

$$3=1+2$$

$$6=4+2$$

$$7=5+2$$

$$3-2=1$$

$$6-2=4 \square$$

$$7-2=5 \square$$