



ЗАРНИЦА

***ОДИН ЗА ВСЕХ,
ВСЕ ЗА ОДНОГО***

тест



Установка палатки

1



На каком фото палатка установлена правильно?

Напишите порядок установки палатки

Снятие палатки



Напишите порядок сборки палатки

Переправа «Вертикальный маятник»

1



2



На каком фото изображено прохождение переправы «Вертикальный маятник»?

Опишите правильное прохождение переправы

Навесная переправа

1



2



На каком фото изображена навесная переправа?

Опишите правильность ее прохождения

Параллельная переправа

1






2



На каком фото представлена параллельная переправа?

Опишите правильность ее прохождения

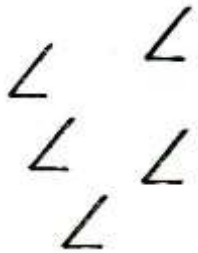
Узлы



Дайте названия узлам и напишите их применение

Топографические знаки

1



2



3



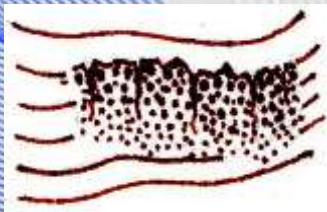
4




5



6



7



8



9



10



Назовите условные топографические знаки

Топографические знаки


1



2




3



4



5



6



7



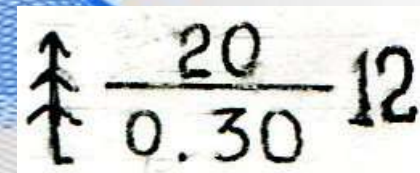
8



9



10



Отнесите условные знаки к их видам: Масштабные (площадные), Линейные, Внемасштабные, Пояснительные

АЗИМУТ

1



2



3




4



5



6



Назовите компас, указывающий обратный азимут