

по **НОВОМУ**  
образовательному стандарту  
(второго поколения)

**УМК**

Е.В. Баранчиков

# ТЕСТЫ по географии


К учебнику В.П. Максаковского  
«География. Экономическая  
и социальная география мира.  
10 класс»

- ♦ Оперативно проверяют знания, умения и навыки
- ♦ Выявляют пробелы в знаниях
- ♦ Соответствуют образовательному стандарту
- ♦ Подготовка к ГИА и ЕГЭ

# 10

класс

ЭКЗАМЕН



---

Учебно-методический комплект

---

Е.В. Баранчиков

# Тесты по географии

---

К учебнику В.П. Максаковского  
«География. Экономическая и социальная  
география мира. 10 класс»  
(М.: Просвещение)

**10** класс

*Рекомендовано  
Российской Академией Образования*

*Издание третье, стереотипное*

Издательство  
«ЭКЗАМЕН»  
МОСКВА • 2011

УДК 372.8:91  
ББК 74.266.504я72  
Б24

Имена авторов и название цитируемого издания указаны на титульном листе данной книги (ст. 1274 п. 1 части четвертой Гражданского кодекса Российской Федерации).

Изображение учебника «География. Экономическая и социальная география мира: учеб. для 10 кл. / В.П. Максаковский. — М.: Просвещение, 2010» приведено на обложке данного издания исключительно в качестве иллюстративного материала (ст. 1274 п. 1 части четвертой Гражданского кодекса Российской Федерации).

### **Баранчиков, Е.В.**

**Б24** Тесты по географии: 10 класс: к учебнику В.П. Максаковского «География. Экономическая и социальная география мира. 10 класс» / Е.В. Баранчиков. — 3-е изд., стереотип. — М.: Издательство «Экзамен», 2011. — 94, [2] с. (Серия «Учебно-методический комплект»)

ISBN 978-5-377-02727-0

Данное пособие полностью соответствует новому образовательному стандарту (второго поколения).

Пособие включает тесты по курсу «Экономическая и социальная география мира» для 10 классов общеобразовательных учреждений. Предлагаемые тесты помогут организовать тематический и итоговый контроль знаний учащихся на уроке, а также подготовиться к Единому государственному экзамену по географии.

Пособие предназначено преподавателям географии, работающим по учебнику В.П. Максаковского «География. Экономическая и социальная география мира. 10 класс», а также может быть полезно учащимся для подготовки к экзамену.

Учебные пособия издательства «Экзамен» допущены Министерством образования и науки Российской Федерации к использованию в общеобразовательных учреждениях на основании приказа № 729.

**УДК 372.8:91**  
**ББК 74.266.504я72**

---

Подписано в печать с диапозитивов 22.01.2010.  
Формат 70x100/16. Гарнитура «Таймс». Бумага газетная.  
Уч.-изд. л. 2,27. Усл. печ. л. 7,8. Тираж 5 000 экз. Заказ № 379.

---

**ISBN 978-5-377-02727-0**

© Баранчиков Е.В., 2011  
© Издательство «**ЭКЗАМЕН**», 2011

# СОДЕРЖАНИЕ

## ЧАСТЬ I

<b>Общая характеристика мира</b> .....	5
<b>Тема 1. Современная политическая карта мира</b> .....	6
Многообразие стран современного мира.....	6
Типология стран современного мира. Группировки стран .....	12
Государственный строй стран мира .....	17
<b>Тема 2. География мировых природных ресурсов</b> .....	20
<b>Тема 3. География населения мира</b> .....	27
Численность и естественное движение населения.....	27
Трудовые ресурсы.....	32
Расовый, национальный и религиозный состав населения мира.....	36
Размещение населения мира и урбанизация .....	40
Уровень и качество жизни населения мира .....	45
<b>Тема 4. Научно-техническая революция и мировое хозяйство</b> .....	48
<b>Тема 5. География отраслей мирового хозяйства</b> .....	50
Мировая промышленность.....	50
Мировое сельское хозяйство .....	57
Мировой транспорт.....	63
Внешнеэкономические связи .....	67
<b>Тема 6. Глобальные проблемы человечества</b> .....	69

**ЧАСТЬ II**

<b>Региональная характеристика мира .....</b>	<b>71</b>
Особенности природы, населения и хозяйства регионов мира .....	72
Особенности природы, населения и хозяйства стран мира .....	75
Территориальная структура хозяйства стран мира .....	83
<b>Ответы .....</b>	<b>88</b>

# **Часть I.**

## **ОБЩАЯ ХАРАКТЕРИСТИКА МИРА**

---

---

## ТЕМА 1

### СОВРЕМЕННАЯ ПОЛИТИЧЕСКАЯ КАРТА МИРА

#### *Многообразие стран современного мира*



1	<input type="checkbox"/>
2	<input type="checkbox"/>
3	<input type="checkbox"/>
4	<input type="checkbox"/>

1. В настоящее время общее количество стран в мире составляет:

- 1) около 150;
- 2) более 200;
- 3) менее 50;
- 4) примерно 100.



1	<input type="checkbox"/>
2	<input type="checkbox"/>
3	<input type="checkbox"/>
4	<input type="checkbox"/>

2. В «мировую десятку» по показателю площади территории входят:

- 1) Бразилия и Индия;
- 2) ЮАР и Саудовская Аравия;
- 3) Китай и Мексика;
- 4) США и Иран.



1	<input type="checkbox"/>
2	<input type="checkbox"/>
3	<input type="checkbox"/>
4	<input type="checkbox"/>

3. В «мировую десятку» по численности населения входят:

- 1) Пакистан и Индонезия;
- 2) Аргентина и США;
- 3) Канада и Индия;
- 4) Япония и Австралия.



1	<input type="checkbox"/>
2	<input type="checkbox"/>
3	<input type="checkbox"/>
4	<input type="checkbox"/>

4. В Азии находятся:

- 1) Непал и Габон;
- 2) Габон и Шри-Ланка;
- 3) Шри-Ланка и Йемен;
- 4) Йемен и Албания;



1	<input type="checkbox"/>
2	<input type="checkbox"/>
3	<input type="checkbox"/>
4	<input type="checkbox"/>

5. В Африке находятся:

- 1) Гвинея и Гватемала;
- 2) Гватемала и Папуа – Новая Гвинея;
- 3) Папуа – Новая Гвинея и Мали;
- 4) Мали и Малави;



1	<input type="checkbox"/>
2	<input type="checkbox"/>
3	<input type="checkbox"/>
4	<input type="checkbox"/>

6. В Латинской Америке находятся

- 1) Гватемала и Гайана;
- 2) Эритрея и Эквадор;
- 3) Суринам и Сингапур;
- 4) Нигер и Никарагуа.

7. Установите соответствие:



СТРАНА

РЕГИОН

- 1) Вьетнам
- 2) Боливия
- 3) Австрия
- 4) Камерун

- А) Зарубежная Европа
- Б) Африка
- В) Латинская Америка
- Г) Зарубежная Азия
- Д) Австралия и Океания

1	<input type="checkbox"/>
2	<input type="checkbox"/>
3	<input type="checkbox"/>
4	<input type="checkbox"/>

8. Установите соответствие:



РЕГИОН

СТРАНА

- 1) Латинская Америка
- 2) Зарубежная Европа
- 3) Африка
- 4) Зарубежная Азия

- А) Ирландия
- Б) Танзания
- В) Пакистан
- Г) Венесуэла
- Д) Новая Зеландия

1	<input type="checkbox"/>
2	<input type="checkbox"/>
3	<input type="checkbox"/>
4	<input type="checkbox"/>

9. Установите соответствие:



СТРАНА

СУБРЕГИОН

- 1) Гондурас
- 2) Филиппины
- 3) Марокко
- 4) Сирия

- А) Южная Европа
- Б) Северная Африка
- В) Юго-Восточная Азия
- Г) Центральная Америка
- Д) Юго-Западная Азия

1	<input type="checkbox"/>
2	<input type="checkbox"/>
3	<input type="checkbox"/>
4	<input type="checkbox"/>

10. Установите соответствие:



СУБРЕГИОН

СТРАНА

- 1) Центрально-Восточная Европа
- 2) Восточная Азия
- 3) Центральная Африка
- 4) Юго-Западная Азия

- А) Южная Корея
- Б) Конго
- В) Чехия
- Г) Панама
- Д) Иран

1	<input type="checkbox"/>
2	<input type="checkbox"/>
3	<input type="checkbox"/>
4	<input type="checkbox"/>





11. Установите соответствие:

1	<input type="checkbox"/>
2	<input type="checkbox"/>
3	<input type="checkbox"/>
4	<input type="checkbox"/>

СУБРЕГИОН АЗИИ

СТРАНА

- |                       |              |
|-----------------------|--------------|
| 1) Юго-Западная Азия  | А) Таиланд   |
| 2) Восточная Азия     | Б) Сомали    |
| 3) Южная Азия         | В) Монголия  |
| 4) Юго-Восточная Азия | Г) Иордания  |
|                       | Д) Шри-Ланка |



12. Установите соответствие:

1	<input type="checkbox"/>
2	<input type="checkbox"/>
3	<input type="checkbox"/>
4	<input type="checkbox"/>

СТРАНА

СТОЛИЦА

- |                   |               |
|-------------------|---------------|
| 1) Судан          | А) Джорджтаун |
| 2) Новая Зеландия | Б) Сантьяго   |
| 3) Чили           | В) Джакарта   |
| 4) Индонезия      | Г) Веллингтон |
|                   | Д) Хартум     |



13. Установите соответствие:

1	<input type="checkbox"/>
2	<input type="checkbox"/>
3	<input type="checkbox"/>
4	<input type="checkbox"/>

СТОЛИЦА

СТРАНА

- |                       |                                     |
|-----------------------|-------------------------------------|
| 1) Любляна            | А) Колумбия                         |
| 2) Киншаса            | Б) ОАЭ                              |
| 3) Санта-Фе-де-Богота | В) Словения                         |
| 4) Абу-Даби           | Г) Испания                          |
|                       | Д) Демократическая Республика Конго |



14. Установите соответствие:

1	<input type="checkbox"/>
2	<input type="checkbox"/>
3	<input type="checkbox"/>
4	<input type="checkbox"/>

СТОЛИЦА

СТРАНА

- |                 |              |
|-----------------|--------------|
| 1) Монтевидео   | А) Боливия   |
| 2) Ла-Пас       | Б) Уругвай   |
| 3) Каракас      | В) Венесуэла |
| 4) Буэнос-Айрес | Г) Парагвай  |
|                 | Д) Аргентина |

15. Наибольшее количество сухопутных соседей имеют:

- 1) США и Бразилия;
- 2) Россия и Китай;
- 3) Мексика и Австралия;
- 4) Италия и Индия.

<input checked="" type="checkbox"/>	
1	<input type="checkbox"/>
2	<input type="checkbox"/>
3	<input type="checkbox"/>
4	<input type="checkbox"/>

16. Одного сухопутного соседа имеют:

- 1) Куба, Австралия и Шри-Ланка;
- 2) Нидерланды, Бангладеш и Уругвай;
- 3) Португалия, Египет и Перу;
- 4) Канада, Великобритания и Гаити.

<input checked="" type="checkbox"/>	
1	<input type="checkbox"/>
2	<input type="checkbox"/>
3	<input type="checkbox"/>
4	<input type="checkbox"/>

17. Не имеют сухопутных границ:

- 1) Ирландия, Доминиканская Республика и Папуа – Новая Гвинея;
- 2) Кипр, Новая Зеландия и Ямайка;
- 3) Катар, Дания и Южная Корея;
- 4) Эстония, Камбоджа и Боливия.

<input checked="" type="checkbox"/>	
1	<input type="checkbox"/>
2	<input type="checkbox"/>
3	<input type="checkbox"/>
4	<input type="checkbox"/>

18. Полуостровными странами являются:

- 1) Израиль и Парагвай;
- 2) Иран и Филиппины;
- 3) Индонезия и Перу;
- 4) Италия и Турция.

<input checked="" type="checkbox"/>	
1	<input type="checkbox"/>
2	<input type="checkbox"/>
3	<input type="checkbox"/>
4	<input type="checkbox"/>

19. Островными странами являются:

- 1) Индонезия и Доминиканская Республика;
- 2) Дания и Шри-Ланка;
- 3) Исландия и Греция;
- 4) Кипр и Республика Корея.

<input checked="" type="checkbox"/>	
1	<input type="checkbox"/>
2	<input type="checkbox"/>
3	<input type="checkbox"/>
4	<input type="checkbox"/>

20. Омываются водами сразу двух океанов:

- 1) Швейцария, Монголия и Парагвай;
- 2) Финляндия, Грузия и Италия;
- 3) Египет, Колумбия и Таиланд;
- 4) Китай, Бразилия и Индия.

<input checked="" type="checkbox"/>	
1	<input type="checkbox"/>
2	<input type="checkbox"/>
3	<input type="checkbox"/>
4	<input type="checkbox"/>

21. Выходят на побережье Атлантического океана и относящихся к нему морей:

- 1) Ангола, Испания и Венесуэла;
- 2) Канада, ЮАР и Австралия;

<input checked="" type="checkbox"/>	
1	<input type="checkbox"/>
2	<input type="checkbox"/>
3	<input type="checkbox"/>
4	<input type="checkbox"/>

- 3) Судан, Бангладеш и Иран;
- 4) Вьетнам, США и Перу.



22. Выходят на побережье Индийского океана и относящихся к нему морей:

1	<input type="checkbox"/>
2	<input type="checkbox"/>
3	<input type="checkbox"/>
4	<input type="checkbox"/>

- 1) Ангола, Испания и Венесуэла;
- 2) Канада, ЮАР и Австралия;
- 3) Судан, Бангладеш и Иран;
- 4) Вьетнам, США и Перу.



23. Выходят на побережье Тихого океана и относящихся к нему морей:

1	<input type="checkbox"/>
2	<input type="checkbox"/>
3	<input type="checkbox"/>
4	<input type="checkbox"/>

- 1) Ангола, Испания и Венесуэла;
- 2) Канада, ЮАР и Австралия;
- 3) Судан, Бангладеш и Иран;
- 4) Вьетнам, США и Перу.



24. Выходят на побережье Средиземного моря и относящихся к нему морей:

1	<input type="checkbox"/>
2	<input type="checkbox"/>
3	<input type="checkbox"/>
4	<input type="checkbox"/>

- 1) Ливан, Марокко и Албания;
- 2) Венгрия, Египет и Болгария;
- 3) Португалия, Румыния и Алжир;
- 4) Ливия, Франция и Азербайджан.



25. Дунай протекает по территории:

1	<input type="checkbox"/>
2	<input type="checkbox"/>
3	<input type="checkbox"/>
4	<input type="checkbox"/>

- 1) Румынии, Венгрии и Германии;
- 2) Чехии, Болгарии и Хорватии;
- 3) Украины, Словакии и Польши;
- 4) Белоруссии, Австрии и Литвы.



26. Установите соответствие:

1	<input type="checkbox"/>
2	<input type="checkbox"/>
3	<input type="checkbox"/>
4	<input type="checkbox"/>

СТРАНА

БЫВШАЯ МЕТРОПОЛИЯ

- |              |                   |
|--------------|-------------------|
| 1) Нигерия   | А) Португалия     |
| 2) Индонезия | Б) Франция        |
| 3) Ангола    | В) Нидерланды     |
| 4) Мали      | Г) Великобритания |
|              | Д) Испания        |

27. Установите соответствие:



1	
2	
3	
4	

СТРАНА

БЫВШАЯ МЕТРОПОЛИЯ

- 1) Замбия
- 2) Демократическая Республика Конго
- 3) Чад
- 4) Мозамбик

- А) Италия
- Б) Франция
- В) Португалия
- Г) Великобритания
- Д) Бельгия

28. Установите соответствие:



1	
2	
3	
4	

СТРАНА

БЫВШАЯ КОЛОНИЯ

- 1) Великобритания
- 2) Италия
- 3) Франция
- 4) Португалия

- А) Камбоджа
- Б) Гвинея-Бисау
- В) Малайзия
- Г) Экваториальная Гвинея
- Д) Ливия

29. Установите соответствие:



1	
2	
3	
4	

СТРАНА

ГОД ОБРЕТЕНИЯ  
НЕЗАВИСИМОСТИ

- 1) Перу
- 2) Мадагаскар
- 3) Индонезия
- 4) Белиз

- А) 1960
- Б) 1981
- В) 1821
- Г) 1945
- Д) 1997

30. Установите соответствие:



1	
2	
3	
4	

ГОД ОБРЕТЕНИЯ  
НЕЗАВИСИМОСТИ

СТРАНА

- 1) 1961
- 2) 2002
- 3) 1947
- 4) 1990

- А) Индия
- Б) Сьерра-Леоне
- В) Намибия
- Г) Восточный Тимор
- Д) Ангола

**Типология стран современного мира.  
Группировки стран**



1	<input type="checkbox"/>
2	<input type="checkbox"/>
3	<input type="checkbox"/>
4	<input type="checkbox"/>

1. К группе экономически развитых стран относятся:
- 1) только страны Европы;
  - 2) только страны Европы и Азии;
  - 3) только страны Европы, Азии и Северной Америки;
  - 4) страны Европы, Азии, Северной Америки, Африки и Австралии с Океанией.



1	<input type="checkbox"/>
2	<input type="checkbox"/>
3	<input type="checkbox"/>
4	<input type="checkbox"/>

2. В Европе к группе экономически развитых стран **не** относятся:
- 1) Румыния и Украина;
  - 2) Норвегия и Австрия;
  - 3) Испания и Швеция;
  - 4) Люксембург и Ирландия.



1	<input type="checkbox"/>
2	<input type="checkbox"/>
3	<input type="checkbox"/>
4	<input type="checkbox"/>

3. В Азии к группе экономически развитых стран (кроме Японии и Израиля) относятся:
- 1) Тайвань, Южная Корея и Сингапур;
  - 2) Саудовская Аравия, ОАЭ и Кувейт;
  - 3) Пакистан, Йемен и Камбоджа;
  - 4) Филиппины, Турция и Малайзия.



1	<input type="checkbox"/>
2	<input type="checkbox"/>
3	<input type="checkbox"/>
4	<input type="checkbox"/>

4. К группе стран «переселенческого капитализма» относятся:
- 1) Австралия и Израиль;
  - 2) Египет и ЮАР;
  - 3) Мексика и Канада;
  - 4) Турция и Япония.



1	<input type="checkbox"/>
2	<input type="checkbox"/>
3	<input type="checkbox"/>
4	<input type="checkbox"/>

5. Ключевыми развивающимися странами являются:
- 1) Саудовская Аравия, Ливия и ОАЭ;
  - 2) Аргентина, Турция и Алжир;
  - 3) Мексика, Индия и Бразилия;
  - 4) Индонезия, Таиланд и Малайзия.



1	<input type="checkbox"/>
2	<input type="checkbox"/>
3	<input type="checkbox"/>
4	<input type="checkbox"/>

6. Среди перечисленных стран наиболее типичной новой индустриальной страной является:
- 1) Малайзия;
  - 2) Кувейт;
  - 3) Уругвай;
  - 4) Польша.

7. Новыми индустриальными странами второй волны (новыми «азиатскими драконами») являются:
- 1) Бруней, Иран и Оман;
  - 2) Малайзия, Филиппины и Таиланд;
  - 3) Ливан, Бахрейн и Кипр;
  - 4) Камбоджа, Монголия и Непал.
8. Финансово избыточные страны — экспортеры нефти находятся:
- 1) только в Юго-Западной Азии;
  - 2) только в Юго-Западной и Юго-Восточной Азии;
  - 3) только в Юго-Западной, Юго-Восточной Азии и Северной Африке;
  - 4) в Юго-Западной, Юго-Восточной Азии, Северной Африке и Латинской Америке.
9. К финансово избыточным странам — экспортерам нефти за пределами Азии относится:
- 1) Венесуэла;
  - 2) Ливия;
  - 3) Бруней;
  - 4) Нигерия.
10. Беднейшие страны мира (отстающие в своем развитии) находятся:
- 1) только в Африке;
  - 2) только в Африке и Азии;
  - 3) только в Африке, Азии и Латинской Америке;
  - 4) в Африке, Азии, Латинской Америке и Океании.
11. Наибольшее количество беднейших стран мира находится в:
- 1) Азии;
  - 2) Латинской Америке;
  - 3) Африке;
  - 4) Океании.
12. К беднейшим странам мира относятся:
- 1) Алжир, Перу и Шри-Ланка;
  - 2) Эфиопия, Непал и Буркина-Фасо;
  - 3) Ямайка, Маврикий и Филиппины;
  - 4) Колумбия, Иран и Египет.



1	<input type="checkbox"/>
2	<input type="checkbox"/>
3	<input type="checkbox"/>
4	<input type="checkbox"/>



1	<input type="checkbox"/>
2	<input type="checkbox"/>
3	<input type="checkbox"/>
4	<input type="checkbox"/>



1	<input type="checkbox"/>
2	<input type="checkbox"/>
3	<input type="checkbox"/>
4	<input type="checkbox"/>



1	<input type="checkbox"/>
2	<input type="checkbox"/>
3	<input type="checkbox"/>
4	<input type="checkbox"/>



1	<input type="checkbox"/>
2	<input type="checkbox"/>
3	<input type="checkbox"/>
4	<input type="checkbox"/>



1	<input type="checkbox"/>
2	<input type="checkbox"/>
3	<input type="checkbox"/>
4	<input type="checkbox"/>



1	<input type="checkbox"/>
2	<input type="checkbox"/>
3	<input type="checkbox"/>
4	<input type="checkbox"/>

13. После распада СССР в категорию беднейших стран мира попали:

- 1) Литва и Казахстан;
- 2) Белоруссия и Туркмения;
- 3) Украина и Латвия;
- 4) Таджикистан и Киргизия.



1	<input type="checkbox"/>
2	<input type="checkbox"/>
3	<input type="checkbox"/>
4	<input type="checkbox"/>

14. Беднейшими странами Западного полушария являются:

- 1) Гаити и Никарагуа;
- 2) Бразилия и Эквадор;
- 3) Уругвай и Мексика;
- 4) Венесуэла и Аргентина.



1	<input type="checkbox"/>
2	<input type="checkbox"/>
3	<input type="checkbox"/>
4	<input type="checkbox"/>

15. Странами — членами «Большой семерки» являются:

- 1) Канада и Германия;
- 2) Италия и Китай;
- 3) США и Австралия;
- 4) Испания и Великобритания.



1	<input type="checkbox"/>
2	<input type="checkbox"/>
3	<input type="checkbox"/>
4	<input type="checkbox"/>

16. Столицами стран — членов «Большой семерки» являются:

- 1) Киев, Прага и Бухарест;
- 2) Сан-Паулу, Шанхай и Мельбурн;
- 3) Берлин, Оттава и Рим;
- 4) Хельсинки, Вена и Копенгаген.



1	<input type="checkbox"/>
2	<input type="checkbox"/>
3	<input type="checkbox"/>

17. Выделите три страны, ставшие членами Европейского Союза в 2004 г.:

- А) Польша;
- Б) Австрия;
- В) Латвия;
- Г) Словакия;
- Д) Швейцария;
- Е) Испания.



1	<input type="checkbox"/>
2	<input type="checkbox"/>
3	<input type="checkbox"/>
4	<input type="checkbox"/>

18. Странами — членами Европейского Союза являются:

- 1) Ирландия, Латвия и Словакия;
- 2) Норвегия, Исландия и Швейцария;
- 3) Турция, Македония и Болгария;
- 4) Грузия, Белоруссия и Украина.

19. Выделите три страны — члена Европейского Союза:

- А) Чехия;

- Б) Хорватия;
- В) Румыния;
- Г) Македония;
- Д) Нидерланды;
- Е) Греция.

	<input checked="" type="checkbox"/>
1	<input type="checkbox"/>
2	<input type="checkbox"/>
3	<input type="checkbox"/>

20. Столицами стран — членов Европейского Союза являются:

- 1) Загреб, Берлин и Осло;
- 2) Копенгаген, Лиссабон и Братислава;
- 3) Милан, Стамбул и Гамбург;
- 4) Варшава, Берн и Рейкьявик.

	<input checked="" type="checkbox"/>
1	<input type="checkbox"/>
2	<input type="checkbox"/>
3	<input type="checkbox"/>
4	<input type="checkbox"/>

21. Странами — членами Европейского Союза, не имеющими выхода к морям, являются:

- 1) Финляндия и Швейцария;
- 2) Швейцария и Австрия;
- 3) Австрия и Люксембург;
- 4) Люксембург и Португалия.

	<input checked="" type="checkbox"/>
1	<input type="checkbox"/>
2	<input type="checkbox"/>
3	<input type="checkbox"/>
4	<input type="checkbox"/>

22. Странами — членами Европейского Союза, граничащими между собой, являются:

- 1) Греция и Венгрия;
- 2) Швеция и Норвегия;
- 3) Италия и Австрия;
- 4) Латвия и Германия.

	<input checked="" type="checkbox"/>
1	<input type="checkbox"/>
2	<input type="checkbox"/>
3	<input type="checkbox"/>
4	<input type="checkbox"/>

23. Странами — членами Организации Северо-Атлантического договора (НАТО) являются:

- 1) Португалия, Турция и Норвегия;
- 2) Канада, Саудовская Аравия и Ирландия;
- 3) Швеция, Мексика и Япония;
- 4) Нидерланды, Италия и Польша.

	<input checked="" type="checkbox"/>
1	<input type="checkbox"/>
2	<input type="checkbox"/>
3	<input type="checkbox"/>
4	<input type="checkbox"/>

24. Выделите три страны, являющиеся членами Зоны свободной торговли Северной Америки (НАФТА):

- А) Канада;
- Б) Аргентина;
- В) Ямайка;
- Г) Колумбия;
- Д) США;
- Е) Мексика.

	<input checked="" type="checkbox"/>
1	<input type="checkbox"/>
2	<input type="checkbox"/>
3	<input type="checkbox"/>





1	<input type="checkbox"/>
2	<input type="checkbox"/>
3	<input type="checkbox"/>

25. Выделите три латиноамериканские страны, являющиеся членами Азиатско-Тихоокеанского экономического сообщества (АТЭС):

- А) Перу;
- Б) Колумбия;
- В) Мексика;
- Г) Канада;
- Д) Эль-Сальвадор;
- Е) Чили.



1	<input type="checkbox"/>
2	<input type="checkbox"/>
3	<input type="checkbox"/>

26. Выделите три страны, являющиеся членами Ассоциации стран Юго-Восточной Азии (АСЕАН):

- А) Индонезия;
- Б) Вьетнам;
- В) Шри-Ланка;
- Г) Южная Корея;
- Д) Индия;
- Е) Таиланд.



1	<input type="checkbox"/>
2	<input type="checkbox"/>
3	<input type="checkbox"/>
4	<input type="checkbox"/>

27. Столицами стран — членов АСЕАН являются:

- 1) Янгон, Дакка и Исламабад;
- 2) Джакарта, Манила и Ханой;
- 3) Бангкок, Вьентьян и Пекин;
- 4) Катманду, Дели и Коломбо.



1	<input type="checkbox"/>
2	<input type="checkbox"/>
3	<input type="checkbox"/>

28. Выделите три страны, являющиеся членами Общего рынка Южного Конуса (МЕРКОСУР):

- А) Аргентина;
- Б) Перу;
- В) Мексика;
- Г) Парагвай;
- Д) Эквадор;
- Е) Бразилия.




1	<input type="checkbox"/>
2	<input type="checkbox"/>
3	<input type="checkbox"/>
4	<input type="checkbox"/>

29. Странами-членами Организации стран — экспортеров нефти (ОПЕК) являются:

- 1) Россия, Мексика и Норвегия;
- 2) Мексика, Норвегия и Венесуэла;
- 3) Норвегия, Венесуэла и Алжир;
- 4) Венесуэла, Алжир и Иран.

30. Столицами стран — членов ОПЕК являются:


- 1) Триполи, Абу-Даби и Тегеран;
- 2) Исламабад, Каракас и Джакарта;
- 3) Каир, Лондон и Оттава;
- 4) Осло, Маскат и Абуджа.

	<input checked="" type="checkbox"/>
1	<input type="checkbox"/>
2	<input type="checkbox"/>
3	<input type="checkbox"/>
4	<input type="checkbox"/>

### **Государственный строй стран мира**


1. Больше всего в мире насчитывается:

- 1) унитарных республик;
- 2) федеративных республик;
- 3) унитарных монархий;
- 4) федеративных монархий.

	<input checked="" type="checkbox"/>
1	<input type="checkbox"/>
2	<input type="checkbox"/>
3	<input type="checkbox"/>
4	<input type="checkbox"/>


2. Меньше всего в мире насчитывается:

- 1) унитарных республик;
- 2) федеративных республик;
- 3) унитарных монархий;
- 4) федеративных монархий.

	<input checked="" type="checkbox"/>
1	<input type="checkbox"/>
2	<input type="checkbox"/>
3	<input type="checkbox"/>
4	<input type="checkbox"/>


3. Парламентскими обычно бывают ... республики:

- 1) унитарные;
- 2) федеративные.

	<input checked="" type="checkbox"/>
1	<input type="checkbox"/>
2	<input type="checkbox"/>


4. Странами с республиканской формой правления являются:

- 1) Испания, Франция и Турция;
- 2) Аргентина, Пакистан и Нигерия;
- 3) Япония, Норвегия и Малайзия;
- 4) Италия, Марокко и Бельгия.

	<input checked="" type="checkbox"/>
1	<input type="checkbox"/>
2	<input type="checkbox"/>
3	<input type="checkbox"/>
4	<input type="checkbox"/>


5. Странами с монархической формой правления являются:

- 1) Испания, Франция и Индонезия;
- 2) Аргентина, Бразилия и Мексика;
- 3) Нидерланды, Швеция и ОАЭ;
- 4) Италия, Таиланд и Дания.

	<input checked="" type="checkbox"/>
1	<input type="checkbox"/>
2	<input type="checkbox"/>
3	<input type="checkbox"/>
4	<input type="checkbox"/>

6. В настоящее время абсолютные монархии сохранились:

- 1) только в Европе;
- 2) только в Азии;
- 3) только в Европе, Азии и Африке;
- 4) в Европе, Азии, Африке и Америке.

	<input checked="" type="checkbox"/>
1	<input type="checkbox"/>
2	<input type="checkbox"/>
3	<input type="checkbox"/>
4	<input type="checkbox"/>



1

2

3

4

7. Абсолютными монархиями являются:

- 1) Швеция и Малайзия;
- 2) Малайзия и Непал;
- 3) Непал и Кувейт;
- 4) Кувейт и Саудовская Аравия.



1

2

3

4

8. Теократическими монархиями являются:

- 1) Дания и Бруней;
- 2) Саудовская Аравия и Ватикан;
- 3) Великобритания и Испания;
- 4) Кувейт и Таиланд.



1

2

3

4

9. В Европе странами с монархической формой правления являются:

- 1) Великобритания, Исландия и Греция;
- 2) Нидерланды, Эстония и Дания;
- 3) Испания, Люксембург и Швеция;
- 4) Болгария, Португалия и Австрия.



1

2

3

4

10. В Азии странами с монархической формой правления являются:

- 1) Турция, Бангладеш и Южная Корея;
- 2) Малайзия, Кувейт и Филиппины;
- 3) Бахрейн, Индонезия и Пакистан;
- 4) Камбоджа, Оман и Япония.



1

2

3

4

11. В Африке странами с монархической формой правления являются:

- 1) Оман и Судан;
- 2) Нигерия и Зимбабве;
- 3) Лесото и Марокко;
- 4) Ангола и Сенегал.



1

2

3

4

12. Больше всего стран в составе Содружества (официальным главой которых является король (королева) Великобритании) насчитывается в:

- 1) Азии;
- 2) Латинской Америке;
- 3) Европе;
- 4) Африке.



1

2

3

4

13. Федеративное административно-территориальное устройство характерно для:

- 1) Индии, Польши и Канады;
- 2) Бразилии, Австрии и Пакистана;

- 3) Алжира, Мексики и Финляндии;
- 4) Колумбии, Египта и Южной Кореи.

14. Федеративными монархиями являются:

- 1) Великобритания и Норвегия;
- 2) Малайзия и Бельгия;
- 3) Нидерланды и Япония;
- 4) Испания и Люксембург.

	<input checked="" type="checkbox"/>
1	<input type="checkbox"/>
2	<input type="checkbox"/>
3	<input type="checkbox"/>
4	<input type="checkbox"/>

15. Федеративное административно-территориальное устройство в Европе имеют:

- 1) Германия и Швейцария;
- 2) Болгария и Австрия;
- 3) Италия и Швеция;
- 4) Бельгия и Венгрия.

	<input checked="" type="checkbox"/>
1	<input type="checkbox"/>
2	<input type="checkbox"/>
3	<input type="checkbox"/>
4	<input type="checkbox"/>

16. Федеративное административно-территориальное устройство в Азии имеют:

- 1) Пакистан и Индонезия;
- 2) Монголия и Саудовская Аравия;
- 3) Турция и Вьетнам;
- 4) Индия и Малайзия.

	<input checked="" type="checkbox"/>
1	<input type="checkbox"/>
2	<input type="checkbox"/>
3	<input type="checkbox"/>
4	<input type="checkbox"/>

17. Федеративное административно-территориальное устройство в Африке имеют:

- 1) Эфиопия и Египет;
- 2) Мозамбик и Ангола;
- 3) Нигерия и ЮАР;
- 4) Камерун и Танзания.

	<input checked="" type="checkbox"/>
1	<input type="checkbox"/>
2	<input type="checkbox"/>
3	<input type="checkbox"/>
4	<input type="checkbox"/>

18. Федеративное административно-территориальное устройство в Америке имеют:

- 1) Аргентина и Венесуэла;
- 2) Боливия и Мексика;
- 3) Колумбия и Парагвай;
- 4) США и Эквадор.

	<input checked="" type="checkbox"/>
1	<input type="checkbox"/>
2	<input type="checkbox"/>
3	<input type="checkbox"/>
4	<input type="checkbox"/>

## ТЕМА 2

### ГЕОГРАФИЯ МИРОВЫХ ПРИРОДНЫХ РЕСУРСОВ



1	<input type="checkbox"/>
2	<input type="checkbox"/>
3	<input type="checkbox"/>
4	<input type="checkbox"/>

1. Основная часть разведанных запасов нефти и природного газа сосредоточена в:

- 1) Азии;
- 2) Австралии и Океании;
- 3) Африке;
- 4) Латинской Америке.



1	<input type="checkbox"/>
2	<input type="checkbox"/>
3	<input type="checkbox"/>
4	<input type="checkbox"/>

2. Суммарно наибольшими запасами нефти и природного газа обладают:

- 1) Венесуэла, Нигерия и Индонезия;
- 2) Украина, Болгария и Польша;
- 3) Австралия, Индия и Эквадор;
- 4) Греция, Португалия и Финляндия.



1	<input type="checkbox"/>
2	<input type="checkbox"/>
3	<input type="checkbox"/>
4	<input type="checkbox"/>

3. Крупнейшими разведанными запасами нефти в Европе обладают:

- 1) Румыния и Австрия;
- 2) Германия и Венгрия;
- 3) Великобритания и Норвегия;
- 4) Швеция и Чехия.



1	<input type="checkbox"/>
2	<input type="checkbox"/>
3	<input type="checkbox"/>
4	<input type="checkbox"/>

4. Изучите данные таблицы:

Показатель	Запасы нефти (2001 г.), млрд т	Добыча нефти (2000 г.), млн т
Саудовская Аравия	36,0	440
Кувейт	13,3	106
Ливия	3,8	81
Венесуэла	11,2	173

Если объем добычи не изменится, то страной, наиболее обеспеченной запасами нефти, следует считать:

- 1) Саудовскую Аравию;
- 2) Кувейт;
- 3) Ливию;
- 4) Венесуэлу.

5. Изучите данные таблицы:

Показатель	Запасы нефти (2001 г.), млрд т	Добыча нефти (2000 г.), млн т
Иран	12,3	193
ОАЭ	13,0	121
Великобритания	0,7	127
Ирак	15,2	133

Если объем добычи не изменится, то страной, наименее обеспеченной запасами нефти, следует считать:

- 1) Иран;
- 2) ОАЭ;
- 3) Великобританию;
- 4) Ирак.



1	<input type="checkbox"/>
2	<input type="checkbox"/>
3	<input type="checkbox"/>
4	<input type="checkbox"/>

6. Изучите данные таблицы:

Показатель	Разведанные запасы природного газа, трлн м <sup>3</sup>	Объем добычи природного газа (2000 г.), млрд м <sup>3</sup>
Иран	23,0	57,0
Алжир	4,5	85,0
США	5,0	544,0
Венесуэла	4,2	31,0

Если объем добычи не изменится, то страной, наименее обеспеченной запасами природного газа, следует считать:

- 1) Иран;
- 2) Алжир;
- 3) США;
- 4) Венесуэлу.



1	<input type="checkbox"/>
2	<input type="checkbox"/>
3	<input type="checkbox"/>
4	<input type="checkbox"/>

7. Крупнейшими разведанными запасами каменного угля в мире обладают:

- 1) Германия и Индонезия;
- 2) Индия и Великобритания;



1	<input type="checkbox"/>
2	<input type="checkbox"/>
3	<input type="checkbox"/>
4	<input type="checkbox"/>

- 3) Колумбия и Австралия;
- 4) США и Россия.



8. Суммарно наибольшими запасами угля обладают:

1

2

3

4

- 1) Турция, Бразилия и Италия;
- 2) Австралия, Польша и ЮАР;
- 3) Мексика, Нигерия и Таиланд;
- 4) Бельгия, Пакистан и Чили.



9. Суммарно наибольшими запасами угля в Европе обладают:

1

2

3

4

- 1) Португалия, Нидерланды и Финляндия;
- 2) Греция, Венгрия и Болгария;
- 3) Исландия, Чехия и Хорватия;
- 4) Великобритания, Германия и Польша.



10. Изучите данные таблицы:

1

2

3

4

Показатель	Разведанные запасы угля, млрд т	Объем добычи угля (2000 г.), млн т
Польша	25	162
Китай	105	1 045
Австралия	85	285
Индия	23	333

Если объем добычи не изменится, то страной, наиболее обеспеченной запасами угля, следует считать:

- 1) Польшу;
- 2) Китай;
- 3) Австралию;
- 4) Индию.



11. Из перечисленных стран наибольшими запасами железной руды обладают:

1

2

3

4

- 1) Либерия и Мавритания;
- 2) Перу и Франция;
- 3) Бразилия и Индия;
- 4) Швеция и Чили.

12. Изучите данные таблицы:



Показатель	Разведанные запасы железной руды, млрд т	Объем добычи железной руды (2000 г.), млн т
Швеция	3,4	20,6
Канада	25,3	37,8
Бразилия	49,3	197,7
Австралия	23,4	172,9

1	<input type="checkbox"/>
2	<input type="checkbox"/>
3	<input type="checkbox"/>
4	<input type="checkbox"/>

Если объем добычи не изменится, то страной, наиболее обеспеченной запасами железной руды, следует считать:

- 1) Швецию;
- 2) Канаду;
- 3) Бразилию;
- 4) Австралию.

13. Из перечисленных стран наибольшими запасами бокситов обладают:



- 1) ЮАР и Германия;
- 2) Канада и Норвегия;
- 3) Гвинея и Бразилия;
- 4) Россия и США.

1	<input type="checkbox"/>
2	<input type="checkbox"/>
3	<input type="checkbox"/>
4	<input type="checkbox"/>

14. Из перечисленных стран наибольшими запасами медных и полиметаллических руд обладают:



- 1) Дания и Нидерланды;
- 2) Суринам и Ямайка;
- 3) Болгария и Польша;
- 4) Перу и Австралия.

1	<input type="checkbox"/>
2	<input type="checkbox"/>
3	<input type="checkbox"/>
4	<input type="checkbox"/>

15. Из перечисленных стран наибольшими запасами фосфоритов обладают:



- 1) США, Казахстан и Марокко;
- 2) Япония, Нидерланды и Куба;
- 3) Мавритания, Филиппины и Аргентина;
- 4) Канада, Нигерия и Пакистан.

1	<input type="checkbox"/>
2	<input type="checkbox"/>
3	<input type="checkbox"/>
4	<input type="checkbox"/>





16. Крупнейшими запасами водных ресурсов (полного речного стока) обладает:

1

2

3

4

- 1) Россия;
- 2) Бразилия;
- 3) Швеция;
- 4) Бангладеш.



17. Из перечисленных стран наибольшими водными ресурсами обладают:

1

2

3

4

- 1) Финляндия и Нидерланды;
- 2) Канада и Бангладеш;
- 3) Египет и Саудовская Аравия;
- 4) Монголия и Афганистан.



18. Из перечисленных стран наибольшая обеспеченность ресурсами полного речного стока на душу населения характерна для:

1

2

3

4

- 1) Ирана и Австралии;
- 2) Индии и Индонезии;
- 3) Германии и Италии;
- 4) Норвегии и Габона.



19. Из перечисленных стран наименьшая обеспеченность ресурсами полного речного стока на душу населения характерна для:

1

2

3

4

- 1) Новой Зеландии и Либерии;
- 2) Конго и Бангладеш;
- 3) Кипра и Египта;
- 4) Ливии и Израиля.



20. Из перечисленных стран наибольшими запасами гидроэнергетических ресурсов обладают:

1

2

3

4

- 1) Венгрия и Пакистан;
- 2) Китай и Бразилия;
- 3) Иран и Йемен;
- 4) Швеция и Австрия.



21. Эффективная часть имеющегося гидроэнергетического потенциала уже практически полностью использована в:

1

2

3

4

- 1) Азии;
- 2) Латинской Америке;
- 3) Африке;
- 4) Европе.

22. Одним из крупнейших в мире гидроэнергопотенциалов, который в настоящее время используется уже на 2/3, обладает:



1	<input type="checkbox"/>
2	<input type="checkbox"/>
3	<input type="checkbox"/>
4	<input type="checkbox"/>

- 1) Перу;
- 2) Германия;
- 3) Канада;
- 4) Бразилия.

23. Одним из крупнейших в мире гидроэнергопотенциалов, который до сих пор практически не используется, обладает:



1	<input type="checkbox"/>
2	<input type="checkbox"/>
3	<input type="checkbox"/>
4	<input type="checkbox"/>

- 1) Япония;
- 2) Норвегия;
- 3) Австралия;
- 4) Демократическая Республика Конго.

24. В структуре сельскохозяйственных угодий пашня преобладает в:



1	<input type="checkbox"/>
2	<input type="checkbox"/>
3	<input type="checkbox"/>
4	<input type="checkbox"/>

- 1) Новой Зеландии и Аргентине;
- 2) Дании и Бангладеш;
- 3) Украине и Казахстане;
- 4) Боливии и Монголии.

25. В структуре сельскохозяйственных угодий пастбища преобладают в:



1	<input type="checkbox"/>
2	<input type="checkbox"/>
3	<input type="checkbox"/>
4	<input type="checkbox"/>

- 1) Бразилии и Австралии;
- 2) России и Венгрии;
- 3) Индии и Финляндии;
- 4) Польше и Южной Корее.

26. Из перечисленных стран наибольшая обеспеченность пашней на душу населения характерна для:



1	<input type="checkbox"/>
2	<input type="checkbox"/>
3	<input type="checkbox"/>
4	<input type="checkbox"/>

- 1) Швейцарии и Вьетнама;
- 2) Пакистана и Китая;
- 3) Канады и Аргентины;
- 4) Южной Кореи и Бельгии.

27. Из перечисленных стран наименьшая обеспеченность пашней на душу населения характерна для:



1	<input type="checkbox"/>
2	<input type="checkbox"/>
3	<input type="checkbox"/>
4	<input type="checkbox"/>

- 1) Казахстана и Австралии;
- 2) Аргентины и России;
- 3) США и Австралии;
- 4) Японии и Бангладеш.



28. Лесопокрытая площадь наиболее велика в:

1

1) Азии;

2

2) Северной Америке;

3

3) Африке;

4

4) Европе.



29. Среди перечисленных стран площадь лесов наиболее велика в:

1

1) Греции и Польше;

2

2) Исландии и Уругвае;

3

3) Экваториальной Гвинее и Шри-Ланке;

4

4) Перу и Колумбии.



30. Из перечисленных стран наибольшая лесистость характерна для:

1

1) Афганистана и ЮАР;

2

2) Монголии и Алжира;

3

3) Папуа – Новой Гвинеи и Финляндии;

4

4) Мавритании и Саудовской Аравии.



31. Из перечисленных стран наименьшая лесистость характерна для:

1

1) Габона и Лаоса;

2

2) Конго и Венесуэлы;

3

3) Туркменистана и Ливии;

4

4) Швеции и Колумбии.



32. Среди перечисленных стран прибрежные воды наиболее богаты рыбными ресурсами в:

1

1) Перу и Намибии;

2

2) Эстонии и ОАЭ;

3

3) Греции и Финляндии;

4

4) Египте и Бразилии.

### ТЕМА 3

## ГЕОГРАФИЯ НАСЕЛЕНИЯ МИРА

### Численность и естественное движение населения

1. Численность населения земного шара составляет:

- 1) около 4 млрд чел.;
- 2) немногим менее 5 млрд чел.;
- 3) примерно 450 млн чел.;
- 4) более 6 млрд чел.



1	<input type="checkbox"/>
2	<input type="checkbox"/>
3	<input type="checkbox"/>
4	<input type="checkbox"/>

2. Из перечисленных стран численность населения превышает 100 млн чел. лишь в:

- 1) Японии;
- 2) Саудовской Аравии;
- 3) Польше;
- 4) ЮАР.



1	<input type="checkbox"/>
2	<input type="checkbox"/>
3	<input type="checkbox"/>
4	<input type="checkbox"/>

3. Численность населения превышает 100 млн чел. в:

- 1) Бангладеш и Испании;
- 2) Индонезии и Нигерии;
- 3) Бразилии и Канаде;
- 4) ЮАР и Пакистане.



1	<input type="checkbox"/>
2	<input type="checkbox"/>
3	<input type="checkbox"/>
4	<input type="checkbox"/>

4. Страной, численность населения которой не превышает 100 млн чел., является:

- 1) Пакистан;
- 2) Нигерия;
- 3) Канада;
- 4) Бангладеш.



1	<input type="checkbox"/>
2	<input type="checkbox"/>
3	<input type="checkbox"/>
4	<input type="checkbox"/>

5. Странами, численность населения которых превышает 200 млн чел., являются:

- 1) Бангладеш и Россия;
- 2) Австралия и Индия;
- 3) Китай и США;
- 4) ЮАР и Филиппины.



1	<input type="checkbox"/>
2	<input type="checkbox"/>
3	<input type="checkbox"/>
4	<input type="checkbox"/>



1	<input type="checkbox"/>
2	<input type="checkbox"/>
3	<input type="checkbox"/>
4	<input type="checkbox"/>

6. Столицами стран, численность населения которых превышает 200 млн чел., являются:
- 1) Лос-Анджелес и Лима;
  - 2) Дели и Джакарта;
  - 3) Мельбурн и Сан-Паулу;
  - 4) Сеул и Карачи.



1	<input type="checkbox"/>
2	<input type="checkbox"/>
3	<input type="checkbox"/>
4	<input type="checkbox"/>

7. Европейской страной с самым многочисленным населением является:
- 1) Украина;
  - 2) Румыния;
  - 3) Великобритания;
  - 4) Германия.



1	<input type="checkbox"/>
2	<input type="checkbox"/>
3	<input type="checkbox"/>
4	<input type="checkbox"/>

8. По численности населения сравнимы:
- 1) Германия и Вьетнам;
  - 2) Швеция и Колумбия;
  - 3) Эфиопия и Лаос;
  - 4) Аргентина и Новая Зеландия.



1	<input type="checkbox"/>
2	<input type="checkbox"/>
3	<input type="checkbox"/>
4	<input type="checkbox"/>

9. В Европе по численности населения сравнимы:
- 1) Чехия и Исландия;
  - 2) Бельгия и Словения;
  - 3) Польша и Испания;
  - 4) Люксембург и Португалия.



<input type="checkbox"/>
<input type="checkbox"/>
<input type="checkbox"/>
<input type="checkbox"/>

10. Расположите страны в порядке уменьшения численности их населения:
- А) Египет;
  - Б) Перу;
  - В) Индонезия;
  - Г) Молдавия.



<input type="checkbox"/>
<input type="checkbox"/>
<input type="checkbox"/>
<input type="checkbox"/>

11. Расположите европейские страны в порядке увеличения численности их населения:
- А) Нидерланды;
  - Б) Польша;
  - В) Норвегия;
  - Г) Италия.

12. Расположите азиатские страны в порядке уменьшения численности их населения:
- А) Пакистан;
  - Б) Шри-Ланка;
  - В) Турция;
  - Г) Монголия.
13. Расположите латиноамериканские страны в порядке увеличения численности их населения:
- А) Уругвай;
  - Б) Мексика;
  - В) Бразилия;
  - Г) Перу.
14. В настоящее время наиболее быстрыми темпами увеличивается численность населения:
- 1) Азии;
  - 2) Латинской Америки;
  - 3) Европы;
  - 4) Африки.
15. Наибольшая рождаемость характерна для стран:
- 1) Латинской Америки;
  - 2) Западной Африки;
  - 3) Северной Европы;
  - 4) Юго-Восточной Азии.
16. Из европейских стран наибольшая рождаемость характерна для:
- 1) Швеции;
  - 2) Австрии;
  - 3) Италии;
  - 4) Албании.
17. Из перечисленных стран наименьшая рождаемость характерна для:
- 1) Гватемалы и Нигера;
  - 2) Кении и Афганистана;
  - 3) Никарагуа и Камеруна;
  - 4) Южной Кореи и Уругвая.

	<input checked="" type="checkbox"/>
<input type="checkbox"/>	
<input type="checkbox"/>	
<input type="checkbox"/>	
<input type="checkbox"/>	
	<input checked="" type="checkbox"/>
<input type="checkbox"/>	
<input type="checkbox"/>	
<input type="checkbox"/>	
<input type="checkbox"/>	
	<input checked="" type="checkbox"/>
<input type="checkbox"/>	
<input type="checkbox"/>	
<input type="checkbox"/>	
<input type="checkbox"/>	
	<input checked="" type="checkbox"/>
<input type="checkbox"/>	
<input type="checkbox"/>	
<input type="checkbox"/>	
<input type="checkbox"/>	
	<input checked="" type="checkbox"/>
<input type="checkbox"/>	
<input type="checkbox"/>	
<input type="checkbox"/>	
<input type="checkbox"/>	
	<input checked="" type="checkbox"/>
<input type="checkbox"/>	
<input type="checkbox"/>	
<input type="checkbox"/>	
<input type="checkbox"/>	



1	<input type="checkbox"/>
---	--------------------------

2	<input type="checkbox"/>
---	--------------------------

3	<input type="checkbox"/>
---	--------------------------

4	<input type="checkbox"/>
---	--------------------------

18. Из перечисленных стран наибольшая смертность характерна для:

- 1) Малайзии;
- 2) Швеции;
- 3) Венесуэлы;
- 4) Туниса.



1	<input type="checkbox"/>
---	--------------------------

2	<input type="checkbox"/>
---	--------------------------

3	<input type="checkbox"/>
---	--------------------------

4	<input type="checkbox"/>
---	--------------------------

19. Из перечисленных стран наибольшая смертность характерна для:

- 1) Афганистана и Чада;
- 2) ОАЭ и Бахрейна;
- 3) Дании и Австрии;
- 4) Аргентины и Эквадора.



1	<input type="checkbox"/>
---	--------------------------

2	<input type="checkbox"/>
---	--------------------------

3	<input type="checkbox"/>
---	--------------------------

4	<input type="checkbox"/>
---	--------------------------

20. Из перечисленных стран наименьшая смертность характерна для:

- 1) Швеции и Германии;
- 2) Кувейта и Катара;
- 3) Латвии и Венгрии;
- 4) Чада и Мали.



1	<input type="checkbox"/>
---	--------------------------

2	<input type="checkbox"/>
---	--------------------------

3	<input type="checkbox"/>
---	--------------------------

4	<input type="checkbox"/>
---	--------------------------

21. Наибольший естественный прирост населения характерен для стран:

- 1) Северной Европы;
- 2) Латинской Америки;
- 3) Юго-Западной Азии;
- 4) Центрально-Восточной Европы.



1	<input type="checkbox"/>
---	--------------------------

2	<input type="checkbox"/>
---	--------------------------

3	<input type="checkbox"/>
---	--------------------------

4	<input type="checkbox"/>
---	--------------------------

22. Из перечисленных стран наименьший естественный прирост населения характерен для:

- 1) Колумбии;
- 2) Ирана;
- 3) Эфиопии;
- 4) Швеции.



1	<input type="checkbox"/>
---	--------------------------

2	<input type="checkbox"/>
---	--------------------------

3	<input type="checkbox"/>
---	--------------------------

4	<input type="checkbox"/>
---	--------------------------

23. Естественная убыль населения характерна для:

- 1) Италии, Венгрии и Латвии;
- 2) Швеции, Франции и Аргентины;
- 3) Китая, Австралии и США;
- 4) Нидерландов, Боливии и Дании.

24. Благодаря высокому естественному приросту в скором времени опередят Россию по численности населения:

- 1) Бангладеш и Нигерия;
- 2) Аргентина и ЮАР;
- 3) Боливия и Япония;
- 4) Индонезия и Бразилия.

1	<input type="checkbox"/>
2	<input type="checkbox"/>
3	<input type="checkbox"/>
4	<input type="checkbox"/>

25. Из перечисленных стран наибольшая доля детей в возрастной структуре населения характерна для:

- 1) Эстонии;
- 2) Иордании;
- 3) Китая;
- 4) Испании.

1	<input type="checkbox"/>
2	<input type="checkbox"/>
3	<input type="checkbox"/>
4	<input type="checkbox"/>

26. Из перечисленных стран наибольшая доля детей в возрастной структуре населения характерна для:

- 1) Японии;
- 2) Нидерландов;
- 3) Индии;
- 4) Канады.

1	<input type="checkbox"/>
2	<input type="checkbox"/>
3	<input type="checkbox"/>
4	<input type="checkbox"/>

27. Из перечисленных стран наибольшая доля детей в возрастной структуре населения характерна для:

- 1) Новой Зеландии и Португалии;
- 2) Ливии и Омана;
- 3) Южной Кореи и Чили;
- 4) Грузии и США.

1	<input type="checkbox"/>
2	<input type="checkbox"/>
3	<input type="checkbox"/>
4	<input type="checkbox"/>

28. Расположите страны в порядке убывания доли детей в возрастной структуре населения:

- А) Колумбия;
- Б) Дания;
- В) Нигер;
- Г) Польша.

<input type="checkbox"/>
<input type="checkbox"/>
<input type="checkbox"/>
<input type="checkbox"/>

29. Из перечисленных стран наибольшая доля пожилых людей в возрастной структуре населения характерна для:

- 1) Анголы;
- 2) Эквадора;
- 3) Японии;
- 4) Ливии.

1	<input type="checkbox"/>
2	<input type="checkbox"/>
3	<input type="checkbox"/>
4	<input type="checkbox"/>





30. Наибольшая доля пожилых людей в возрастной структуре населения характерна для:

- 1) Индии и Анголы;
- 2) Аргентины и Кубы;
- 3) Швеции и Германии;
- 4) Алжира и Вьетнама.



31. Из перечисленных стран наибольшая доля пожилых людей в возрастной структуре населения характерна для:

- 1) Латвии и Дании;
- 2) Марокко и Кении;
- 3) Афганистана и Турции;
- 4) Перу и Мексики.



32. Расположите страны в порядке убывания доли пожилых людей в возрастной структуре населения:

- А) Бразилия;
- Б) Япония;
- В) Кувейт;
- Г) Чехия.

### ***Трудовые ресурсы***



1. Наибольшая численность трудовых ресурсов характерна для:

- 1) Пакистана;
- 2) Нигерии;
- 3) Германии;
- 4) Китая.



2. Из перечисленных стран наиболее многочисленными трудовыми ресурсами обладает:

- 1) США;
- 2) Великобритания;
- 3) Индия;
- 4) Германия.

3. Из перечисленных стран наиболее многочисленными трудовыми ресурсами обладает:
- 1) Бразилия;
  - 2) ЮАР;
  - 3) Австралия;
  - 4) Франция.
4. Выберите пару стран, в которой первой названа страна с большей численностью трудовых ресурсов:
- 1) Швеция и Германия;
  - 2) Россия и США;
  - 3) Индонезия и Канада;
  - 4) Эфиопия и Япония.
5. Из перечисленных стран трудовые ресурсы составляют наибольшую долю в общей численности населения в:
- 1) Бангладеш и Пакистане;
  - 2) Йемене и Египте;
  - 3) Нигерии и Танзании;
  - 4) ОАЭ и Кувейте.
6. Из перечисленных стран наивысшей квалификацией обладают трудовые ресурсы в:
- 1) Камбодже и Монголии;
  - 2) Саудовской Аравии и ЮАР;
  - 3) Боливии и Парагвае;
  - 4) Южной Кореи и Швеции.
7. Из перечисленных стран наибольшая доля неграмотного населения наблюдается в:
- 1) Афганистане и Сомали;
  - 2) Молдавии и Казахстане;
  - 3) Уругвае и Таиланде;
  - 4) Финляндии и Венесуэле.
8. Наибольшая доля занятых в промышленности характерна для:
- 1) Багамских островов и Малави;
  - 2) Австрии и Канады;
  - 3) Судана и Мали;
  - 4) Туркменистана и Саудовской Аравии.

<input checked="" type="checkbox"/>	<input type="checkbox"/>
1	<input type="checkbox"/>
2	<input type="checkbox"/>
3	<input type="checkbox"/>
4	<input type="checkbox"/>
<input checked="" type="checkbox"/>	<input type="checkbox"/>
1	<input type="checkbox"/>
2	<input type="checkbox"/>
3	<input type="checkbox"/>
4	<input type="checkbox"/>
<input checked="" type="checkbox"/>	<input type="checkbox"/>
1	<input type="checkbox"/>
2	<input type="checkbox"/>
3	<input type="checkbox"/>
4	<input type="checkbox"/>
<input checked="" type="checkbox"/>	<input type="checkbox"/>
1	<input type="checkbox"/>
2	<input type="checkbox"/>
3	<input type="checkbox"/>
4	<input type="checkbox"/>
<input checked="" type="checkbox"/>	<input type="checkbox"/>
1	<input type="checkbox"/>
2	<input type="checkbox"/>
3	<input type="checkbox"/>
4	<input type="checkbox"/>



9. Наименьшая доля занятых в промышленности характерна для:

1) Ливии и Китая;

2) Бангладеш и Танзании;

3) Габона и ОАЭ;

4) Алжира и Южной Кореи.



10. Странами, где в промышленности занято больше трудовых ресурсов, чем в сельском хозяйстве, являются:

1) Турция и Гвинея;

2) Бразилия и Индия;

3) Мали и Австралия;

4) Германия и Венесуэла.



11. Странами, в которых свыше 1/2 экономически активного населения занято в сельском хозяйстве, являются:

1) Кувейт и Нидерланды;

2) Бурунди и Эфиопия;

3) Дания и Вьетнам;

4) Аргентина и Испания.



12. Наибольшая доля занятых в сельском хозяйстве характерна для:

1) Мьянмы и Эфиопии;

2) Чехии и Венесуэлы;

3) Франции и Литвы;

4) Швеции и США.



13. Наименьшая доля занятых в сельском хозяйстве характерна для:

1) Мали и Камбоджи;

2) Германии и Сингапура;

3) Италии и Аргентины;

4) Нигера и Таджикистана.



14. Численность занятых в сельском хозяйстве превышает численность занятых в промышленности в:

1) Эквадоре и Индонезии;

2) Дании и Нидерландах;

3) Австралии и Канаде;

4) Финляндии и Италии.

15. Численность занятых в сельском хозяйстве превышает численность занятых в сфере услуг в:



1	<input type="checkbox"/>
2	<input type="checkbox"/>
3	<input type="checkbox"/>
4	<input type="checkbox"/>

- 1) Греции и Колумбии;
- 2) Руанде и ЮАР;
- 3) Швейцарии и Польше;
- 4) Аргентине и Новой Зеландии.

16. Трудоинтенсивное сельское хозяйство в наибольшей степени характерно для:



1	<input type="checkbox"/>
2	<input type="checkbox"/>
3	<input type="checkbox"/>
4	<input type="checkbox"/>

- 1) Венгрии и Японии;
- 2) Канады и Италии;
- 3) Индии и Вьетнама;
- 4) Аргентины и Болгарии.

17. Свыше 2/3 экономически активного населения занято в производственной сфере в:



1	<input type="checkbox"/>
2	<input type="checkbox"/>
3	<input type="checkbox"/>
4	<input type="checkbox"/>

- 1) Бангладеш и Лаосе;
- 2) Лаосе и Бельгии;
- 3) Бельгии и Австралии;
- 4) Австралии и Никарагуа.

18. Наибольшая доля занятых в сфере услуг характерна для:



1	<input type="checkbox"/>
2	<input type="checkbox"/>
3	<input type="checkbox"/>
4	<input type="checkbox"/>

- 1) Кипра и Багамских Островов;
- 2) Бразилии и Алжира;
- 3) Киргизии и Туркмении;
- 4) Нигерии и Индонезии.

19. Наименьшая доля занятых в сфере услуг характерна для:



1	<input type="checkbox"/>
2	<input type="checkbox"/>
3	<input type="checkbox"/>
4	<input type="checkbox"/>

- 1) Швейцарии и Панамы;
- 2) Мозамбика и Анголы;
- 3) США и Люксембурга;
- 4) Австрии и Нидерландов.

20. Из перечисленных стран наибольшая численность безработных характерна для:



1	<input type="checkbox"/>
2	<input type="checkbox"/>
3	<input type="checkbox"/>
4	<input type="checkbox"/>

- 1) Японии;
- 2) Чили;
- 3) Индии;
- 4) России.

**Расовый, национальный и религиозный состав населения мира**



1. Европеиды составляют подавляющее большинство населения:

1) США и Австралии;

2) Нигерии и Индонезии;

3) Японии и Египта;

4) Мадагаскара и Турции.



2. Монголоиды составляют подавляющее большинство населения:

1) Норвегии и Италии;

2) Конго и Эфиопии;

3) Монголии и Южной Кореи;

4) Афганистана и Индии.



3. Негроиды составляют подавляющее большинство населения:

1) Канады и Новой Зеландии;

2) ЮАР и Кении;

3) Китая и Малайзии;

4) Аргентины и Перу.



4. Всего в мире насчитывается около:

1) 1–2 тыс. народов;

2) 500 народов;

3) 3–4 тыс. народов;

4) 100 тыс. народов.



5. Наибольшее число людей в мире говорит на языках ... языковой семьи:

1) индоевропейской;

2) нигеро-кордофанской;

3) сино-тибетской;

4) афразийской.



6. Больше всего народов относится к ... языковой семье:

1) афразийской;

2) индоевропейской;

3) сино-тибетской;

4) нигеро-кордофанской.

7. Из перечисленных народов мира наибольшей численностью обладают:

- 1) мексиканцы и французы;
- 2) хиндустанцы и бразильцы;
- 3) русские и иранцы (персы);
- 4) немцы и вьетнамцы.

1	<input type="checkbox"/>
2	<input type="checkbox"/>
3	<input type="checkbox"/>
4	<input type="checkbox"/>

8. Из перечисленных народов численность свыше 100 млн чел. имеют:

- 1) украинцы и испанцы;
- 2) пенджабцы и шведы;
- 3) итальянцы и поляки;
- 4) бенгальцы и японцы.

1	<input type="checkbox"/>
2	<input type="checkbox"/>
3	<input type="checkbox"/>
4	<input type="checkbox"/>

9. Однонациональными странами являются:

- 1) Швейцария и Индонезия;
- 2) Япония и Дания;
- 3) ЮАР и Пакистан;
- 4) Китай и Россия.

1	<input type="checkbox"/>
2	<input type="checkbox"/>
3	<input type="checkbox"/>
4	<input type="checkbox"/>

10. Двунациональными странами являются:

- 1) Португалия и Вьетнам;
- 2) Конго и Армения;
- 3) Норвегия и Иран;
- 4) Канада и Бельгия.

1	<input type="checkbox"/>
2	<input type="checkbox"/>
3	<input type="checkbox"/>
4	<input type="checkbox"/>

11. Многонациональными странами являются:

- 1) Уругвай и Ирландия;
- 2) Индия и Нигерия;
- 3) Бразилия и Швеция;
- 4) Япония и Египет.

1	<input type="checkbox"/>
2	<input type="checkbox"/>
3	<input type="checkbox"/>
4	<input type="checkbox"/>

12. Установите соответствие:

СТРАНА

ОФИЦИАЛЬНЫЙ ЯЗЫК

- 1) Австрия
- 2) Бразилия
- 3) Куба
- 4) Зимбабве

- А) немецкий
- Б) английский
- В) французский
- Г) португальский
- Д) испанский

1	<input type="checkbox"/>
2	<input type="checkbox"/>
3	<input type="checkbox"/>
4	<input type="checkbox"/>



13. Установите соответствие:

1	<input type="checkbox"/>
2	<input type="checkbox"/>
3	<input type="checkbox"/>
4	<input type="checkbox"/>

СТРАНА

- 1) Мексика
- 2) Ливан
- 3) Конго
- 4) Ангола

ОФИЦИАЛЬНЫЙ ЯЗЫК

- А) французский
- Б) арабский
- В) испанский
- Г) немецкий
- Д) португальский



14. Установите соответствие:

1	<input type="checkbox"/>
2	<input type="checkbox"/>
3	<input type="checkbox"/>
4	<input type="checkbox"/>

ОФИЦИАЛЬНЫЙ ЯЗЫК

- 1) английский
- 2) португальский
- 3) испанский
- 4) французский

СТРАНА

- А) Венесуэла
- Б) Мали
- В) Лаос
- Г) Мозамбик
- Д) Нигерия



15. Установите соответствие:

1	<input type="checkbox"/>
2	<input type="checkbox"/>
3	<input type="checkbox"/>
4	<input type="checkbox"/>

ОФИЦИАЛЬНЫЙ ЯЗЫК (ЯЗЫКИ)

- 1) французский, фламандский и немецкий
- 2) английский и маори
- 3) пушту и дари
- 4) испанский, кечуа и аймара

СТРАНА

- А) Новая Зеландия
- Б) Перу
- В) Мозамбик
- Г) Афганистан
- Д) Бельгия



16. Преобладающая часть верующего населения исповедует католицизм в:

1	<input type="checkbox"/>
2	<input type="checkbox"/>
3	<input type="checkbox"/>
4	<input type="checkbox"/>

- 1) Монголии и Таиланде;
- 2) Ирландии и Парагвае;
- 3) Норвегии и Армении;
- 4) Казахстане и Литве.



17. Преобладающая часть верующего населения исповедует протестантизм в:

1	<input type="checkbox"/>
2	<input type="checkbox"/>
3	<input type="checkbox"/>
4	<input type="checkbox"/>

- 1) Монголии и Греции;
- 2) Греции и Алжире;
- 3) Алжире и Финляндии;
- 4) Финляндии и Дании.

18. Преобладающая часть населения исповедует православие в:


- 1) Греции и Румынии;
- 2) Чили и Германии;
- 3) Нидерландах и Польше;
- 4) Ирландии и Эстонии.



1	<input type="checkbox"/>
2	<input type="checkbox"/>
3	<input type="checkbox"/>
4	<input type="checkbox"/>

19. Преобладающая часть населения исповедует ислам в:


- 1) Албании и Мексике;
- 2) Швейцарии и Венгрии;
- 3) Пакистане и Малайзии;
- 4) Таиланде и Болгарии.



1	<input type="checkbox"/>
2	<input type="checkbox"/>
3	<input type="checkbox"/>
4	<input type="checkbox"/>

20. Преобладающая часть населения исповедует буддизм в:

- 1) Индонезии и Афганистане;
- 2) Вьетнаме и Монголии;
- 3) Японии и Кувейте;
- 4) Непале и Таджикистане.



1	<input type="checkbox"/>
2	<input type="checkbox"/>
3	<input type="checkbox"/>
4	<input type="checkbox"/>

21. Установите соответствие:

НАРОД

ПРЕОБЛАДАЮЩАЯ  
РЕЛИГИЯ

- 1) иранцы (персы)
- 2) датчане
- 3) филиппинцы
- 4) греки

- А) католицизм
- Б) буддизм
- В) протестантизм
- Г) ислам
- Д) православие



1	<input type="checkbox"/>
2	<input type="checkbox"/>
3	<input type="checkbox"/>
4	<input type="checkbox"/>

22. Установите соответствие:

НАРОД

ПРЕОБЛАДАЮЩАЯ  
РЕЛИГИЯ

- 1) таджики
- 2) португальцы
- 3) бирманцы
- 4) шведы

- А) католицизм
- Б) буддизм
- В) протестантизм
- Г) ислам
- Д) православие



1	<input type="checkbox"/>
2	<input type="checkbox"/>
3	<input type="checkbox"/>
4	<input type="checkbox"/>





23. Установите соответствие:

1	<input type="checkbox"/>
2	<input type="checkbox"/>
3	<input type="checkbox"/>
4	<input type="checkbox"/>

РЕЛИГИЯ (РЕЛИГИОЗНОЕ НАПРАВЛЕНИЕ)	НАРОД, ПРЕОБЛАДАЮЩАЯ ЧАСТЬ КОТОРОГО ЕЕ ИСПОВЕДУЕТ
1) православие	А) азербайджанцы
2) ислам	Б) финны
3) протестантизм	В) сиамцы (тайцы)
4) индуизм	Г) болгары
	Д) маратхи



24. Установите соответствие:

1	<input type="checkbox"/>
2	<input type="checkbox"/>
3	<input type="checkbox"/>
4	<input type="checkbox"/>

РЕЛИГИЯ (РЕЛИГИОЗНОЕ НАПРАВЛЕНИЕ)	НАРОД, ПРЕОБЛАДАЮЩАЯ ЧАСТЬ КОТОРОГО ЕЕ ИСПОВЕДУЕТ
1) католицизм	А) японцы
2) ислам	Б) кхмеры (камбоджийцы)
3) буддизм	В) ирландцы
4) синтоизм	Г) албанцы
	Д) грузины

### ***Размещение населения мира и урбанизация***



1. Крупнейшие сгустки населения сформировались на низменностях:

1	<input type="checkbox"/>
2	<input type="checkbox"/>
3	<input type="checkbox"/>
4	<input type="checkbox"/>

- 1) Центрально-Восточной Европы;
- 2) Латинской Америки;
- 3) Восточной Азии;
- 4) Северной Африки.



2. Из перечисленных низменностей наиболее плотно заселена:

1	<input type="checkbox"/>
2	<input type="checkbox"/>
3	<input type="checkbox"/>
4	<input type="checkbox"/>

- 1) Ла-Платская;
- 2) Индо-Гангская;
- 3) Оринокская
- 4) Прикаспийская.

3. Крупнейшие сгустки населения сформировались в приустьевых частях рек:



1	<input type="checkbox"/>
2	<input type="checkbox"/>
3	<input type="checkbox"/>
4	<input type="checkbox"/>

- 1) Нил и Амазонка;
- 2) Муррей и Лена;
- 3) Конго и Меконг;
- 4) Ганг и Янцзы.

4. Подавляющая часть населения проживает в высокогорных районах в:



1	<input type="checkbox"/>
2	<input type="checkbox"/>
3	<input type="checkbox"/>
4	<input type="checkbox"/>

- 1) Бангладеш и Непале;
- 2) Аргентине и Пакистане;
- 3) Дании и Венгрии;
- 4) Мексике и Боливии.

5. Из перечисленных стран наибольшая средняя плотность населения характерна для



1	<input type="checkbox"/>
2	<input type="checkbox"/>
3	<input type="checkbox"/>
4	<input type="checkbox"/>

- 1) Бразилии;
- 2) Нидерландов;
- 3) Пакистана;
- 4) Словакии.

6. Из перечисленных стран наибольшая средняя плотность населения характерна для:



1	<input type="checkbox"/>
2	<input type="checkbox"/>
3	<input type="checkbox"/>
4	<input type="checkbox"/>

- 1) Бельгии и Японии;
- 2) Парагвая и Австралии;
- 3) Ливии и Финляндии;
- 4) Филиппин и Ботсваны.

7. Из перечисленных стран наименьшая средняя плотность населения характерна для:



1	<input type="checkbox"/>
2	<input type="checkbox"/>
3	<input type="checkbox"/>
4	<input type="checkbox"/>

- 1) Индии;
- 2) Великобритании;
- 3) Лаоса;
- 4) Польши.

8. Из перечисленных стран наименьшая средняя плотность населения характерна для:



1	<input type="checkbox"/>
2	<input type="checkbox"/>
3	<input type="checkbox"/>
4	<input type="checkbox"/>

- 1) Индонезии и Нидерландов;
- 2) Великобритании и Пакистана;
- 3) Монголии и Чада;
- 4) Италии и Южной Кореи.



<input type="checkbox"/>
<input type="checkbox"/>
<input type="checkbox"/>
<input type="checkbox"/>
<input type="checkbox"/>

9. Расположите страны в порядке возрастания в них средней плотности населения:

- А) Бразилия;
- Б) Италия;
- В) Бангладеш;
- Г) Канада;
- Д) Болгария.



<input type="checkbox"/>
<input type="checkbox"/>
<input type="checkbox"/>
<input type="checkbox"/>
<input type="checkbox"/>

10. Расположите европейские страны в порядке убывания в них средней плотности населения:

- А) Нидерланды;
- Б) Латвия;
- В) Германия;
- Г) Норвегия;
- Д) Польша.



1	<input type="checkbox"/>
2	<input type="checkbox"/>
3	<input type="checkbox"/>
4	<input type="checkbox"/>

11. Наиболее высокая доля городского населения характерна для:

- 1) Швеции;
- 2) Афганистана;
- 3) Мали;
- 4) Бангладеш.



1	<input type="checkbox"/>
2	<input type="checkbox"/>
3	<input type="checkbox"/>
4	<input type="checkbox"/>

12. Наиболее низкая доля городского населения характерна для:

- 1) Уругвая;
- 2) Пакистана;
- 3) Австралии;
- 4) Великобритании.



1	<input type="checkbox"/>
2	<input type="checkbox"/>
3	<input type="checkbox"/>
4	<input type="checkbox"/>

13. Низкая средняя плотность и высокая доля городского населения характерны для:

- 1) Пакистана и Нигерии;
- 2) Канады и Норвегии;
- 3) Германии и Лаоса;
- 4) Японии и Швеции.



1	<input type="checkbox"/>
2	<input type="checkbox"/>
3	<input type="checkbox"/>
4	<input type="checkbox"/>

14. Высокая средняя плотность и низкая доля городского населения характерны для:

- 1) Вьетнама и Индии;
- 2) Монголии и Аргентины;
- 3) Бразилии и Саудовской Аравии;
- 4) Австралии и Нидерландов.

15. Расположите страны в порядке убывания в них доли городского населения:

- А) Мексика;
- Б) Узбекистан;
- В) Венесуэла;
- Г) Камбоджа;
- Д) Бурунди.

<input checked="" type="checkbox"/>
<input type="checkbox"/>
<input type="checkbox"/>
<input type="checkbox"/>
<input type="checkbox"/>

16. Расположите азиатские страны в порядке возрастания в них доли городского населения:

- А) Япония;
- Б) Малайзия;
- В) Непал;
- Г) Кувейт;
- Д) Индия.

<input checked="" type="checkbox"/>
<input type="checkbox"/>
<input type="checkbox"/>
<input type="checkbox"/>
<input type="checkbox"/>

17. Больше всего «супергородов» (городов с численностью населения свыше 10 млн чел.) находится в:

- 1) Латинской Америке и Европе;
- 2) Европе и Африке;
- 3) Африке и Северной Америке;
- 4) Северной Америке и Азии.

<input checked="" type="checkbox"/>	
1	<input type="checkbox"/>
2	<input type="checkbox"/>
3	<input type="checkbox"/>
4	<input type="checkbox"/>

18. Из перечисленных городов к категории «супергородов» относятся:

- 1) Сан-Паулу и Шанхай;
- 2) Мадрид и Стокгольм;
- 3) Сеул и Йоханнесбург;
- 4) Джакарта и Мельбурн.

<input checked="" type="checkbox"/>	
1	<input type="checkbox"/>
2	<input type="checkbox"/>
3	<input type="checkbox"/>
4	<input type="checkbox"/>

19. Из перечисленных «супергородов» морскими портами являются:

- 1) Шанхай и Нью-Йорк;
- 2) Марсель и Париж;
- 3) Джакарта и Сан-Паулу;
- 4) Токио и Мехико.

<input checked="" type="checkbox"/>	
1	<input type="checkbox"/>
2	<input type="checkbox"/>
3	<input type="checkbox"/>
4	<input type="checkbox"/>

20. «Супергородами» Латинской Америки являются:

- 1) Лима, Асунсьон и Рио-де-Жанейро;
- 2) Кингстон, Гватемала и Монтевидео;
- 3) Богота, Сантьяго и Каракас;
- 4) Сан-Паулу, Буэнос-Айрес и Мехико.

<input checked="" type="checkbox"/>	
1	<input type="checkbox"/>
2	<input type="checkbox"/>
3	<input type="checkbox"/>
4	<input type="checkbox"/>



21. Расположите страны в порядке убывания численности населения их крупнейшего города:

<input type="checkbox"/>
<input type="checkbox"/>
<input type="checkbox"/>
<input type="checkbox"/>
<input type="checkbox"/>

- А) Индонезия;
- Б) Колумбия;
- В) Сирия;
- Г) Албания;
- Д) Бразилия.



22. Расположите африканские страны в порядке возрастания численности населения их крупнейшего города:

<input type="checkbox"/>
<input type="checkbox"/>
<input type="checkbox"/>
<input type="checkbox"/>
<input type="checkbox"/>

- А) Конго;
- Б) Танзания;
- В) Египет;
- Г) Ботсвана;
- Д) Эфиопия.



23. В настоящее время странами трудовой эмиграции являются:

1	<input type="checkbox"/>
2	<input type="checkbox"/>
3	<input type="checkbox"/>
4	<input type="checkbox"/>

- 1) Египет и Алжир;
- 2) Мексика и Швеция;
- 3) Люксембург и Канада;
- 4) Австралия и Греция.



24. В настоящее время наибольшее количество трудовых эмигрантов дают:

1	<input type="checkbox"/>
2	<input type="checkbox"/>
3	<input type="checkbox"/>
4	<input type="checkbox"/>

- 1) Индия и Мексика;
- 2) Нидерланды и Италия;
- 3) Монголия и Сингапур;
- 4) Бразилия и Норвегия.



25. В настоящее время странами трудовой иммиграции являются:

1	<input type="checkbox"/>
2	<input type="checkbox"/>
3	<input type="checkbox"/>
4	<input type="checkbox"/>

- 1) Италия и Пакистан;
- 2) Южная Корея и Марокко;
- 3) Испания и Турция;
- 4) Франция и Кувейт.



26. В настоящее время наибольшее количество трудовых иммигрантов принимают:

1	<input type="checkbox"/>
2	<input type="checkbox"/>
3	<input type="checkbox"/>
4	<input type="checkbox"/>

- 1) Египет и Швейцария;
- 2) Великобритания и Мексика;
- 3) Алжир и Ямайка;
- 4) США и Германия.

27. В настоящее время США принимают наибольшее количество иммигрантов из:



- 1) Африки и Азии;
- 2) Азии и Латинской Америки;
- 3) Латинской Америки и Европы;
- 4) Европы и Австралии.

1	<input type="checkbox"/>
2	<input type="checkbox"/>
3	<input type="checkbox"/>
4	<input type="checkbox"/>

28. В настоящее время страны Персидского залива принимают наибольшее количество иммигрантов из:



- 1) Азии и Африки;
- 2) Африки и Европы;
- 3) Европы и Латинской Америки;
- 4) Латинской Америки и Австралии.

1	<input type="checkbox"/>
2	<input type="checkbox"/>
3	<input type="checkbox"/>
4	<input type="checkbox"/>

**Уровень и качество жизни населения мира**

1. Из перечисленных стран наибольшая средняя ожидаемая продолжительность предстоящей жизни характерна для:



- 1) Украины;
- 2) Судана;
- 3) Японии;
- 4) Боливии.

1	<input type="checkbox"/>
2	<input type="checkbox"/>
3	<input type="checkbox"/>
4	<input type="checkbox"/>

2. Из перечисленных стран наибольшая средняя ожидаемая продолжительность предстоящей жизни населения характерна для:



- 1) Либерии и Чада;
- 2) Афганистана и Непала;
- 3) Уганды и Буркина-Фасо;
- 4) Мексики и Аргентины.

1	<input type="checkbox"/>
2	<input type="checkbox"/>
3	<input type="checkbox"/>
4	<input type="checkbox"/>

3. Из перечисленных стран средняя ожидаемая продолжительность предстоящей жизни не превышает 50 лет лишь в:



- 1) Дании;
- 2) Анголе;
- 3) Малайзии;
- 4) Колумбии.

1	<input type="checkbox"/>
2	<input type="checkbox"/>
3	<input type="checkbox"/>
4	<input type="checkbox"/>



1	<input type="checkbox"/>
2	<input type="checkbox"/>
3	<input type="checkbox"/>
4	<input type="checkbox"/>

4. Из перечисленных стран наибольшая доля неграмотного населения характерна для:
- 1) Таиланда;
  - 2) Аргентины;
  - 3) Казахстана;
  - 4) Эфиопии.



1	<input type="checkbox"/>
2	<input type="checkbox"/>
3	<input type="checkbox"/>
4	<input type="checkbox"/>

5. По общей численности неграмотного населения мировое лидерство прочно удерживает:
- 1) Юго-Восточная Азия;
  - 2) Латинская Америка;
  - 3) Центрально-Восточная Европа;
  - 4) Южная Азия.



1	<input type="checkbox"/>
2	<input type="checkbox"/>
3	<input type="checkbox"/>
4	<input type="checkbox"/>

6. Доля неграмотных женщин существенно выше, чем доля неграмотных мужчин в:
- 1) Марокко и Иране;
  - 2) Польше и Канаде;
  - 3) Южной Корее и Норвегии;
  - 4) Ирландии и Венесуэле.



1	<input type="checkbox"/>
2	<input type="checkbox"/>
3	<input type="checkbox"/>
4	<input type="checkbox"/>

7. Из-за сильного имущественного расслоения населения «странами принцев и нищих» обычно называют страны:
- 1) Латинской Америки;
  - 2) Северной Европы;
  - 3) Восточной Азии;
  - 4) Северной Америки.



1	<input type="checkbox"/>
2	<input type="checkbox"/>
3	<input type="checkbox"/>
4	<input type="checkbox"/>

8. Наиболее сильное имущественное расслоение населения характерно для:
- 1) США и Канады;
  - 2) Колумбии и Перу;
  - 3) Польши и Венгрии;
  - 4) Швеции и Дании.




1	<input type="checkbox"/>
2	<input type="checkbox"/>
3	<input type="checkbox"/>
4	<input type="checkbox"/>

9. Из перечисленных стран Азии наиболее высоким уровнем жизни выделяются:
- 1) Монголия и Сирия;
  - 2) Филиппины и Китай;
  - 3) Иран и Вьетнам;
  - 4) Сингапур и Республика Корея.

10. Из перечисленных стран Латинской Америки наиболее высоким уровнем жизни населения выделяются:


- 1) Боливия и Парагвай;
- 2) Гаити и Никарагуа;
- 3) Чили и Аргентина;
- 4) Гондурас и Эль-Сальвадор.



1	<input type="checkbox"/>
2	<input type="checkbox"/>
3	<input type="checkbox"/>
4	<input type="checkbox"/>

11. По общему числу голодающих мировое лидерство прочно удерживает:


- 1) Латинская Америка;
- 2) Южная Азия;
- 3) Северная Африка;
- 4) Центрально-Восточная Европа.



1	<input type="checkbox"/>
2	<input type="checkbox"/>
3	<input type="checkbox"/>
4	<input type="checkbox"/>

12. Из перечисленных стран наименьшее количество мяса на душу населения потребляется в:

- 1) Аргентине и США;
- 2) Венгрии и Дании;
- 3) Индии и Эфиопии;
- 4) Австралии и Новой Зеландии.



1	<input type="checkbox"/>
2	<input type="checkbox"/>
3	<input type="checkbox"/>
4	<input type="checkbox"/>



## ТЕМА 4

### НАУЧНО-ТЕХНИЧЕСКАЯ РЕВОЛЮЦИЯ И МИРОВОЕ ХОЗЯЙСТВО



1. Для современной научно-технической революции характерно:
- 1) компьютеризация всех сфер жизни и деятельности человека;
  - 2) ускоренный рост потребления сырья и энергии;
  - 3) трудоинтенсификация сельскохозяйственного производства;
  - 4) удорожание стоимости транспортировки грузов.



2. «Авангардной тройкой» отраслей промышленности являются:
- 1) пищевая промышленность, черная металлургия и машиностроение;
  - 2) химическая, легкая промышленность и электроэнергетика;
  - 3) топливная, лесная промышленность и цветная металлургия;
  - 4) машиностроение, химическая промышленность и электроэнергетика.



3. В настоящее время ведущими отраслями машиностроения являются:
- 1) тракторостроение и судостроение;
  - 2) автомобилестроение и сельскохозяйственное машиностроение;
  - 3) радиотехника и микроэлектроника;
  - 4) энергетическое и железнодорожное машиностроение.



4. В настоящее время ведущей отраслью химической промышленности является:
- 1) тонкая химия;
  - 2) химия полимеров;
  - 3) горная химия;
  - 4) основная химия.



5. По количеству компьютеров на душу населения мировое лидерство удерживают:
- 1) Россия, Перу и Филиппины;
  - 2) Сингапур, Швеция и США;
  - 3) Ливия, Кувейт и Оман;
  - 4) Ботсвана, Алжир и Нигерия.

6. Для «зеленой революции» в сельском хозяйстве развивающихся стран характерно:



1	<input type="checkbox"/>
2	<input type="checkbox"/>
3	<input type="checkbox"/>
4	<input type="checkbox"/>

- 1) рост площади орошаемых земель и урожайности сельскохозяйственных культур;
- 2) преимущественное развитие экстенсивного пастбищного животноводства в целях снижения затрат на производство животноводческой продукции;
- 3) рост доли плантационных культур и сокращение доли продовольственных культур;
- 4) уменьшение количества вносимых удобрений и увеличение объемов производства экологически чистой продукции.

## ТЕМА 5

### ГЕОГРАФИЯ ОТРАСЛЕЙ МИРОВОГО ХОЗЯЙСТВА

#### *Мировая промышленность*



1	<input type="checkbox"/>
2	<input type="checkbox"/>
3	<input type="checkbox"/>
4	<input type="checkbox"/>

1. В последние годы доля развитых стран в общем объеме добычи минерального сырья увеличивается за счет:

- 1) Великобритании, Дании и Италии;
- 2) Канады, ЮАР и Австралии;
- 3) Австрии, Германии и Швейцарии;
- 4) США, Швеции и Португалии.



1	<input type="checkbox"/>
2	<input type="checkbox"/>
3	<input type="checkbox"/>
4	<input type="checkbox"/>

2. Из перечисленных развитых стран максимальная доля отраслей добывающей промышленности в общей структуре промышленного производства характерна для:

- 1) Австралии и Канады;
- 2) Израиля и Швейцарии;
- 3) Люксембурга и Японии;
- 4) Италии и Германии.



1	<input type="checkbox"/>
2	<input type="checkbox"/>
3	<input type="checkbox"/>
4	<input type="checkbox"/>

3. Из перечисленных развивающихся стран максимальная доля отраслей добывающей промышленности в общей структуре промышленного производства характерна для:

- 1) Турции и Мексики;
- 2) Пакистана и Таиланда;
- 3) Нигерии и Венесуэлы;
- 4) Филиппин и Бангладеш.



1	<input type="checkbox"/>
2	<input type="checkbox"/>
3	<input type="checkbox"/>
4	<input type="checkbox"/>

4. Суммарно наибольшее количество нефти добывают:

- 1) Норвегия и Бруней;
- 2) Эквадор и Алжир;
- 3) Индия и Германия;
- 4) США и Венесуэла.



1	<input type="checkbox"/>
2	<input type="checkbox"/>
3	<input type="checkbox"/>
4	<input type="checkbox"/>

5. Одним из крупнейших в мире добытчиков нефти и одновременно ее крупнейшим импортером является:

- 1) Индонезия;
- 2) Норвегия;
- 3) США;
- 4) Франция.

6. Тремя странами, являющимися крупнейшими экспортерами нефти, являются:
- А) Индия;
  - Б) Швеция;
  - В) Саудовская Аравия;
  - Г) Норвегия;
  - Д) Россия;
  - Е) США.
7. Крупнейшими поставщиками нефти и нефтепродуктов в США являются страны:
- 1) СНГ;
  - 2) Латинской Америки;
  - 3) Африки;
  - 4) Европы.
8. Суммарно наибольшее количество природного газа добывают:
- 1) Малайзия и Австралия;
  - 2) Нидерланды и ОАЭ;
  - 3) Венесуэла и Франция;
  - 4) США и Канада.
9. По объемам добычи природного газа в Европе выделяются:
- 1) Нидерланды, Великобритания и Норвегия;
  - 2) Норвегия, Венгрия и Польша;
  - 3) Польша, Италия и Франция;
  - 4) Франция, Германия и Швеция.
10. Крупнейшими поставщиками природного газа в Японию являются:
- 1) Малайзия, Австралия и Катар;
  - 2) Норвегия, Бразилия и Алжир;
  - 3) Венесуэла, ЮАР и Россия;
  - 4) США, Нигерия и Великобритания.
11. Выделите три страны, являющиеся ведущими мировыми экспортерами природного газа в сжиженном виде:
- А) Туркменистан;
  - Б) ОАЭ;
  - В) Россия;
  - Г) Индонезия;
  - Д) Нидерланды;
  - Е) Алжир.



1	<input type="checkbox"/>
2	<input type="checkbox"/>
3	<input type="checkbox"/>



1	<input type="checkbox"/>
2	<input type="checkbox"/>
3	<input type="checkbox"/>
4	<input type="checkbox"/>



1	<input type="checkbox"/>
2	<input type="checkbox"/>
3	<input type="checkbox"/>
4	<input type="checkbox"/>



1	<input type="checkbox"/>
2	<input type="checkbox"/>
3	<input type="checkbox"/>
4	<input type="checkbox"/>



1	<input type="checkbox"/>
2	<input type="checkbox"/>
3	<input type="checkbox"/>
4	<input type="checkbox"/>



1	<input type="checkbox"/>
2	<input type="checkbox"/>
3	<input type="checkbox"/>



1	<input type="checkbox"/>
2	<input type="checkbox"/>
3	<input type="checkbox"/>
4	<input type="checkbox"/>

12. Суммарно наибольшее количество угля добывают:

- 1) Германия и Колумбия;
- 2) Индия и Польша;
- 3) Украина и Австралия;
- 4) США и Китай.



1	<input type="checkbox"/>
2	<input type="checkbox"/>
3	<input type="checkbox"/>
4	<input type="checkbox"/>

13. В последние годы быстро наращивают добычу угля с целью его дальнейшего экспорта:

- 1) Германия и Бельгия;
- 2) Индонезия и Колумбия;
- 3) Украина и Великобритания;
- 4) Канада и Индия.



1	<input type="checkbox"/>
2	<input type="checkbox"/>
3	<input type="checkbox"/>
4	<input type="checkbox"/>

14. Мировым лидером в добыче бурого угля традиционно является:

- 1) ЮАР;
- 2) Германия;
- 3) Австралия;
- 4) Индия.



1	<input type="checkbox"/>
2	<input type="checkbox"/>
3	<input type="checkbox"/>
4	<input type="checkbox"/>

15. Крупнейшими мировыми экспортёрами угля являются:

- 1) Австралия и США;
- 2) Индия и Польша;
- 3) ЮАР и Великобритания;
- 4) Бразилия и Индонезия.



1	<input type="checkbox"/>
2	<input type="checkbox"/>
3	<input type="checkbox"/>
4	<input type="checkbox"/>

16. Свыше 90% электроэнергии производится на ТЭС в:

- 1) Австралии и Парагвае;
- 2) ЮАР и Саудовской Аравии;
- 3) Швеции и Франции;
- 4) Польше и Бразилии.



1	<input type="checkbox"/>
2	<input type="checkbox"/>
3	<input type="checkbox"/>
4	<input type="checkbox"/>

17. Свыше 1/2 электроэнергии производится на ГЭС в:

- 1) Индонезии и Бразилии;
- 2) Венгрии и Нидерландах;
- 3) Норвегии и Канаде;
- 4) Японии и Германии.



1	<input type="checkbox"/>
2	<input type="checkbox"/>
3	<input type="checkbox"/>
4	<input type="checkbox"/>

18. Свыше 1/2 электроэнергии производится на АЭС в:

- 1) Ливии и Кувейте;
- 2) Польше и ЮАР;
- 3) Бельгии и Литве;
- 4) Италии и Новой Зеландии.

19. Суммарно наибольшее количество железной руды добывают:

- 1) Австралия и Бразилия;
- 2) Индия и Франция;
- 3) Украина и Мавритания;
- 4) ЮАР и Южная Корея.

	<input checked="" type="checkbox"/>
1	<input type="checkbox"/>
2	<input type="checkbox"/>
3	<input type="checkbox"/>
4	<input type="checkbox"/>

20. Страной, осуществляющей крупномасштабную добычу железной руды, выплавку стали и их экспорт, является:

- 1) Япония;
- 2) Бразилия;
- 3) Италия;
- 4) Либерия.

	<input checked="" type="checkbox"/>
1	<input type="checkbox"/>
2	<input type="checkbox"/>
3	<input type="checkbox"/>
4	<input type="checkbox"/>

21. В последние 20–30 лет объемы выплавки стали наиболее быстрыми темпами увеличивались в:

- 1) Бельгии и Люксембурге;
- 2) Польше и Великобритании;
- 3) США и Австралии;
- 4) Южной Кореи и Индии.

	<input checked="" type="checkbox"/>
1	<input type="checkbox"/>
2	<input type="checkbox"/>
3	<input type="checkbox"/>
4	<input type="checkbox"/>

22. Дуйсбург (Германия), Дюнкерк (Франция), Бокаро (Индия) и Балтимор (США) известны прежде всего как центры:

- 1) черной металлургии;
- 2) автомобилестроения;
- 3) текстильной промышленности;
- 4) нефтепереработки.

	<input checked="" type="checkbox"/>
1	<input type="checkbox"/>
2	<input type="checkbox"/>
3	<input type="checkbox"/>
4	<input type="checkbox"/>

23. Доля цветной металлургии в общей структуре промышленного производства наиболее велика в:

- 1) Чехии и Италии;
- 2) ЮАР и Эфиопии;
- 3) Перу и Чили;
- 4) Южной Кореи и Дании.

	<input checked="" type="checkbox"/>
1	<input type="checkbox"/>
2	<input type="checkbox"/>
3	<input type="checkbox"/>
4	<input type="checkbox"/>

24. Доля алюминия в общей структуре производства цветных металлов наиболее велика в:

- 1) Венесуэле и Бразилии;
- 2) Мексике и Польше;
- 3) Болгарии и Казахстане;
- 4) Перу и ОАЭ.

	<input checked="" type="checkbox"/>
1	<input type="checkbox"/>
2	<input type="checkbox"/>
3	<input type="checkbox"/>
4	<input type="checkbox"/>



1	<input type="checkbox"/>
2	<input type="checkbox"/>
3	<input type="checkbox"/>
4	<input type="checkbox"/>

25. Страной, осуществляющей крупномасштабную добычу бокситов, производство глинозема, выплавку алюминия и их экспорт, является:
- 1) Германия;
  - 2) Россия;
  - 3) Гвинея;
  - 4) Австралия.



1	<input type="checkbox"/>
2	<input type="checkbox"/>
3	<input type="checkbox"/>

26. Тремя странами, в которых алюминиевая промышленность является отраслью международной специализации, являются:
- А) Норвегия;
  - Б) Пакистан;
  - В) Австралия;
  - Г) Таиланд;
  - Д) Канада;
  - Е) Нигерия.



1	<input type="checkbox"/>
2	<input type="checkbox"/>
3	<input type="checkbox"/>
4	<input type="checkbox"/>

27. Доля меди в общей структуре производства цветных металлов наиболее велика в:
- 1) Венесуэле и Новой Зеландии;
  - 2) Франции и Малайзии;
  - 3) России и Венгрии;
  - 4) Чили и Замбии.



1	<input type="checkbox"/>
2	<input type="checkbox"/>
3	<input type="checkbox"/>

28. Тремя странами, в которых медная промышленность является отраслью международной специализации, являются:
- А) Швейцария;
  - Б) Замбия;
  - В) Чили;
  - Г) Азербайджан;
  - Д) Перу;
  - Е) Египет.



1	<input type="checkbox"/>
2	<input type="checkbox"/>
3	<input type="checkbox"/>
4	<input type="checkbox"/>

29. Для мирового машиностроения характерно:
- 1) развитие тяжелого машиностроения наиболее быстрыми темпами;
  - 2) по объемам производства бытовой электротехники выдвижение в последние годы на лидирующие позиции стран Юго-Западной Азии и Северной Африки;
  - 3) лидерство в мировом производстве морских невоенных судов европейских стран;
  - 4) в последние годы развитие автомобилестроения наиболее быстрыми темпами в странах Азии и Латинской Америки.

30. Для мирового автомобилестроения **не** характерно:

- 1) перемещение производства легковых автомобилей из развитых стран в развивающиеся;
- 2) в последние годы передача Японией мирового лидерства по производству легковых автомобилей США;
- 3) то, что крупнейшими производителями легковых автомобилей в Европе являются Польша и Чехия;
- 4) то, что Детройт продолжает оставаться крупнейшим центром автомобилестроения США, хотя в последние годы его роль заметно снизилась.

	<input checked="" type="checkbox"/>
1	<input type="checkbox"/>
2	<input type="checkbox"/>
3	<input type="checkbox"/>
4	<input type="checkbox"/>

31. Страной, не входящей в «первую мировую десятку» по производству автомобилей, является:

- 1) Южная Корея;
- 2) Испания;
- 3) Япония;
- 4) Швеция.

	<input checked="" type="checkbox"/>
1	<input type="checkbox"/>
2	<input type="checkbox"/>
3	<input type="checkbox"/>
4	<input type="checkbox"/>

32. Выделите три страны, являющиеся ведущими мировыми производителями легковых автомобилей:

- А) Венесуэла;
- Б) Индия;
- В) США;
- Г) Япония;
- Д) Россия;
- Е) Германия.

	<input checked="" type="checkbox"/>
1	<input type="checkbox"/>
2	<input type="checkbox"/>
3	<input type="checkbox"/>

33. За последние полвека основной «центр тяжести» в мировом гражданском судостроении переместился:

- 1) из Европы в Латинскую Америку;
- 2) из Азии в Северную Америку;
- 3) из Европы в Азию;
- 4) из Северной Америки в Европу.

	<input checked="" type="checkbox"/>
1	<input type="checkbox"/>
2	<input type="checkbox"/>
3	<input type="checkbox"/>
4	<input type="checkbox"/>

34. Суммарно наибольшее количество минеральных удобрений производят:

- 1) Франция и Италия;
- 2) Польша и Венгрия;
- 3) Индия и Австралия;
- 4) США и Китай.

	<input checked="" type="checkbox"/>
1	<input type="checkbox"/>
2	<input type="checkbox"/>
3	<input type="checkbox"/>
4	<input type="checkbox"/>





1	<input type="checkbox"/>
2	<input type="checkbox"/>
3	<input type="checkbox"/>
4	<input type="checkbox"/>

35. Пластмасс производится больше, чем минеральных удобрений, в:

- 1) США и Германии;
- 2) Узбекистане и Индии;
- 3) Индонезии и Китае;
- 4) Бразилии и Японии.



1	<input type="checkbox"/>
2	<input type="checkbox"/>
3	<input type="checkbox"/>
4	<input type="checkbox"/>

36. Крупнейшим в мире районом развития нефтехимических производств является побережье:

- 1) Мексиканского залива;
- 2) Гвинейского залива;
- 3) Персидского залива;
- 4) Бенгальского залива.



1	<input type="checkbox"/>
2	<input type="checkbox"/>
3	<input type="checkbox"/>
4	<input type="checkbox"/>

37. Установите соответствие:

СТРАНА (СТРАНЫ)  
ЕВРОПЫ

ОТРАСЛЬ ХИМИЧЕСКОЙ  
ПРОМЫШЛЕННОСТИ, НА КОТОРОЙ  
ОНА СПЕЦИАЛИЗИРУЕТСЯ

- 1) Швейцария, Венгрия
- 2) Германия
- 3) Норвегия, Швеция
- 4) Франция

- А) производство синтетического каучука
- Б) добыча фосфорсодержащего сырья
- В) лесохимия
- Г) производство лекарственных препаратов
- Д) производство лаков и красок



1	<input type="checkbox"/>
2	<input type="checkbox"/>
3	<input type="checkbox"/>
4	<input type="checkbox"/>

38. Страной, осуществляющей крупномасштабную заготовку древесины, производство пиломатериалов и бумаги, является:

- 1) Великобритания;
- 2) Конго;
- 3) Австралия;
- 4) США.



1	<input type="checkbox"/>
2	<input type="checkbox"/>
3	<input type="checkbox"/>
4	<input type="checkbox"/>

39. Лесная промышленность является отраслью международной специализации для:

- 1) Канады и Швеции;
- 2) Египта и Австралии;
- 3) Японии и ЮАР;
- 4) Германии и Индии.

40. В последние годы производство хлопчатобумажных тканей наиболее быстрыми темпами увеличивалось в странах:
- 1) Северной Европы;
  - 2) Южной Азии;
  - 3) Северной Америки;
  - 4) Южной Африки.

<input checked="" type="checkbox"/>
1 <input type="checkbox"/>
2 <input type="checkbox"/>
3 <input type="checkbox"/>
4 <input type="checkbox"/>

### **Мировое сельское хозяйство**

1. Трудоинтенсивное сельское хозяйство характерно для:
  - 1) Южной Кореи и Нидерландов;
  - 2) Бангладеш и Индонезии;
  - 3) США и Испании;
  - 4) Японии и Германии.
  
2. Странами, в которых продукция растениеводства по стоимости превосходит продукцию животноводства, являются:
  - 1) Германия и Монголия;
  - 2) Мексика и Литва;
  - 3) Швейцария и Ирландия;
  - 4) Индия и Турция.
  
3. Странами, в которых продукция животноводства по стоимости превосходит продукцию растениеводства, являются:
  - 1) Нидерланды и Колумбия;
  - 2) Дания и Великобритания;
  - 3) Индонезия и Бразилия;
  - 4) Япония и Австралия.
  
4. Европейскими странами, в которых продукция животноводства по стоимости превосходит продукцию растениеводства, являются:
  - 1) Эстония и Германия;
  - 2) Греция и Швеция;
  - 3) Португалия и Болгария;
  - 4) Финляндия и Италия.
  
5. Суммарно наибольшее количество зерна собирают в:
  - 1) Китае и Индии;
  - 2) США и Венгрии;
  - 3) Австралии и Камбодже;
  - 4) Франции и Иране.

<input checked="" type="checkbox"/>
1 <input type="checkbox"/>
2 <input type="checkbox"/>
3 <input type="checkbox"/>
4 <input type="checkbox"/>

<input checked="" type="checkbox"/>
1 <input type="checkbox"/>
2 <input type="checkbox"/>
3 <input type="checkbox"/>
4 <input type="checkbox"/>

<input checked="" type="checkbox"/>
1 <input type="checkbox"/>
2 <input type="checkbox"/>
3 <input type="checkbox"/>
4 <input type="checkbox"/>

<input checked="" type="checkbox"/>
1 <input type="checkbox"/>
2 <input type="checkbox"/>
3 <input type="checkbox"/>
4 <input type="checkbox"/>

<input checked="" type="checkbox"/>
1 <input type="checkbox"/>
2 <input type="checkbox"/>
3 <input type="checkbox"/>
4 <input type="checkbox"/>

1	<input type="checkbox"/>
2	<input type="checkbox"/>
3	<input type="checkbox"/>

6. Выделите три страны, являющиеся крупнейшими мировыми производителями зерна:
- А) Вьетнам;
  - Б) Индия;
  - В) Россия;
  - Г) Китай;
  - Д) США;
  - Е) Аргентина.

1	<input type="checkbox"/>
2	<input type="checkbox"/>
3	<input type="checkbox"/>
4	<input type="checkbox"/>

7. Наибольшее количество зерна на душу населения производится в:
- 1) Индии и Канаде;
  - 2) Аргентине и Франции;
  - 3) Нигерии и Египте;
  - 4) Дании и Венесуэле.

1	<input type="checkbox"/>
2	<input type="checkbox"/>
3	<input type="checkbox"/>
4	<input type="checkbox"/>

8. Крупнейшими мировыми производителями пшеницы являются:
- 1) Бразилия и Австралия;
  - 2) Китай и Индия;
  - 3) Германия и Польша;
  - 4) Аргентина и Индонезия.

1	<input type="checkbox"/>
2	<input type="checkbox"/>
3	<input type="checkbox"/>
4	<input type="checkbox"/>

9. Ведущей зерновой культурой в большинстве стран Европы и Юго-Западной Азии является:
- 1) рис;
  - 2) кукуруза;
  - 3) рожь;
  - 4) пшеница.

1	<input type="checkbox"/>
2	<input type="checkbox"/>
3	<input type="checkbox"/>
4	<input type="checkbox"/>

10. Ведущей зерновой культурой в большинстве стран Южной, Юго-Восточной и Восточной Азии является:
- 1) кукуруза;
  - 2) просо;
  - 3) рис;
  - 4) пшеница.

1	<input type="checkbox"/>
2	<input type="checkbox"/>
3	<input type="checkbox"/>
4	<input type="checkbox"/>

11. Ведущей зерновой культурой в большинстве стран Латинской Америки и Восточной Африки является:
- 1) ячмень;
  - 2) кукуруза;
  - 3) пшеница;
  - 4) рис.

12. Из перечисленных стран крупнейшими мировыми экспортерами зерна являются:
- 1) Таиланд и Финляндия;
  - 2) Франция и США;
  - 3) Бразилия и Нигерия;
  - 4) Нидерланды и Индия.
13. Из перечисленных стран крупными мировыми экспортерами пшеницы являются:
- 1) Вьетнам и Япония;
  - 2) Аргентина и Норвегия;
  - 3) Канада и Австралия;
  - 4) Египет и Великобритания.
14. Ведущей масличной культурой в мире является:
- 1) арахис;
  - 2) масличная пальма;
  - 3) соя;
  - 4) подсолнечник.
15. Крупнейшими производителями сои в мире являются:
- 1) Нидерланды и Аргентина;
  - 2) Индия и Южная Корея;
  - 3) Бразилия и США;
  - 4) Китай и Парагвай.
16. Крупнейшими производителями подсолнечника в мире являются:
- 1) Япония и Австралия;
  - 2) Германия и Мексика;
  - 3) ЮАР и Индия;
  - 4) Аргентина и Россия.
17. Наибольшие посевные площади хлопчатник занимает в:
- 1) Северной Америке;
  - 2) Африке;
  - 3) Латинской Америке;
  - 4) Азии.
18. Крупнейшими мировыми производителями хлопка являются:
- 1) Греция и Испания;
  - 2) Китай и США;
  - 3) Нидерланды и Пакистан;
  - 4) Австралия и Канада.

<input checked="" type="checkbox"/>	<input type="checkbox"/>
<input type="checkbox"/>	<input type="checkbox"/>
<input type="checkbox"/>	<input type="checkbox"/>
<input type="checkbox"/>	<input type="checkbox"/>
<input checked="" type="checkbox"/>	<input type="checkbox"/>
<input type="checkbox"/>	<input type="checkbox"/>
<input type="checkbox"/>	<input type="checkbox"/>
<input type="checkbox"/>	<input type="checkbox"/>
<input checked="" type="checkbox"/>	<input type="checkbox"/>
<input type="checkbox"/>	<input type="checkbox"/>
<input type="checkbox"/>	<input type="checkbox"/>
<input type="checkbox"/>	<input type="checkbox"/>
<input checked="" type="checkbox"/>	<input type="checkbox"/>
<input type="checkbox"/>	<input type="checkbox"/>
<input type="checkbox"/>	<input type="checkbox"/>
<input type="checkbox"/>	<input type="checkbox"/>
<input checked="" type="checkbox"/>	<input type="checkbox"/>
<input type="checkbox"/>	<input type="checkbox"/>
<input type="checkbox"/>	<input type="checkbox"/>
<input type="checkbox"/>	<input type="checkbox"/>



19. Из азиатских стран крупнейшими производителями хлопка-волокна являются:

1

2

3

4

- 1) Пакистан, Китай и Индия;
- 2) Монголия, Южная Корея и Япония;
- 3) Индонезия, Малайзия и Филиппины;
- 4) Кипр, Саудовская Аравия и Ирак.



20. Крупнейшими мировыми производителями сахара из сахарного тростника являются:

1

2

3

4

- 1) Украина и Франция;
- 2) Таиланд и Швеция;
- 3) Германия и Польша;
- 4) Бразилия и Индия.



21. В значительных объемах сахарный тростник и сахарную свеклу выращивают лишь в:

1

2

3

4

- 1) Польше и Колумбии;
- 2) Австралии и Таиланде;
- 3) США и Китае;
- 4) Великобритании и Пакистане.



22. К числу крупнейших мировых производителей кофе относятся:

1

2

3

4

- 1) Турция и Испания;
- 2) ЮАР и Аргентина;
- 3) Вьетнам и Колумбия;
- 4) Канада и Индонезия.



23. Из латиноамериканских стран крупнейшими производителями кофе являются:

1

2

3

4

- 1) Доминиканская Республика, Куба и Ямайка;
- 2) Чили, Боливия и Перу;
- 3) Колумбия, Мексика и Бразилия;
- 4) Парагвай, Аргентина и Уругвай.



24. Со временем в крупнейших мировых экспортеров чая превратились бывшие колонии:

1

2

3

4

- 1) Франции;
- 2) Нидерландов;
- 3) Великобритании;
- 4) Португалии.

25. Установите соответствие:

ТОНИЗИРУЮЩАЯ  
КУЛЬТУРА

- 1) кофе
- 2) какао
- 3) чай
- 4) табак

РЕГИОН —

КРУПНЕЙШИЙ ПРОИЗВОДИТЕЛЬ

- А) Африка
- Б) Латинская Америка
- В) Юго-Восточная Азия
- Г) Южная Америка



1	<input type="checkbox"/>
2	<input type="checkbox"/>
3	<input type="checkbox"/>
4	<input type="checkbox"/>

26. Установите соответствие:

ТОНИЗИРУЮЩАЯ  
КУЛЬТУРА

- 1) какао
- 2) чай
- 3) табак
- 4) кофе

СТРАНА —

КРУПНЕЙШИЙ ПРОИЗВОДИТЕЛЬ

- А) Франция
- Б) Китай
- В) Бразилия
- Г) Кот-д'Ивуар
- Д) Индия



1	<input type="checkbox"/>
2	<input type="checkbox"/>
3	<input type="checkbox"/>
4	<input type="checkbox"/>

27. Производство бананов является отраслью международной специализации стран:

- 1) Латинской Америки;
- 2) Африки;
- 3) Зарубежной Азии;
- 4) Австралии и Океании.



1	<input type="checkbox"/>
2	<input type="checkbox"/>
3	<input type="checkbox"/>
4	<input type="checkbox"/>

28. На производстве винограда и вина специализируются:

- 1) Франция и Италия;
- 2) США и Монголия;
- 3) Латвия и Аргентина;
- 4) ЮАР и Дания.



1	<input type="checkbox"/>
2	<input type="checkbox"/>
3	<input type="checkbox"/>
4	<input type="checkbox"/>

29. Выделите три страны, являющиеся крупнейшими мировыми производителями натурального каучука:

- А) Новая Зеландия;
- Б) Египет;
- В) Таиланд;
- Г) Китай;
- Д) Чили;
- Е) Индонезия.



1	<input type="checkbox"/>
2	<input type="checkbox"/>
3	<input type="checkbox"/>



30. Основными товарными культурами стран, расположенных в зоне Сахели, являются:

1

1) просо и лен-долгунец;

2

2) хлопчатник и арахис;

3

3) джут и какао;

4

4) пшеница и чай.



31. Крупнейшим мировым производителем натурального каучука и плодов масличной пальмы является:

1

1) Латинская Америка;

2

2) Юго-Восточная Азия;

3

3) Западная Африка;

4

4) Южная Европа.



32. Крупнейшим товарным стадом крупного рогатого скота обладает:

1

1) Австралия;

2

2) Индия;

3

3) Эфиопия;

4

4) Бразилия.



33. Суммарно наибольшим поголовьем крупного рогатого скота обладают:

1

1) США и Бразилия;

2

2) Дания и Нидерланды;

3

3) Судан и Мали;

4

4) Германия и Великобритания



34. Крупный рогатый скот разводят преимущественно на ранчо в:

1

1) Дании и США;

2

2) Мексике и Аргентине;

3

3) Южной Корее и Польше;

4

4) Австралии и Ирландии.



35. Суммарно наибольшим поголовьем свиней обладают:

1

1) Бразилия и США;

2

2) Турция и Пакистан;

3


3) Венгрия и Дания;

4

4) Бангладеш и Израиль.

36. В международном разделении труда на производстве шерсти традиционно специализируются:


- 1) Таиланд и Индонезия;
- 2) США и Великобритания;
- 3) Новая Зеландия и Уругвай;
- 4) Венгрия и Нидерланды.

	<input checked="" type="checkbox"/>
1	<input type="checkbox"/>
2	<input type="checkbox"/>
3	<input type="checkbox"/>
4	<input type="checkbox"/>

### **Мировой транспорт**


1. По показателю грузооборота ведущим видом транспорта в мире является:

- 1) автомобильный;
- 2) железнодорожный;
- 3) морской;
- 4) трубопроводный.

	<input checked="" type="checkbox"/>
1	<input type="checkbox"/>
2	<input type="checkbox"/>
3	<input type="checkbox"/>
4	<input type="checkbox"/>

2. Во Франции по показателю грузооборота ведущим видом транспорта является:

- 1) автомобильный;
- 2) железнодорожный;
- 3) морской;
- 4) авиационный.

	<input checked="" type="checkbox"/>
1	<input type="checkbox"/>
2	<input type="checkbox"/>
3	<input type="checkbox"/>
4	<input type="checkbox"/>

3. По показателю пассажирооборота ведущим видом транспорта в мире является:

- 1) автомобильный;
- 2) железнодорожный;
- 3) морской;
- 4) авиационный.

	<input checked="" type="checkbox"/>
1	<input type="checkbox"/>
2	<input type="checkbox"/>
3	<input type="checkbox"/>
4	<input type="checkbox"/>

4. В Японии по показателю пассажирооборота ведущим видом транспорта является:

- 1) автомобильный;
- 2) железнодорожный;
- 3) морской;
- 4) авиационный.

	<input checked="" type="checkbox"/>
1	<input type="checkbox"/>
2	<input type="checkbox"/>
3	<input type="checkbox"/>
4	<input type="checkbox"/>





5. Роль железнодорожного транспорта во внутренних перевозках наиболее велика в:

- 1) России и Китае;
- 2) Бразилии и Германии;
- 3) США и Колумбии;
- 4) Венесуэле и Швейцарии.



6. Максимальная плотность сети железных дорог наблюдается в:

- 1) Перу, Боливии и Аргентине;
- 2) России, Казахстане и Монголии;
- 3) Мексике, США и Канаде;
- 4) Бельгии, Швейцарии и Германии.



7. Странами, где во второй половине XX века произошло значительное сокращение общей протяженности сети железных дорог, являются:

- 1) Великобритания и США;
- 2) Австралия и Бразилия;
- 3) Россия и Китай;
- 4) Индия и Аргентина.



8. Железные дороги отсутствуют в:

- 1) Венесуэле, Сомали и Южной Корее;
- 2) Мали, Бангладеш и Анголе;
- 3) Исландии, ОАЭ и Лаосе;
- 4) Буркина-Фасо, Эквадоре и Иране.



9. Максимальная плотность сети автомобильных дорог наблюдается в:

- 1) России и Бразилии;
- 2) США и Индии;
- 3) Японии и Германии;
- 4) Австралии и Канаде.



10. Тремя странами, где во внутренних перевозках наиболее велика роль морского транспорта, являются:

- А) Польша;
- Б) Иран;
- В) Нигерия;
- Г) Филиппины;
- Д) Греция;
- Е) Индонезия.

11. Крупнейшими морскими торговыми флотами в Европе обладают:

- 1) Дания и Португалия;
- 2) Италия и Германия;
- 3) Бельгия и Литва;
- 4) Греция и Норвегия.

	<input checked="" type="checkbox"/>
1	<input type="checkbox"/>
2	<input type="checkbox"/>
3	<input type="checkbox"/>
4	<input type="checkbox"/>

12. Торговые связи между Японией и Европой осуществляются главным образом по маршруту:

- 1) через Южно-Китайское море и Малаккский пролив в Индийский океан, далее огибая Африку с юга в Атлантический океан;
- 2) по территории России;
- 3) через Южно-Китайское море и Малаккский пролив в Индийский океан, далее через Баб-эль-Мандебский пролив и Красное море в Суэцкий канал, затем в Средиземное море;
- 4) через Тихий океан, далее по Панамскому каналу в Атлантический океан.

	<input checked="" type="checkbox"/>
1	<input type="checkbox"/>
2	<input type="checkbox"/>
3	<input type="checkbox"/>
4	<input type="checkbox"/>

13. Крупнейшими морскими портами (с грузооборотом свыше 50 млн т в год) бассейна Атлантического океана являются:

- 1) Гамбург и Лос-Анджелес;
- 2) Осака и Новый Орлеан;
- 3) Марсель и Роттердам;
- 4) Пусан и Хьюстон.

	<input checked="" type="checkbox"/>
1	<input type="checkbox"/>
2	<input type="checkbox"/>
3	<input type="checkbox"/>
4	<input type="checkbox"/>

14. Крупнейшими морскими портами (с грузооборотом свыше 50 млн т в год) бассейна Тихого океана являются:

- 1) Ричардс-Бэй и Нью-Йорк;
- 2) Шанхай и Сингапур;
- 3) Антверпен и Марсель;
- 4) Ванкувер и Тубаран.

	<input checked="" type="checkbox"/>
1	<input type="checkbox"/>
2	<input type="checkbox"/>
3	<input type="checkbox"/>
4	<input type="checkbox"/>

15. Крупнейшие европейские морские торговые порты (с грузооборотом свыше 50 млн т в год) расположены в устьях:

- 1) Темзы и Дуная;
- 2) Дуэро и Эльбы;
- 3) Рейна и Шельды;
- 4) Вислы и Сены.

	<input checked="" type="checkbox"/>
1	<input type="checkbox"/>
2	<input type="checkbox"/>
3	<input type="checkbox"/>
4	<input type="checkbox"/>



16. Быстрое развитие морского порта Нового Орлеана свидетельствует об активизации внешней торговли США со странами:

- 1) Европы;
- 2) Латинской Америки;
- 3) Персидского залива;
- 4) Азиатско-Тихоокеанского региона.



17. Тремя странами, в которых во внутренних перевозках наиболее велика роль внутреннего водного (речного и озерного) транспорта, являются:

- A) Германия;
- B) Перу;
- B) Австралия;
- Г) Нидерланды;
- Д) США;
- Е) Италия.



18. Наиболее интенсивно для перевозки грузов и пассажиров используются речные системы:

- 1) Янцзы и Ганга;
- 2) Миссисипи и Рейна;
- 3) Амазонки и Нила;
- 4) Конго и Параны.



19. Значительную часть внутренних перевозок во многих странах Юго-Западной Азии обеспечивает ... транспорт:

- 1) железнодорожный;
- 2) морской;
- 3) внутренний водный;
- 4) трубопроводный.



20. По объемам (количеству) перевозимых пассажиров авиационным транспортом мировое лидерство прочно удерживает(ют):

- 1) Россия;
- 2) Великобритания;
- 3) Австралия;
- 4) США.

**Внешнеэкономические связи**

1. Нефть, нефтепродукты и природный газ преобладает в структуре экспорта:

- 1) Мексики и Нидерландов;
- 2) Великобритании и Индонезии;
- 3) Нигерии и Венесуэлы;
- 4) Малайзии и Азербайджана.

	<input checked="" type="checkbox"/>
1	<input type="checkbox"/>
2	<input type="checkbox"/>
3	<input type="checkbox"/>
4	<input type="checkbox"/>

2. Продукция горнодобывающей промышленности преобладает в структуре экспорта:

- 1) Суринама и Гвинеи;
- 2) Малайзии и Швеции;
- 3) Уругвая и Южной Кореи;
- 4) Буркина-Фасо и Чада.

	<input checked="" type="checkbox"/>
1	<input type="checkbox"/>
2	<input type="checkbox"/>
3	<input type="checkbox"/>
4	<input type="checkbox"/>

3. Сельскохозяйственное сырье преобладает в структуре экспорта:

- 1) Колумбии и Ирана;
- 2) Мали и Эфиопии;
- 3) Италии и Канады;
- 4) Алжира и Намибии.

	<input checked="" type="checkbox"/>
1	<input type="checkbox"/>
2	<input type="checkbox"/>
3	<input type="checkbox"/>
4	<input type="checkbox"/>

4. Продукция машиностроения преобладает в структуре экспорта:

- 1) Парагвая и Вьетнама;
- 2) Германии и Сингапура;
- 3) Исландии и Кувейта;
- 4) Чили и Боливии.

	<input checked="" type="checkbox"/>
1	<input type="checkbox"/>
2	<input type="checkbox"/>
3	<input type="checkbox"/>
4	<input type="checkbox"/>

5. Подавляющая часть внешнеторгового оборота приходится на страну — сухопутного соседа в:

- 1) ОАЭ и Ливии;
- 2) Индонезии и ЮАР;
- 3) Мексике и Канаде;
- 4) Австралии и Израиле.

	<input checked="" type="checkbox"/>
1	<input type="checkbox"/>
2	<input type="checkbox"/>
3	<input type="checkbox"/>
4	<input type="checkbox"/>

6. Из перечисленных стран крупнейшими торговыми партнерами являются:

- 1) Индия и Пакистан;
- 2) США и Япония;
- 3) Перу и Эквадор;
- 4) Саудовская Аравия и Иран.

	<input checked="" type="checkbox"/>
1	<input type="checkbox"/>
2	<input type="checkbox"/>
3	<input type="checkbox"/>
4	<input type="checkbox"/>



1

2

3

4

7. Сколько процентов российского экспорта приходится на долю стран Европейского Союза?

- 1) 10%;
- 2) 85%;
- 3) 40%;
- 4) 5%.



1

2

3

4

8. Зерно является важнейшей статьёй экспорта для:

- 1) Аргентины;
- 2) Никарагуа;
- 3) Венесуэлы;
- 4) Кубы.



1

2

3

4

9. На производстве натурального каучука специализируются:

- 1) Вьетнам, Филиппины, Мадагаскар;
- 2) Венесуэла, Бразилия, Малайзия;
- 3) Малайзия, Индонезия, Таиланд;
- 4) Бразилия, Лаос, Таиланд.



1

2

3

4

10. Какая страна специализируется на экспорте продукции животноводства?

- 1) Уругвай;
- 2) Гватемала;
- 3) Белиз;
- 4) Куба.

**ТЕМА 6****ГЛОБАЛЬНЫЕ ПРОБЛЕМЫ ЧЕЛОВЕЧЕСТВА**

1. Резкое расширение и углубление взаимосвязей и взаимозависимостей между странами, народами и отдельными людьми в последнее время носит название:
- 1) интеграции;
  - 2) глобализации;
  - 3) локализации;
  - 4) специализации.
2. Какая проблема не входит в число глобальных?
- 1) экологическая;
  - 2) демографическая;
  - 3) урбанизации;
  - 4) продовольственная.
3. В каких странах глобальные проблемы стоят наиболее остро?
- 1) в развитых странах Запада;
  - 2) в развивающихся странах;
  - 3) в новых индустриальных странах;
  - 4) в бывших социалистических странах.
4. Проблема деградации почв главным образом связана с:
- 1) ветровой эрозией;
  - 2) водной эрозией;
  - 3) сведением лесов;
  - 4) физическим выветриванием.
5. Антропогенные ландшафты занимают большую часть в:
- 1) широколиственных лесах;
  - 2) зоне тайги;
  - 3) полупустынях;
  - 4) зоне тундры.
6. Разрушение озонового слоя связано прежде всего с:
- 1) увеличением количества теплоэлектростанций;
  - 2) выделением газов при извержениях вулканов;
  - 3) бытовым использованием фреонов;
  - 4) промышленным использованием фреонов.



1	<input type="checkbox"/>
2	<input type="checkbox"/>
3	<input type="checkbox"/>
4	<input type="checkbox"/>



1	<input type="checkbox"/>
2	<input type="checkbox"/>
3	<input type="checkbox"/>
4	<input type="checkbox"/>



1	<input type="checkbox"/>
2	<input type="checkbox"/>
3	<input type="checkbox"/>
4	<input type="checkbox"/>



1	<input type="checkbox"/>
2	<input type="checkbox"/>
3	<input type="checkbox"/>
4	<input type="checkbox"/>



1	<input type="checkbox"/>
2	<input type="checkbox"/>
3	<input type="checkbox"/>
4	<input type="checkbox"/>



1	<input type="checkbox"/>
2	<input type="checkbox"/>
3	<input type="checkbox"/>
4	<input type="checkbox"/>



1	<input type="checkbox"/>
2	<input type="checkbox"/>
3	<input type="checkbox"/>
4	<input type="checkbox"/>

7. Самым большим загрязнителем Мирового океана является:
- 1) добыча, транспортировка и переработка нефти;
  - 2) отходы рыбной промышленности;
  - 3) бытовой мусор;
  - 4) отходы металлургических предприятий.



1	<input type="checkbox"/>
2	<input type="checkbox"/>
3	<input type="checkbox"/>
4	<input type="checkbox"/>

8. Самая экологически опасная отрасль хозяйства — это:
- 1) производство стройматериалов;
  - 2) сфера услуг;
  - 3) железнодорожный транспорт;
  - 4) целлюлозно-бумажная промышленность.



1	<input type="checkbox"/>
2	<input type="checkbox"/>
3	<input type="checkbox"/>
4	<input type="checkbox"/>

9. Больше всего средств на охрану окружающей среды выделяется в:
- 1) Германии;
  - 2) Голландии;
  - 3) Великобритании;
  - 4) Японии.



1	<input type="checkbox"/>
2	<input type="checkbox"/>
3	<input type="checkbox"/>
4	<input type="checkbox"/>

10. В аридных зонах самой острой экологической проблемой является:
- 1) загрязнение почв;
  - 2) загрязнение воздуха;
  - 3) изменение климата;
  - 4) опустынивание земель.



1	<input type="checkbox"/>
2	<input type="checkbox"/>
3	<input type="checkbox"/>
4	<input type="checkbox"/>

11. Выпадение кислотных дождей в первую очередь связано с загрязнением атмосферы предприятиями:
- 1) металлургии и энергетики;
  - 2) транспорта;
  - 3) химической промышленности;
  - 4) текстильной промышленности.

**Часть II.**

**РЕГИОНАЛЬНАЯ ХАРАКТЕРИСТИКА МИРА**

---



## **Особенности природы, населения и хозяйства регионов мира**



1	<input type="checkbox"/>
2	<input type="checkbox"/>
3	<input type="checkbox"/>

1. Три верными утверждениями по отношению к зарубежной Европе по сравнению с другими регионами мира являются:
- 1) по площади территории занимает последнее место;
  - 2) выделяется крупнейшими запасами бокситов, медных и полиметаллических руд;
  - 3) насчитывается наибольшее количество стран с естественной убылью населения;
  - 4) по доле используемого гидроэнергопотенциала занимает одно из последних мест;
  - 5) является крупнейшим мировым производителем ржи, винограда, сахарной свеклы и льна-долгунца.



1	<input type="checkbox"/>
2	<input type="checkbox"/>
3	<input type="checkbox"/>
4	<input type="checkbox"/>

2. Для зарубежной Европы не характерно:
- 1) отсутствие зависимых территорий (колониальных владений);
  - 2) то, что по количеству монархий она уступает только зарубежной Азии;
  - 3) то, что основная часть верующего населения исповедует христианство;
  - 4) вывоз значительного количества сырья.



1	<input type="checkbox"/>
2	<input type="checkbox"/>
3	<input type="checkbox"/>

3. Три верными характеристиками зарубежной Азии по сравнению с другими регионами мира являются:
- 1) две страны региона входят в «мировую десятку» по площади территории;
  - 2) выделяется крупнейшими запасами нефти и природного газа;
  - 3) по численному приросту населения (в млн чел.) уступает только Африке;
  - 4) по объему производства промышленной продукции уступает не только Северной, но и Латинской Америке;
  - 5) является крупнейшим мировым производителем риса, хлопка и чая.



1	<input type="checkbox"/>
2	<input type="checkbox"/>
3	<input type="checkbox"/>
4	<input type="checkbox"/>

4. Для зарубежной Азии не характерно:
- 1) то, что в период колониального раздела мира все страны утратили независимость;
  - 2) то, что из всех регионов мира только здесь сохранились абсолютные монархии;

- 3) отсутствие стран, в которых основная часть верующего населения исповедует христианство;
- 4) то, что ряд стран относится к разряду беднейших.
5. Три верными характеристиками Африки по сравнению с другими регионами мира являются:
- 1) количество стран превышает 30;
  - 2) выделяется крупнейшими запасами черноземных почв и хвойной древесины;
  - 3) по темпам прироста населения занимает первое место;
  - 4) по объемам производства промышленной продукции уступает всем регионам мира;
  - 5) является крупнейшим поставщиком на мировой рынок пшеницы, подсолнечника и мяса.
6. Для Африки не характерно:
- 1) превращение на рубеже XIX–XX вв. в «заповедник колониализма»;
  - 2) то, что большая часть стран имеет республиканскую форму правления;
  - 3) то, что здесь проживают представители нескольких основных и смешанных человеческих рас;
  - 4) то, что по уровню экономического развития особенно выделяются страны Западной Африки.
7. Три верными характеристиками Северной Америки по сравнению с другими регионами мира являются:
- 1) в состав входят две страны-гиганта;
  - 2) выделяется крупнейшими запасами всех видов минеральных ресурсов, но испытывает острый дефицит водных, земельных и лесных ресурсов;
  - 3) является крупнейшим поставщиком трудовых эмигрантов в Европу и нефтедобывающие страны зарубежной Азии;
  - 4) хотя обладает высокоразвитой горнодобывающей промышленностью, в мире выделяется преимущественным развитием наиболее наукоемких отраслей;
  - 5) является крупнейшим мировым экспортером сельскохозяйственной продукции.



1	<input type="checkbox"/>
2	<input type="checkbox"/>
3	<input type="checkbox"/>



1	<input type="checkbox"/>
2	<input type="checkbox"/>
3	<input type="checkbox"/>
4	<input type="checkbox"/>



1	<input type="checkbox"/>
2	<input type="checkbox"/>
3	<input type="checkbox"/>



1

2

3

4

8. Для Северной Америки не характерно (ны):

- 1) отсутствие зависимых территорий (колониальных владений и т.д.);
- 2) наличие стран с федеративным типом административно-территориального устройства;
- 3) то, что коренное население составляет незначительную часть населения региона ;
- 4) лидирующие позиции в мировом авиастроении.



1

2

3

9. Три верными характеристиками Латинской Америки по сравнению с другими регионами мира являются:

- 1) входящие в состав региона страны крайне неоднородны: есть одна страна-гигант, несколько крупных стран и многочисленные страны-карлики;
- 2) выделяется крупнейшими запасами угля, железной руды, фосфоритов и калийных солей;
- 3) по численности городского населения опережает все регионы, кроме зарубежной Азии и зарубежной Европы;
- 4) по уровню развития промышленного производства уступает не только наиболее передовым регионам, но и Африке;
- 5) является крупнейшим поставщиком на мировой рынок сои, кофе, апельсинов и бананов.



1

2

3

4

10. Для Латинской Америки не характерно:

- 1) количество зависимых территорий (колониальных владений) превышает 10;
- 2) отсутствие стран с федеративным типом административно-территориального устройства;
- 3) преобладание в расовой структуре населения некоторых стран «белых» (европейских) иммигрантов и их потомков;
- 4) наличие нескольких супергородов (с численностью населения свыше 10 млн чел.).



1

2

3

11. Три верными характеристиками Австралии и Океании по сравнению с другими регионами мира являются:

- 1) в состав региона входят несколько стран, площадь территории которых превышает 1 млн кв. км;
- 2) выделяются крупнейшими запасами водных, гидроэнергетических и лесных ресурсов;
- 3) по численности населения занимают последнее место;

- 4) ведущими направлениями развития промышленности является добыча минерального сырья и производство продукции невысокой степени переработки;
- 5) являются крупнейшими поставщиками на мировой рынок пшеницы, мяса, молока и шерсти.

12. Для Австралии и Океании не характерно:

- 1) количественное преобладание мелких и мельчайших стран;
- 2) отсутствие стран с монархической формой правления;
- 3) широкое распространение английского и французского языков в качестве официальных;
- 4) ни в одной стране региона доля городского населения не превышает 1/2.



1	<input type="checkbox"/>
2	<input type="checkbox"/>
3	<input type="checkbox"/>
4	<input type="checkbox"/>

**Особенности природы, населения и хозяйства стран мира**

1. Тримя видами природных ресурсов, которыми в наибольшей степени обеспечена Швеция, являются:

- А) калийные соли;
- Б) лесные ресурсы;
- В) каменный уголь;
- Г) железная руда;
- Д) гидроэнергетические ресурсы;
- Е) природный газ.



1	<input type="checkbox"/>
2	<input type="checkbox"/>
3	<input type="checkbox"/>

2. Тримя видами природных ресурсов, которыми в наибольшей степени обеспечена Индонезия, являются:

- А) лесные ресурсы;
- Б) фосфориты;
- В) железная руда;
- Г) нефть;
- Д) оловянные руды;
- Е) сера.



1	<input type="checkbox"/>
2	<input type="checkbox"/>
3	<input type="checkbox"/>

3. Тримя видами природных ресурсов, которыми в наибольшей степени обеспечена ЮАР, являются:

- А) железная руда;
- Б) нефть;



1	<input type="checkbox"/>
2	<input type="checkbox"/>
3	<input type="checkbox"/>

- В) лесные ресурсы;
- Г) природный газ;
- Д) каменный уголь;
- Е) алмазы.



1	<input type="checkbox"/>
2	<input type="checkbox"/>
3	<input type="checkbox"/>

4. Тремя видами природных ресурсов, которыми в наибольшей степени обеспечена Бразилия, являются:

- А) каменный уголь;
- Б) бокситы;
- В) лесные ресурсы;
- Г) природный газ;
- Д) сера;
- Е) железная руда.



1	<input type="checkbox"/>
2	<input type="checkbox"/>
3	<input type="checkbox"/>
4	<input type="checkbox"/>

5. Для населения Италии характерно:

- 1) быстрое увеличение численности населения благодаря высокому естественному приросту и интенсивному притоку иммигрантов;
- 2) большая часть населения исповедует католицизм;
- 3) основная часть населения сосредоточена в южной части страны;
- 4) отсутствие городов-миллионеров.



1	<input type="checkbox"/>
2	<input type="checkbox"/>
3	<input type="checkbox"/>
4	<input type="checkbox"/>

6. Для населения Индии характерно:

- 1) женщины по численности превосходят мужчин;
- 2) естественный прирост в последние годы неуклонно снижается;
- 3) средняя плотность населения не превышает 100 чел./км<sup>2</sup>;
- 4) этническое и религиозное разнообразие.



1	<input type="checkbox"/>
2	<input type="checkbox"/>
3	<input type="checkbox"/>
4	<input type="checkbox"/>

7. Для населения Египта характерно:

- 1) естественный прирост является одним из самых высоких в Африке;
- 2) доли неграмотных мужчин и женщин примерно равны;
- 3) страна является крупным поставщиком рабочей силы в соседние арабские страны;
- 4) численность населения крупнейшего города не превышает 1 млн чел.



1	<input type="checkbox"/>
2	<input type="checkbox"/>
3	<input type="checkbox"/>
4	<input type="checkbox"/>

8. Для населения Мексики характерно:

- 1) естественный прирост в последние годы сменился естественной убылью;
- 2) основной расово-этнической группой являются испано-индейские метисы;

- 3) подавляющая часть верующего населения исповедует протестантизм;  
 4) доля городского населения не превышает  $S/2$ .

9. Тремя отраслями промышленной специализации Норвегии являются:

- А) нефтяная промышленность;  
 Б) автомобилестроение;  
 В) целлюлозно-бумажная промышленность;  
 Г) тракторостроение;  
 Д) рыбная промышленность;  
 Е) производство минеральных удобрений.



1	<input type="checkbox"/>
2	<input type="checkbox"/>
3	<input type="checkbox"/>

10. Тремя отраслями промышленной специализации Германии являются:

- А) химическая промышленность;  
 Б) черная металлургия;  
 В) текстильная промышленность;  
 Г) лесная промышленность;  
 Д) пищевая промышленность;  
 Е) машиностроение.



1	<input type="checkbox"/>
2	<input type="checkbox"/>
3	<input type="checkbox"/>

11. Тремя видами промышленной продукции, на производстве которых специализируется Южная Корея, являются:

- А) легковые автомобили;  
 Б) химические волокна;  
 В) минеральные удобрения;  
 Г) алюминий;  
 Д) морские торговые суда;  
 Е) пиломатериалы.



1	<input type="checkbox"/>
2	<input type="checkbox"/>
3	<input type="checkbox"/>

12. Тремя видами промышленной продукции, на производстве которых специализируются США, являются:

- А) современные полимерные материалы;  
 Б) металлорежущие станки;  
 В) авиационная и космическая техника;  
 Г) минеральные удобрения;  
 Д) кожаная обувь;  
 Е) высокопроизводительная компьютерная техника.



1	<input type="checkbox"/>
2	<input type="checkbox"/>
3	<input type="checkbox"/>



1	<input type="checkbox"/>
2	<input type="checkbox"/>
3	<input type="checkbox"/>

13. Тремя отраслями сельскохозяйственной специализации Нидерландов являются:

- А) цветоводство;
- Б) молочное скотоводство;
- В) зерновое хозяйство;
- Г) виноградарство;
- Д) овощеводство;
- Е) табаководство.



1	<input type="checkbox"/>
2	<input type="checkbox"/>
3	<input type="checkbox"/>

14. Тремя отраслями сельскохозяйственной специализации Вьетнама являются:

- А) виноградарство;
- Б) производство кофе;
- В) льноводство;
- Г) производство риса;
- Д) тонкорунное овцеводство;
- Е) производство тропических плодов.



1	<input type="checkbox"/>
2	<input type="checkbox"/>
3	<input type="checkbox"/>

15. Тремя видами сельскохозяйственной продукции, на производстве которых специализируется Аргентина, являются:

- А) кофе;
- Б) говядина;
- В) сахарная свекла;
- Г) подсолнечник;
- Д) натуральный каучук;
- Е) пшеница.



1	<input type="checkbox"/>
2	<input type="checkbox"/>
3	<input type="checkbox"/>

16. Тремя видами сельскохозяйственной продукции, на производстве которых специализируется Новая Зеландия, являются:

- А) какао;
- Б) субтропические плоды;
- В) шерсть;
- Г) сахарный тростник;
- Д) молоко;
- Е) рис.



1	<input type="checkbox"/>
2	<input type="checkbox"/>
3	<input type="checkbox"/>

17. Тремя верными утверждениями о Германии являются:

- 1) с севера омывается водами Балтийского и Северного морей, с юга — Средиземного моря ;
- 2) по форме правления является республикой, по типу административно-территориального устройства — федеративным государством;

- 3) выделяется запасами каменного и бурого угля, калийных солей;
- 4) большая часть населения проживает в небольших селах, доля городского населения лишь незначительно превышает 1/2;
- 5) отраслями международной специализации являются машиностроение, химическая промышленность и черная металлургия.

18. Для Германии не характерно:

- 1) то, что большую часть территории страны занимают низко- и среднегорья;
- 2) то, что численность населения увеличивается лишь благодаря значительному притоку иммигрантов;
- 3) то, что по стоимости продукции среди отраслей машиностроения выделяется судостроение;
- 4) то, что в структуре посевных площадей ведущее место принадлежит картофелю.



1	<input type="checkbox"/>
2	<input type="checkbox"/>
3	<input type="checkbox"/>
4	<input type="checkbox"/>

19. Тремя верными характеристиками Индии являются:

- 1) примерно половина территории находится на полуострове Индокитай;
- 2) по форме правления является доминионом Великобритании, по типу административно-территориального устройства — федеративным государством;
- 3) в структуре минеральных ресурсов преобладают руды металлов, в структуре сельскохозяйственных угодий — пахотные земли;
- 4) на протяжении почти 200 лет являлась одним из крупнейших поставщиков рабочей силы на мировой рынок;
- 5) отраслями международной специализации являются производство одежды, обуви и ювелирных изделий.



1	<input type="checkbox"/>
2	<input type="checkbox"/>
3	<input type="checkbox"/>

20. Для Индии не характерно:

- 1) то, что большую часть территории страны занимает обширное плоскогорье, на севере переходящее в низменность;
- 2) то, что демографическая политика не дала ожидаемых результатов, естественный прирост населения в стране по-прежнему в несколько раз превосходит его среднемировое значение;
- 3) то, что среди отраслей промышленности наиболее быстрыми темпами развиваются машиностроение, химическая промышленность и черная металлургия;
- 4) то, что режим ведения сельского хозяйства полностью подчинен смене сухого и влажного сезонов года.



1	<input type="checkbox"/>
2	<input type="checkbox"/>
3	<input type="checkbox"/>
4	<input type="checkbox"/>





1	<input type="checkbox"/>
2	<input type="checkbox"/>
3	<input type="checkbox"/>

21. Три верными характеристиками Китая являются утверждения:

- 1) несмотря на то, что сухопутные границы по протяженности в несколько раз превосходят морские, подавляющая часть внешне-торговых связей страны осуществляется по морю;
- 2) по форме правления является республикой, по типу административно-территориального устройства — федеративным государством;
- 3) по абсолютной площади пашни занимает одно из первых мест в мире, по площади пашни на душу населения — одно из последних;
- 4) хотя население страны многонационально, суммарная доля национальных меньшинств не превышает 1/10;
- 5) является крупным поставщиком на мировой рынок нефти, природного газа, электроэнергии и стального проката.



<input type="checkbox"/>	<input type="checkbox"/>
2	<input type="checkbox"/>
3	<input type="checkbox"/>
4	<input type="checkbox"/>

22. Для Китая не характерно:

- 1) то, что выходит на побережье одного океана, по суше граничит более чем с 10 странами;
- 2) то, что наиболее плотно заселена Восточно-Китайская равнина и Сычуанская котловина;
- 3) то, что наиболее крупные промышленные центры находятся в западной части страны;
- 4) то, что основной зерновой культурой Желтого Китая является пшеница, Зеленого Китая — рис.



1	<input type="checkbox"/>
2	<input type="checkbox"/>
3	<input type="checkbox"/>

23. Три верными характеристиками Японии являются утверждения:

- 1) Япония как островная страна для связей с внешним миром широко использует морской транспорт;
- 2) Япония по форме правления является республикой, по типу административно-территориального устройства — федеративным государством;
- 3) Япония является одной из наименее ресурсобеспеченных стран мира;
- 4) население однонационально, поскольку страна не является миграционно-привлекательной;
- 5) отраслями международной специализации являются машиностроение, алюминиевая и лесная промышленность.

24. Для Японии не характерно:


- 1) то, что недра сосредоточивают крупные запасы угля, нефти и железной руды;
- 2) то, что около 1/2 населения сконцентрировано в мегалополисе Токайдо;
- 3) то, что подавляющая часть промышленного потенциала сосредоточена в Тихоокеанском промышленном поясе;
- 4) то, что в сельском хозяйстве из-за ограниченности сельскохозяйственных угодий предпочтение отдается развитию наиболее интенсивных отраслей.



1	<input type="checkbox"/>
2	<input type="checkbox"/>
3	<input type="checkbox"/>
4	<input type="checkbox"/>

25. Тремя верными характеристиками Канады являются утверждения:

- 1) страна выходит на побережье двух океанов, по суше граничит с двумя странами;
- 2) страна по форме правления является республикой, по типу административно-территориального устройства — унитарным государством;
- 3) страна по величине запасов минеральных, водных, гидроэнергетических и лесных ресурсов занимает одно из первых мест в мире;
- 4) подавляющая часть населения сосредоточена в южной части страны;
- 5) страна поставляет на мировой рынок разнообразное минеральное сырье, электроэнергию, алюминий и никель, некоторые виды машин и оборудования, пиломатериалы, бумагу и пшеницу.



1	<input type="checkbox"/>
2	<input type="checkbox"/>
3	<input type="checkbox"/>

26. Для Канады не характерно:

- 1) то, что значительная часть территории находится в пределах арктического и субарктического поясов;
- 2) то, что доля франко-канадцев в населении страны превышает 1/4;
- 3) то, что основная часть древесины заготавливается в юго-западной части страны;
- 4) то, что холодный климат обусловил острый дефицит зерна, прежде всего пшеницы.



1	<input type="checkbox"/>
2	<input type="checkbox"/>
3	<input type="checkbox"/>
4	<input type="checkbox"/>

27. Тремя верными характеристиками США являются утверждения:

- 1) выходят на побережье трех океанов, по суше граничат с двумя странами;
- 2) по форме правления являются республикой, по типу административно-территориального устройства — федеративным государством;



1	<input type="checkbox"/>
2	<input type="checkbox"/>
3	<input type="checkbox"/>

- 3) являются крупнейшим экспортером угля, нефти, природного газа и железной руды;
- 4) до середины XX в. выступали в роли крупнейшего поставщика рабочей силы, в настоящее время являются одной из наиболее миграционно привлекательных стран мира;
- 5) производство потребительских товаров сокращается, а наукоемкой продукции, наоборот, растет.



28. Для США не характерно:

1	<input type="checkbox"/>
2	<input type="checkbox"/>
3	<input type="checkbox"/>
4	<input type="checkbox"/>

- 1) то, что значительная часть территории находится в пределах субтропического пояса;
- 2) то, что ускорение темпов иммиграции из стран Азии во второй половине XX в. привело к тому, что азиатская диаспора по численности превзошла негритянскую;
- 3) то, что в последние полвека происходит активная индустриализация Юга и Запада;
- 4) то, что главной зерновой культурой является кукуруза, масличной культурой — соя, волокнистой — хлопчатник.



29. Три верными характеристиками Бразилии являются утверждения:

1	<input type="checkbox"/>
2	<input type="checkbox"/>
3	<input type="checkbox"/>

- 1) омывается водами одного океана, количество сухопутных соседей превышает три страны;
- 2) по форме правления является республикой, по типу административно-территориального устройства — федеративным государством;
- 3) в мире выделяется запасами нефти, природного газа и каменного угля, руд черных и цветных металлов;
- 4) хотя население расово неоднородно, свыше 1/2 его общей численности составляют «белые»;
- 5) является классической страной монокультуры кофе.



30. Для Бразилии не характерно:

1	<input type="checkbox"/>
2	<input type="checkbox"/>
3	<input type="checkbox"/>
4	<input type="checkbox"/>

- 1) то, что значительную часть территории страны занимает обширное плоскогорье, на севере переходящее в низменность;
- 2) то, что по своей расово-этнической структуре бразильская нация является одной из самых «пестрых» в мире;
- 3) то, что традиционные отрасли промышленности — легкая и пищевая — уступили свои позиции машиностроению, черной и цветной металлургии;
- 4) то, что является крупнейшим экспортером пшеницы в Латинской Америке.

31. Три верными характеристиками Австралии являются утверждения:



- 1) значительная удаленность страны от главных центров мировой экономики осложняет ее хозяйственные связи;
- 2) по форме правления является государством в составе Содружества, по типу административно-территориального устройства — федеративным государством;
- 3) в мире выделяется запасами минерального сырья, на их фоне запасы водных, гидроэнергетических и лесных ресурсов сравнительно невелики;
- 4) является одной из наиболее миграционно привлекательных стран, по этой причине доля китайцев и индийцев в общей численности населения превысила 1/5;
- 5) является крупным экспортером продукции машиностроения и нефтехимии.

1	<input type="checkbox"/>
2	<input type="checkbox"/>
3	<input type="checkbox"/>

32. Для Австралии не характерно:



- 1) то, что основную часть территории страны занимает пустыня;
- 2) то, что основная часть населения сосредоточена в северных районах страны, для которых характерен наиболее благоприятный климат;
- 3) то, что в структуре промышленного производства велика доля горнодобывающей промышленности, отрасли обрабатывающей промышленности производят главным образом продукцию невысокой степени переработки;
- 4) то, что главными отраслями международной сельскохозяйственной специализации являются тонкорунное овцеводство, мясное скотоводство и производство пшеницы.

1	<input type="checkbox"/>
2	<input type="checkbox"/>
3	<input type="checkbox"/>
4	<input type="checkbox"/>

### **Территориальная структура хозяйства стран мира**

1. Основная часть населения и экономического потенциала сосредоточена в северной части:



- 1) Австралии и Бразилии;
- 2) Венесуэлы и Алжира;
- 3) Канады и Японии;
- 4) Индии и Нигерии.

1	<input type="checkbox"/>
2	<input type="checkbox"/>
3	<input type="checkbox"/>
4	<input type="checkbox"/>



1	<input type="checkbox"/>
2	<input type="checkbox"/>
3	<input type="checkbox"/>
4	<input type="checkbox"/>

2. Основная часть населения и экономического потенциала сосредоточена в южной части:
- 1) Южной Кореи и Чили;
  - 2) Монголии и Саудовской Аравии;
  - 3) Аргентины и Пакистана;
  - 4) Финляндии и Канады.



1	<input type="checkbox"/>
2	<input type="checkbox"/>
3	<input type="checkbox"/>
4	<input type="checkbox"/>

3. Приморские районы являются наиболее экономически развитыми в:
- 1) ЮАР и Румынии;
  - 2) России и Пакистане;
  - 3) Турции и Австралии;
  - 4) Польше и Колумбии.



1	<input type="checkbox"/>
2	<input type="checkbox"/>
3	<input type="checkbox"/>
4	<input type="checkbox"/>

4. Глубинные районы являются наиболее экономически развитыми в:
- 1) Польше и ЮАР;
  - 2) Австралии и Китае;
  - 3) Турции и Венесуэле;
  - 4) Бразилии и Южной Кореи.



1	<input type="checkbox"/>
2	<input type="checkbox"/>
3	<input type="checkbox"/>
4	<input type="checkbox"/>

5. Столица является крупнейшим экономическим центром в:
- 1) Турции и Пакистане;
  - 2) Бразилии и Южной Кореи;
  - 3) Венгрии и Аргентине;
  - 4) Индии и Узбекистане.



1	<input type="checkbox"/>
2	<input type="checkbox"/>
3	<input type="checkbox"/>
4	<input type="checkbox"/>

6. Столица **не** является крупнейшим экономическим центром в:
- 1) Марокко и Франции;
  - 2) Великобритании и Таиланде;
  - 3) Перу и Индонезии;
  - 4) Италии и Вьетнаме.



1	<input type="checkbox"/>
2	<input type="checkbox"/>
3	<input type="checkbox"/>
4	<input type="checkbox"/>

7. Столица является крупнейшим морским портом в:
- 1) Франции и Пакистане;
  - 2) Аргентине и Таиланде;
  - 3) Канаде и Нидерландах;
  - 4) Бразилии и Индии.



1	<input type="checkbox"/>
2	<input type="checkbox"/>
3	<input type="checkbox"/>
4	<input type="checkbox"/>

8. Крупнейший экономический центр одновременно является и крупнейшим морским портом в:
- 1) Колумбии и Италии;
  - 2) Турции и Пакистане;

- 3) Польше и Мексике;  
4) ЮАР и Франции.
9. Моноцентрическая территориальная структура хозяйства характерна для:
- 1) Индии и Нидерландов;
  - 2) Мексики и Аргентины;
  - 3) Германии и Венгрии;
  - 4) Таиланда и Китая.
10. Полицентрическая территориальная структура хозяйства характерна для:
- 1) Латвии и Венгрии;
  - 2) Индии и Германии;
  - 3) Уругвая и Таиланда;
  - 4) Австрии и Перу.
11. Крупные угольно-металлургические районы сформировались в:
- 1) Германии и Южной Кореи;
  - 2) Колумбии и Индонезии;
  - 3) Чехии и Швеции;
  - 4) Украине и Индии.
12. Сходный рисунок территориальной структуры хозяйства имеют:
- 1) Швеция и Италия;
  - 2) Саудовская Аравия и Китай;
  - 3) Алжир и Германия;
  - 4) Венесуэла и Канада.
13. Прямо противоположный рисунок территориальной структуры хозяйства имеют:
- 1) Канада и Италия;
  - 2) Бразилия и Австралия;
  - 3) Швеция и Нигерия;
  - 4) Алжир и Венесуэла.
14. Наименьшие диспропорции в уровнях экономического развития отдельных частей страны характерны для:
- 1) Индонезии и Египта;
  - 2) Нидерландов и Дании;
  - 3) Аргентины и Белоруссии;
  - 4) России и Австралии.



1	<input type="checkbox"/>
2	<input type="checkbox"/>
3	<input type="checkbox"/>
4	<input type="checkbox"/>



1	<input type="checkbox"/>
2	<input type="checkbox"/>
3	<input type="checkbox"/>
4	<input type="checkbox"/>



1	<input type="checkbox"/>
2	<input type="checkbox"/>
3	<input type="checkbox"/>
4	<input type="checkbox"/>



1	<input type="checkbox"/>
2	<input type="checkbox"/>
3	<input type="checkbox"/>
4	<input type="checkbox"/>



1	<input type="checkbox"/>
2	<input type="checkbox"/>
3	<input type="checkbox"/>
4	<input type="checkbox"/>



1	<input type="checkbox"/>
2	<input type="checkbox"/>
3	<input type="checkbox"/>
4	<input type="checkbox"/>



15. Наиболее острые диспропорции в уровнях экономического развития отдельных частей страны характерны для:

- 1) Италии и Бразилии;
- 2) Германии и Чехии;
- 3) Нидерландов и Дании;
- 4) Индии и Польши.



16. Крупномасштабные программы экономического развития районов нового освоения осуществляются в:

- 1) Испании и Бразилии;
- 2) Германии и Японии;
- 3) Индии и Бельгии;
- 4) Венесуэле и Канаде.



17. Назовите два фактора размещения производства, значение которых возросло в эпоху НТР:

- 1) сырьевой и ресурсный;
- 2) наукоемкости и энергоемкости;
- 3) транспортный и фактор ЭГП;
- 4) экологический и трудовых ресурсов.



18. На размещение промышленных предприятий в Восточной и Юго-Восточной Азии главным образом повлиял фактор:

- 1) экологический;
- 2) ресурсный;
- 3) трудовых ресурсов;
- 4) транспортный.



19. В каких отраслях наблюдается наиболее высокий уровень концентрации производства?

- 1) в электроэнергетике;
- 2) в металлургии;
- 3) в химической промышленности;
- 4) в легкой промышленности.



20. Определите, о каких странах идет речь.

«Эти страны имеют, как правило, небольшую территорию; характеризуются высокими показателями ВВП на душу населения; в них высока доля непроемкой сферы; в структуре хозяйства преобладают обрабатывающие отрасли».

- 1) страны — экспортеры нефти;
- 2) страны «большой семерки»;
- 3) небольшие высокоразвитые страны Западной Европы;
- 4) развивающиеся страны.

21. Фактор водных ресурсов является важнейшим для размещения предприятий:

- 1) по добыче нефти;
- 2) электроники;
- 3) химической промышленности;
- 4) машиностроения.



1	<input type="checkbox"/>
2	<input type="checkbox"/>
3	<input type="checkbox"/>
4	<input type="checkbox"/>

22. Современные нефтеперерабатывающие заводы расположены преимущественно в морских портах потому, что:

- 1) идет сокращение нефтедобычи;
- 2) здесь достаточное количество трудовых ресурсов;
- 3) сухопутная транспортировка нефти стоит дорого;
- 4) они ориентируются на привозное сырье.



1	<input type="checkbox"/>
2	<input type="checkbox"/>
3	<input type="checkbox"/>
4	<input type="checkbox"/>



# ОТВЕТЫ

## ЧАСТЬ I. ОБЩАЯ ХАРАКТЕРИСТИКА МИРА

### Тема 1. Современная политическая карта мира

#### Многообразие стран современного мира

1	2	11	1 – Г, 2 – В, 3 – Д, 4 – А	21	1
2	1	12	1 – Д, 2 – Г, 3 – Б, 4 – В	22	3
3	1	13	1 – В, 2 – Д, 3 – А, 4 – Б	23	4
4	3	14	1 – Б, 2 – А, 3 – В, 4 – Д	24	1
5	4	15	2	25	1
6	1	16	4	26	1 – Г, 2 – В, 3 – А, 4 – Б
7	1 – Г, 2 – В, 3 – А, 4 – Б	17	2	27	1 – Г, 2 – Д, 3 – Б, 4 – В
8	1 – Г, 2 – А, 3 – Б, 4 – В	18	4	28	1 – В, 2 – Д, 3 – А, 4 – Б
9	1 – Г, 2 – В, 3 – Б, 4 – Д	19	1	29	1 – В, 2 – А, 3 – Г, 4 – Б
10	1 – В, 2 – А, 3 – Б, 4 – Д	20	3	30	1 – Б, 2 – Г, 3 – А, 4 – В

#### Типология стран современного мира. Группировки стран

1	4	11	3	21	3
2	1	12	2	22	3
3	1	13	4	23	1
4	1	14	1	24	А, Д, Е
5	3	15	1	25	А, В, Е
6	1	16	3	26	А, Б, Е
7	2	17	А, В, Г	27	2
8	3	18	1	28	А, Г, Е
9	3	19	А, Д, Е	29	4
10	3	20	2	30	1

**Государственный строй стран мира**

1	1	7	4	13	2
2	4	8	2	14	2
3	2	9	3	15	1
4	2	10	4	16	4
5	3	11	3	17	3
6	2	12	2	18	1

**Тема 2.**

**География мировых природных ресурсов**

1	1	9	4	17	2	25	1
2	1	10	3	18	4	26	3
3	3	11	3	19	3	27	4
4	2	12	2	20	2	28	1
5	3	13	3	21	4	29	4
6	3	14	4	22	3	30	3
7	4	15	1	23	4	31	3
8	2	16	2	24	2	32	1

**Тема 3.**

**География населения мира**

**Численность и естественное движение населения мира**

1	4	12	А, В, Б, Г	23	1
2	1	13	А, Г, Б, В	24	1
3	2	14	4	25	2
4	3	15	2	26	3
5	3	16	4	27	2
6	2	17	4	28	В, А, Г, Б
7	4	18	2	29	3
8	1	19	1	30	3
9	3	20	2	31	1
10	В, А, Б, Г	21	3	32	Б, Г, А, В
11	В, А, Б, Г	22	4		

**Трудовые ресурсы мира**

1	4	11	2
2	3	12	1
3	1	13	2
4	3	14	1
5	4	15	2
6	4	16	3
7	1	17	3
8	4	18	1
9	4	19	2
10	4	20	3

**Расовый, национальный и религиозный состав населения мира**

1	1	9	2	17	4
2	3	10	4	18	1
3	2	11	2	19	3
4	3	12	1 – А, 2 – Г, 3 – Д, 4 – Б	20	2
5	1	13	1 – В, 2 – Б, 3 – А, 4 – Д	21	1 – Г, 2 – В, 3 – А, 4 – Д
6	2	14	1 – Д, 2 – Г, 3 – А, 4 – Б	22	1 – Г, 2 – А, 3 – Б, 4 – В
7	2	15	1 – Д, 2 – А, 3 – Г, 4 – Б	23	1 – Г, 2 – А, 3 – Б, 4 – Д
8	4	16	2	24	1 – В, 2 – Г, 3 – Б, 4 – А

**Размещение населения мира и урбанизация**

1	3	11	1	21	Д, А, Б, В, Г
2	2	12	2	22	Г, Б, Д, А, В
3	4	13	2	23	1
4	4	14	1	24	1
5	2	15	В, А, Б, Г, Д	25	4
6	1	16	В, Д, Б, А, Г	26	4
7	3	17	4	27	2
8	3	18	1	28	1
9	Г, А, Д, Б, В	19	1		
10	А, В, Д, Б, Г	20	4		

**Уровень и качество жизни населения мира**

1	3	5	4	9	4
2	4	6	1	10	3
3	2	7	1	11	2
4	4	8	2	12	1

**Тема 4.  
Научно-техническая революция  
и мировое хозяйство**

1	1	3	3	5	2
2	4	4	1	6	1

**Тема 5.  
География отраслей мирового хозяйства**

**Мировая промышленность**

1	2	15	1	29	4
2	1	16	2	30	3
3	3	17	3	31	4
4	4	18	3	32	В, Г, Е
5	3	19	1	33	3
6	В, Г, Д	20	2	34	4
7	2	21	4	35	1
8	4	22	1	36	1
9	1	23	3	37	1 – Г, 2 – Д, 3 – В, 4 – А
10	1	24	1	38	4
11	Б, Г, Е	25	4	39	1
12	4	26	А, В, Д	40	2
13	2	27	4		
14	2	28	Б, В, Д		

**Мировое сельское хозяйство**

1	2	13	3	25	1 – Г, 2 – А, 3 – В, 4 – Б
2	4	14	3	26	1 – Г, 2 – Д, 3 – Б, 4 – В
3	2	15	3	27	1
4	1	16	2	28	1
5	1	17	4	29	В, Г, Е
6	Б, Г, Д	18	2	30	2
7	2	19	1	31	3
8	2	20	4	32	4
9	4	21	3	33	1
10	3	22	3	34	2
11	2	23	3	35	1
12	2	24	3	36	3

**Мировой транспорт**

1	3	11	4
2	3	12	4
3	1	13	3
4	2	14	2
5	1	15	3
6	4	16	2
7	1	17	А, Г, Д
8	3	18	2
9	3	19	3
10	Г, Д, Е	20	4

**Внешнеэкономические связи**

1	3	5	3	8	1
2	1	6	2	9	3
3	2	7	3	10	1
4	2				

**Тема 6.  
Глобальные проблемы человечества**

1	2	7	1
2	3	8	4
3	2	9	4
4	2	10	4
5	1	11	1
6	3		

**ЧАСТЬ II.  
РЕГИОНАЛЬНАЯ ХАРАКТЕРИСТИКА МИРА**

**Особенности природы,  
населения и хозяйства регионов мира**

1	1, 3, 5	5	1, 3, 4	9	1, 3, 5
2	4	6	4	10	2
3	1, 2, 5	7	1, 4, 5	11	3, 4, 5
4	1	8	1	12	4

**Особенности природы,  
населения и хозяйства стран мира**

1	Б, Г, Д	12	А, В, Е	23	1, 3, 4
2	А, Г, Д	13	А, Б, Д	24	1
3	А, Д, Е	14	Б, Г, Е	25	3, 4, 5
4	Б, В, Е	15	Б, Г, Е	26	4
5	2	16	Б, В, Д	27	1, 2, 5
6	2	17	2, 3, 5	28	2
7	3	18	3	29	1, 2, 4
8	2	19	3, 4, 5	30	4
9	А, В, Д	20	2	31	1, 2, 3
10	А, Б, Е	21	1, 3, 4	32	2
11	А, Б, Д	22	3		

**Территориальная структура хозяйства стран мира**

1	2	12	2
2	4	13	1
3	3	14	4
4	1	15	1
5	3	16	4
6	4	17	2
7	2	18	3
8	2	19	2
9	2	20	3
10	2	21	3
11	4	22	4

*Учебно-методическое издание*

**Баранчиков Евгений Владимирович**

# **ТЕСТЫ ПО ГЕОГРАФИИ**

## **10 класс**

К учебнику В.П. Максаковского  
«География. Экономическая  
и социальная география мира. 10 класс»

Издательство **«ЭКЗАМЕН»**

Гигиенический сертификат  
№ 77.99.60.953.Д.000454.01.09 от 27.01.2009 г.

Главный редактор *Л.Д. Лаппо*

Редактор *Т.А. Карташёва*

Корректор *И.Д. Баринская*

Дизайн обложки *А.Ю. Горелик*

Компьютерная верстка *М.В. Демина, М.В. Дерендяева*

105066, Москва, ул. Нижняя Красносельская, д. 35, стр. 1.

[www.examen.biz](http://www.examen.biz)

E-mail: по общим вопросам: [info@examen.biz](mailto:info@examen.biz);

по вопросам реализации: [sale@examen.biz](mailto:sale@examen.biz)

тел./факс 641-00-30 (многоканальный)

Общероссийский классификатор продукции  
ОК 005-93, том 2; 953005 — книги, брошюры, литература учебная

Отпечатано с готовых диапозитивов

в ГП ПО «Псковская областная типография»

184004, г. Псков, ул. Ротная, 34.

Качество печати соответствует  
качеству предоставленных диапозитивов

**По вопросам реализации обращаться по тел.:**  
**641-00-30 (многоканальный).**