

Муниципальное бюджетное дошкольное образовательное учреждение детский сад «Звёздочка» с.Калинка  
Хабаровского муниципального района  
Хабаровского края

# Логико-математическая игра «Путешествие в страну Математику»



Воспитатель  
Улезко Зоя Анатольевна  
МБДОУ с.Калинка  
и.о. заведующего  
Замолодчикова Галина Геннадьевна

с.Калинка


2022 г


# Аннотация

- Данная игра направлена на развитие логического мышления детей (и детей ОВЗ) старшего дошкольного возраста, закрепления навыков счета, умение работать с геометрическими фигурами, знать основные математические понятия. Педагоги ДОУ могут использовать данную игру в образовательной деятельности.

# Актуальность

- Ведущим видом деятельности в дошкольном возрасте является игра. Актуальность данной игры состоит в том, что ничто так, как математика, не способствует развитию логического мышления. Играя, ребенок с интересом подходит к новым знаниям, умениям, навыкам, параллельно развивает математические способности.

- 
- Игра – это не только удовольствие и радость для ребенка, что само по себе очень важно, с ее помощью можно развивать мыслительные процессы ребенка. Параллельно с ней формируются и развиваются элементы учебной деятельности, что помогает организовать и систематизировать процесс обучения.
  - Следует помнить, чтобы научить детей дошкольного возраста любить математику, необходимо творчески и с интересом подходить к организации процесса обучения, использовать разнообразие и вариативность развивающих игр с математическим содержанием.



**Цель:** развитие логического мышления детей дошкольного возраста через математические игры

**Задачи:**

- воспитывать интерес к познавательной деятельности
- Формировать умение находить разные способы решения логико-математических задач
- развивать умение видеть в окружающих предметах форму знакомых геометрических фигур;
- устанавливать связь между числом и количеством;

# Разделы:

Количество и счёт

1

2

3

4

Величина

1

2

3

4

Форма

1

2

3

4

Ориентировка в  
пространстве

1

2

3

4

Ориентировка во времени

1

2

3

4

Числовые домики

1

2

3


4

## Раздел: количество и счёт

1

## ЗАДАНИЕ

Сколько на картинке бананов, ананасов и груш? Посчитай их



Банан



Ананас



Груша



Выбери число, которое обозначает количество шариков на картинке






Раздел: количество и счёт

3  
ЗАДАНИЕ

Расположи цифры по порядку



Сколько яблок  
лежит в тарелке?

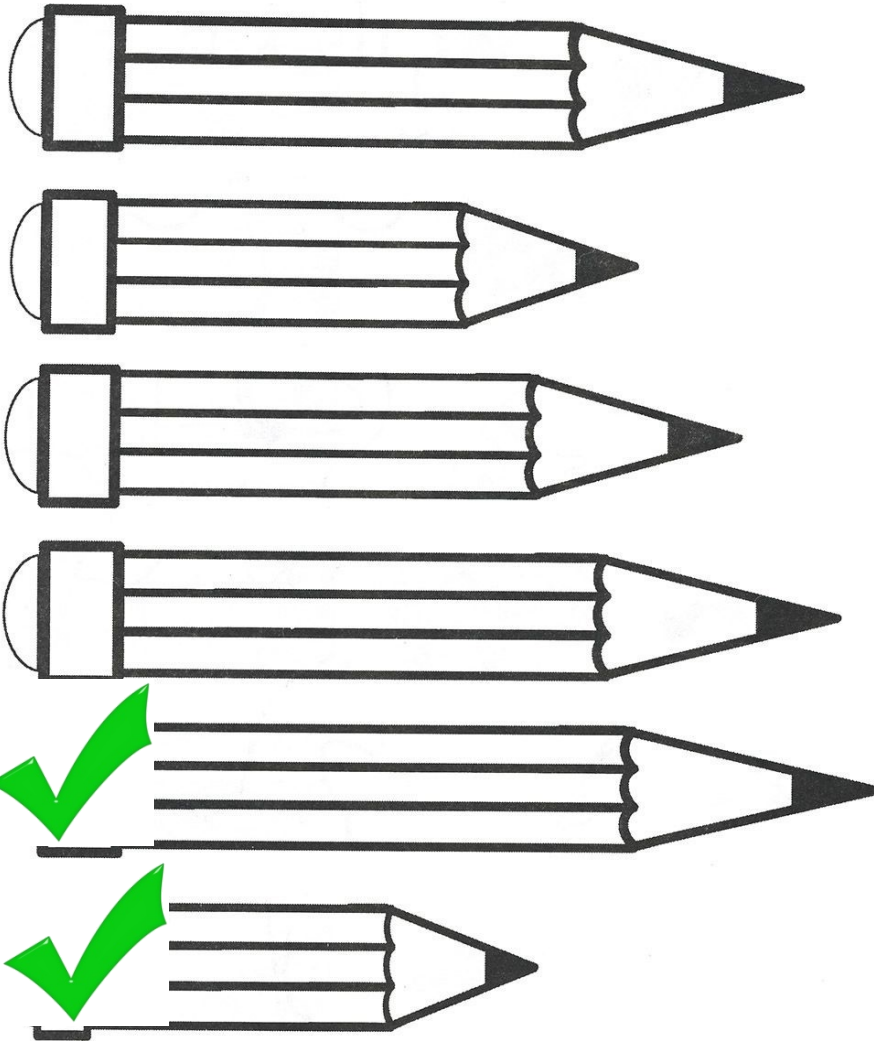


2

5

3






Какой из  
карандашей самый  
длинный? Какой  
самый короткий?



## ЗАДАНИЕ


Расположи кисточки  
от самой маленькой к  
самой большой



3

ЗАДАНИЕ



Расположи  
деревья от  
самого  
маленького до  
самого большого










Какой букет нужно  
поставить в высокую  
вазу? А какой в  
низкую?



Найди овал



Какая фигура должна стоять на месте вопросительного знака?






Раздел: форма




3  
ЗАДАНИЕ

Найди все круги и сложи их в коробку



# Раздел: форма

4  
ЗАДАНИЕ  
Выбери  
предметы,  
имеющие  
форму ромба



Выбери картинку, на которой бабочка находится в цветке.

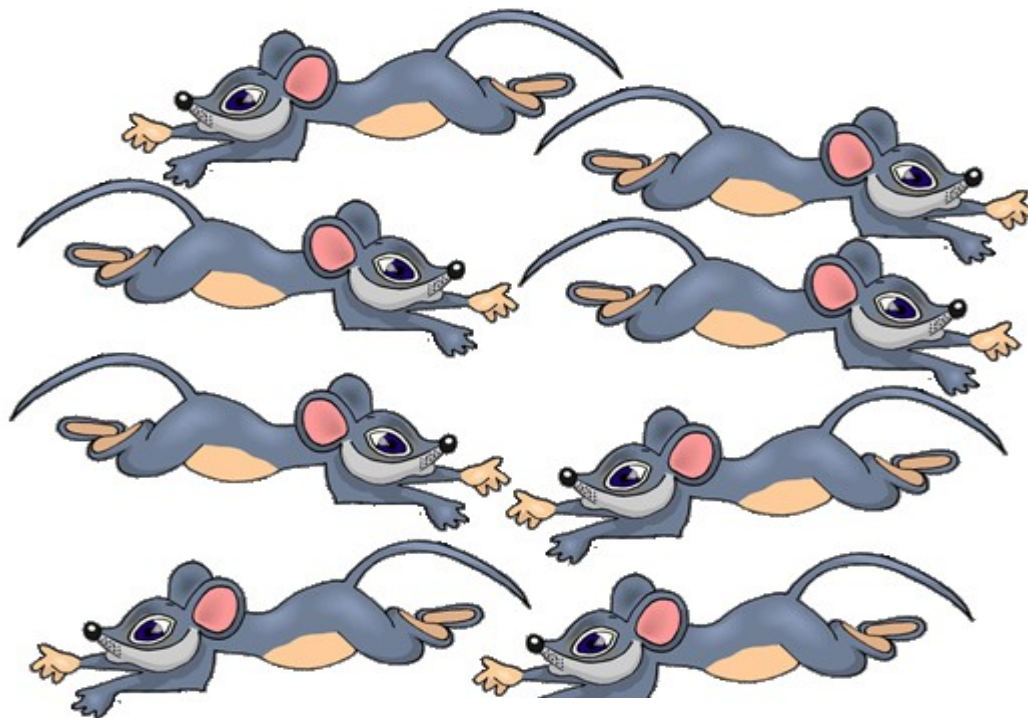




го у девочки в правой руке?



Сколько мышек бегут вправо?



3

4

5



Раздел: ориентировка в  
пространстве



4  
ЗАДАНИЕ

Сколько варежек  
для левой руки ты  
видишь на  
картинке?

4

5

6



Раздел: ориентировка во  
времени

1

ЗАДАНИЕ

В какое время  
года гуляют  
девочки?



Раздел: ориентировка во времени

2


**ЗАДАНИЕ**  
Какое время суток  
изображено на  
картинке?





## Раздел: ориентировка во времени

## 3 ЗАДАНИЕ



**Тает снежок, ожил ручеёк,  
День прибывает  
Когда это бывает?**



## Раздел: ориентировка во времени


4




**Продолжи. Яркий день увы не вечен, в дом пришел чудесный ...**




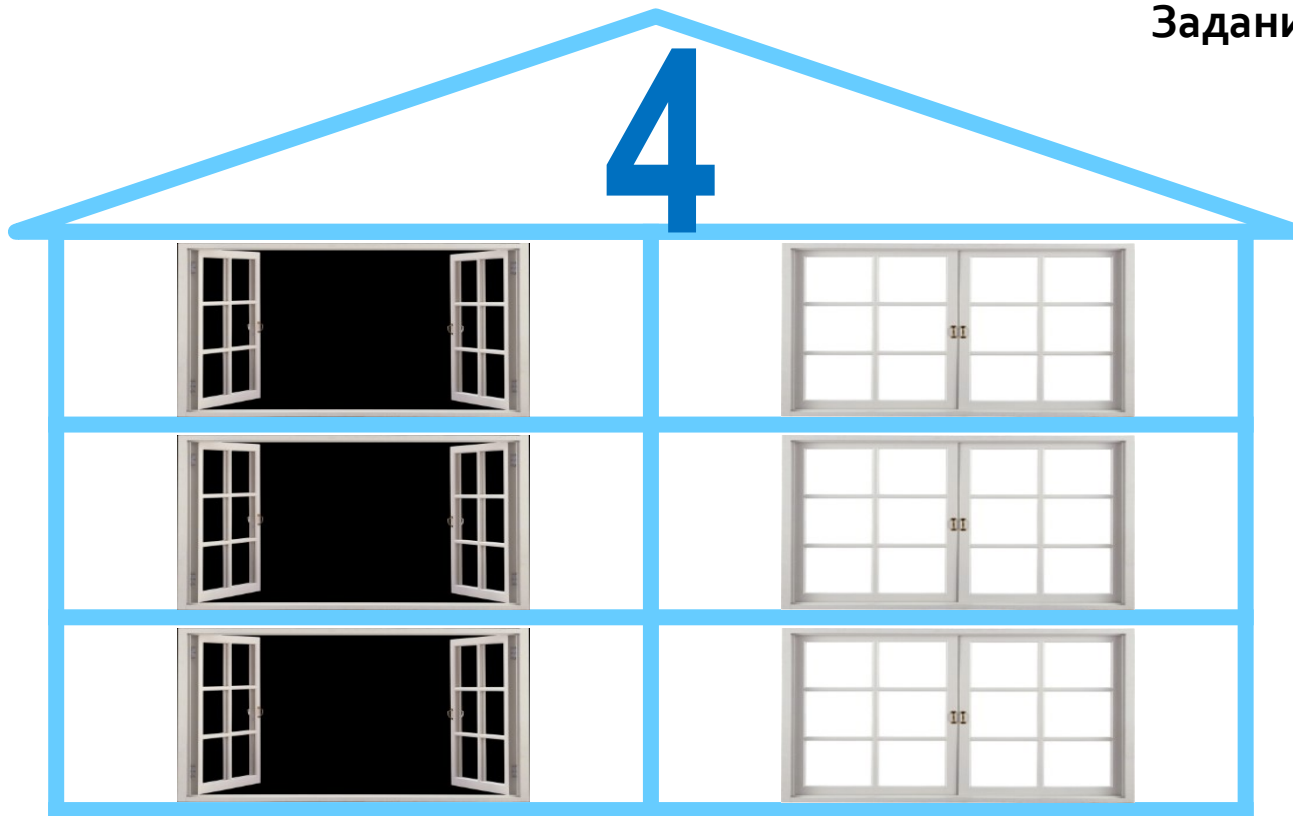
Задание 1



Задание 2



Задание 3



Задание 4

