

Муниципальное автономное общеобразовательное учреждение Гимназия №1

Демонстрационный вариант
контрольно-измерительного материала (КИМ)
ПО ИСТОРИИ
для обучающихся 5-х классов
(индивидуальный отбор в предпрофильный 6 класс)

Сухой Лог, 2025-2026 учебный год

Инструкция по выполнению работы

На выполнение проверочной работы по истории отводится один урок (не более 45 минут). Работа включает в себя 7 заданий по истории Древнего мира и 1 задание, связанное с памятью о Великой Отечественной войне.

Ответы на задания запишите в поля ответов в тексте работы. В случае записи неверного ответа зачеркните его и запишите рядом новый.

При выполнении работы не разрешается пользоваться учебниками, рабочими тетрадями, справочным материалом.

При необходимости можно пользоваться черновиком. Записи в черновике проверяться и оцениваться не будут.

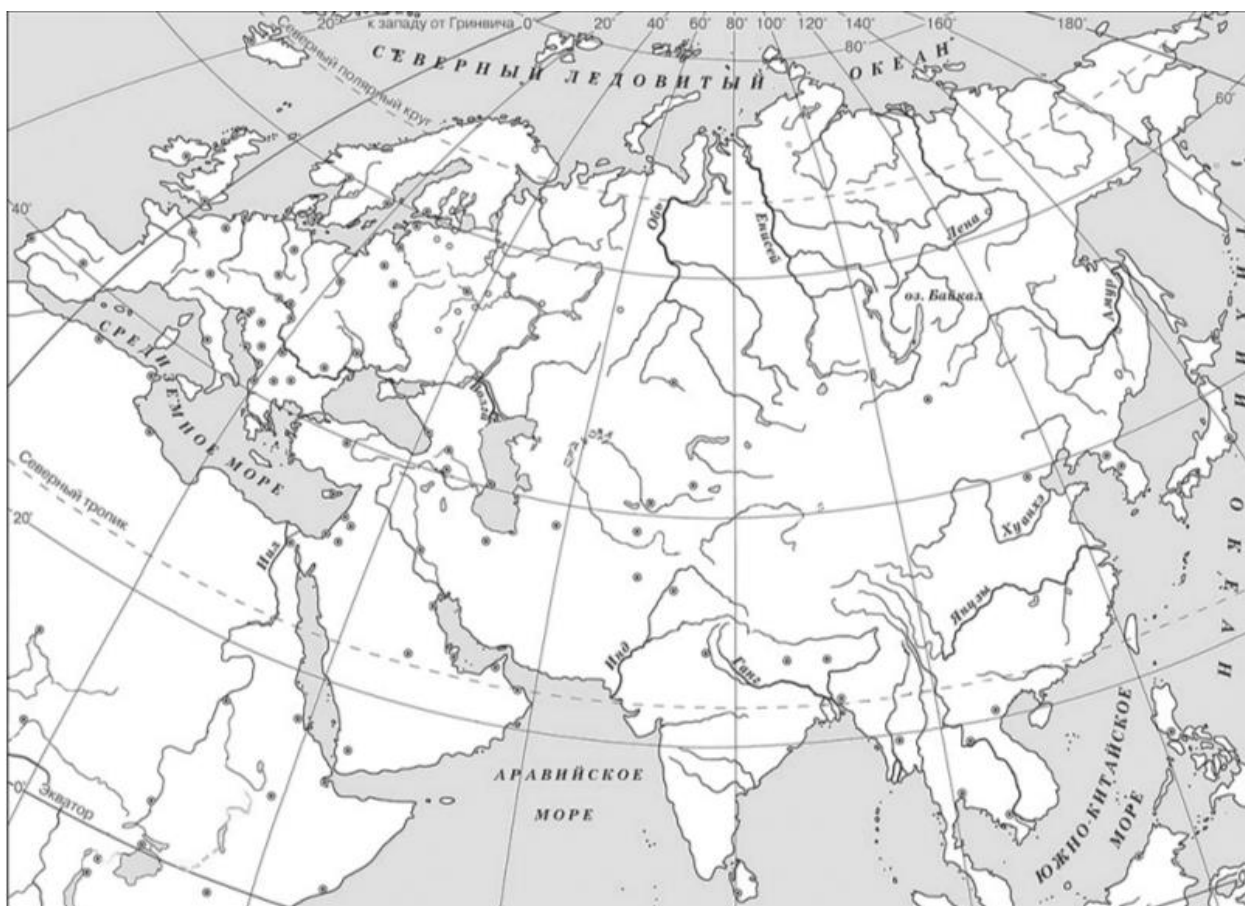
Советуем выполнять задания в том порядке, в котором они даны. В целях экономии времени пропускайте задание, которое не удаётся выполнить сразу, и переходите к следующему. Если после выполнения всей работы у Вас останется время, то Вы сможете вернуться к пропущенным заданиям.

Желаем успеха!

1. На данной ленте времени каждый отрезок между делениями соответствует одному веку. Отметьте на ленте времени чёрточками и подпишите следующие годы: 310 г. до н.э., 73 г. до н.э., 110 г. н.э.



2. Заштрихуйте на контурной карте один четырёхугольник, образованный градусной сеткой (параллелями и меридианами), где полностью или частично располагалась страна, правителей которой называли фараонами.




Перечень тем

- А) Древняя Палестина
- В) Древняя Индия

- Б) Древняя Греция
- Г) Древний Китай


3. Каждая из иллюстраций, приведённых ниже, относится к одной из указанных в перечне тем. Установите соответствие между темами и иллюстрациями: к каждой теме подберите относящуюся к ней иллюстрацию.



1)



2)



3)



4)

Запишите в таблицу выбранные цифры под соответствующими буквами.

Ответ:

А	Б	В	Г

Перечень тем

- А) Древняя Палестина
- В) Древняя Индия

- Б) Древняя Греция
- Г) Древний Китай

Прочтите отрывок из исторического источника и выполните задания 4 и 5.

«Геронтов Ликург назначил сначала, как говорят, из лиц, принимавших участие в его замысле. Впоследствии же он установил порядок, чтобы на место умершего назначали из людей свыше 60 лет от роду, кто будет признан наилучшим по доблести. И это казалось величайшим и наиболее достойным соревнованием среди людей. Надо было быть признанным на суде не самым быстрым среди быстрых и не самым сильным среди сильных, но самым лучшим и самым благоразумным среди добрых и благоразумных, чтобы потом всю жизнь обладать в качестве победной награды всею, так сказать, силой в государстве, имея власть карать смертью и лишать гражданской чести и вообще решать самые важные дела. А происходил отбор следующим образом: когда собиралось народное собрание, избранные для произнесения суждения люди запирались в стоящем поблизости помещении, так что они не видели происходящего и сами оставались скрытыми, а только слышали крики участников народного собрания...».

4. Определите, к какой из предложенных тем относится данный отрывок. В ответе напишите букву, которой обозначена эта тема.

Ответ:

5. Каким двум критериям надо было соответствовать избираемым лицам, согласно реформе Ликурга? Какие права появлялись у избранных лиц в качестве награды, согласно тексту?

Ответ: _____

Выберите одну тему из перечня, а затем выполните относящееся к этому перечню задание 6 только по выбранной Вами теме. Перед выполнением задания укажите букву, которой обозначена выбранная тема.

Перечень тем

- А) Древняя Палестина
- В) Древняя Индия

- Б) Древняя Греция
- Г) Древний Китай

6. Выбранная тема:

Прочтите список слов и напишите слово, относящееся к выбранной Вами теме.

Остракизм, санскрит, патриции, зиккурат, Ветхий Завет, Хуанхэ.

Объясните смысл этого слова.

Ответ: _____

7. Что из перечисленного было причиной значительных завоеваний ассирийских царей?

- 1) Состав ассирийской армии
- 2) Осада Ниневии вражескими войсками
- 3) Расположение Ассирии в верхнем течении реки Тигр

Ответ:

Объясните, как выбранное Вами положение связано со значительными завоеваниями ассирийских царей.

Ответ:

8. Рассмотрите изображение и выполните задание.



Укажите название государственного праздника, на котором была сделана данная фотография. Объясните, почему в этот день граждане России испытывают «радость со слезами на глазах».

Система оценивания проверочной работы

Правильный ответ на задание 4 оценивается 1 баллом.

Правильный ответ на задание 3 оценивается 2 баллами. Если в ответе допущена одна ошибка (в том числе написана лишняя цифра или не написана необходимая цифра), выставляется 1 балл; если допущено две или более ошибки – 0 баллов.

Номер задания	Правильный ответ
3	2134
4	Б

1. На данной ленте времени каждый отрезок между делениями соответствует одному веку. Отметьте на ленте времени чёрточками и подпишите следующие годы: 310 г. до н.э., 73 г. до н.э., 110 г. н.э.

Содержание верного ответа и указания по оцениванию	Баллы
Правильно отмечены на ленте времени три года: в нужном месте поставлены чёрточки и подписаны годы (допустимы небольшие отклонения, связанные с недостаточной аккуратностью)	2
Правильно отмечен(ы) на ленте времени один-два года: в нужном месте поставлена(-ы) чёрточка(-и) и подписан(ы) год(ы) (допустимы небольшие отклонения, связанные с недостаточной аккуратностью)	1
Ответ неправильный	0
Максимальный балл	2

2. Заштрихуйте на контурной карте один четырёхугольник, образованный градусной сеткой (параллелями и меридианами), где полностью или частично располагалась страна, правителей которой называли фараонами.

Содержание верного ответа и указания по оцениванию	Баллы
Заштрихован четырёхугольник, образованный градусной сеткой, в котором полностью или частично располагалась страна, правителей которой называли фараонами (допустимы небольшие отклонения, связанные с недостаточной аккуратностью)	1
Заштрихован четырёхугольник, образованный градусной сеткой, в котором не располагалась страна, правителей которой называли фараонами. ИЛИ Заштрихованы два или более четырёхугольника, в одном из которых располагалась страна, правителей которой называли фараонами. ИЛИ Ответ неправильный	0
Максимальный балл	1

5. Каким двум критериям надо было соответствовать избираемым лицам, согласно реформе Ликурга? Какие права появлялись у избранных лиц в качестве награды, согласно тексту?

Содержание верного ответа и указания по оцениванию (допускаются иные формулировки ответа, не искажающие его смысла)	Баллы
Правильный ответ должен содержать следующие элементы: 1) <u>ответ на первый вопрос</u> : критерии: свыше 60 лет от роду; кто будет признан наилучшим по доблести. 2) <u>ответ на второй вопрос</u> : Карать смертью и лишать гражданской чести и вообще решать самые важные дела.	
Правильно даны ответы на два вопроса	2
Правильно дан ответ на один вопрос	1
Ответ неправильный	0
Максимальный балл	2

6. Выбранная тема: (укажите букву в перечне).

Прочтите список слов и напишите слово, относящееся к выбранной Вами теме.
Остракизм, касты, патриции, зиккурат, Ветхий Завет, сын Неба.
Объясните смысл этого слова.

Содержание верного ответа и указания по оцениванию (допускаются иные формулировки ответа, не искажающие его смысла)	Баллы
Правильный ответ должен содержать следующие элементы: 1) соответствие тем и слов: А – Ветхий Завет; Б – Остракизм; В – Санскрит; Г – Хуанхэ; 2) объяснение смысла слов: <i>Ветхий Завет</i> – древнейшая часть Библии, священная книга евреев, а также христиан; <i>Остракизм</i> — в Афинах «суд черепков», голосование посредством подсчёта голосов с помощью черепков; <i>Хуанхэ</i> — одна из крупнейших рек Китая, в долине которой возникли первые государства Древнего Китая; <i>Санскрит</i> — древний литературный язык Индии; древнейшая сохранившаяся до наших дней форма некогда единого языка индоевропейцев; (Содержание объяснения смысла слова может быть раскрыто в иных формулировках.)	
Правильно указано слово и раскрыт его смысл	3
Правильно указано слово, при раскрытии его смысла допущена(-ы) неточность(-и), существенно не искажающая(-ие) ответа. ИЛИ Правильно указано слово, при раскрытии его смысла указаны не основные, а только второстепенные (несущественные) признаки	2
Правильно указано только слово	1
Слово указано неправильно / не указано независимо от наличия/отсутствия раскрытия его смысла. ИЛИ Приведены рассуждения общего характера, не соответствующие требованию задания. ИЛИ Ответ неправильный	0
Максимальный балл	3

7. Что из перечисленного было причиной значительных завоеваний ассирийских царей?

- 1) Состав ассирийской армии
- 2) Осада Ниневии вражескими войсками
- 3) Расположение Ассирии в верхнем течении реки Тигр

Объясните, как выбранное Вами положение связано со значительными завоеваниями ассирийских царей.

Содержание верного ответа и указания по оцениванию (допускаются иные формулировки ответа, не искажающие его смысла)	Баллы
Правильный ответ должен содержать следующие элементы: 1) <u>правильный ответ</u> – 1 (состав ассирийской армии) 2) <u>объяснение</u> : Причиной значительных завоеваний ассирийских царей стал состав армии, состоящей не только из пехоты, но и из конницы и колесниц. Помимо этого, в ее состав входили отряды разведчиков, инженеров, которые строили мосты и дороги. (Может быть приведено другое, близкое по смыслу объяснение.)	
Даны правильный ответ и верное объяснение	2
Дан правильный ответ, объяснение не дано. ИЛИ Дан правильный ответ, объяснение неверно	1
Ответ неправильный	0
Максимальный балл	2

8. Рассмотрите изображение и выполните задание.



Укажите название государственного праздника, на котором была сделана данная фотография. Объясните, почему в этот день граждане России испытывают «радость со слезами на глазах».

Содержание верного ответа и указания по оцениванию (допускаются иные формулировки ответа, не искажающие его смысла)	Баллы
<p>Правильный ответ должен содержать следующие элементы:</p> <p>1) год – 1945 г.;</p> <p>2) объяснение, например: фотография связана с Победой над фашистской Германией, в результате которой Советский Союз преодолел смертельную опасность, сохранил собственную государственность и стал сильнейшей мировой державой. Эта Победа до сих пор объединяет граждан страны, так как Великая Отечественная война коснулась каждой семьи, а Победа – результат героической борьбы всего нашего народа. Объяснение может быть дано в иных, близких по смыслу формулировках</p>	
Правильно указан год и приведено объяснение	3
Правильно указан год, объяснение содержит неточность(-и), существенно не искажающую(-ие) смысла ответа. ИЛИ Правильно указан год, объяснение содержит не основные, а только второстепенные (несущественные) связи, не в полной мере раскрывающие суть ответа на задание	2
Правильно указан только год. ИЛИ Год указан неправильно / не указан; дано верное объяснение	1
Год указан неправильно / не указан; дано неверное объяснение / объяснение не дано. ИЛИ Приведены рассуждения общего характера, не соответствующие требованию задания	0
Максимальный балл	3

Система оценивания выполнения всей работы

Максимальный первичный балл за выполнение работы – 16.