



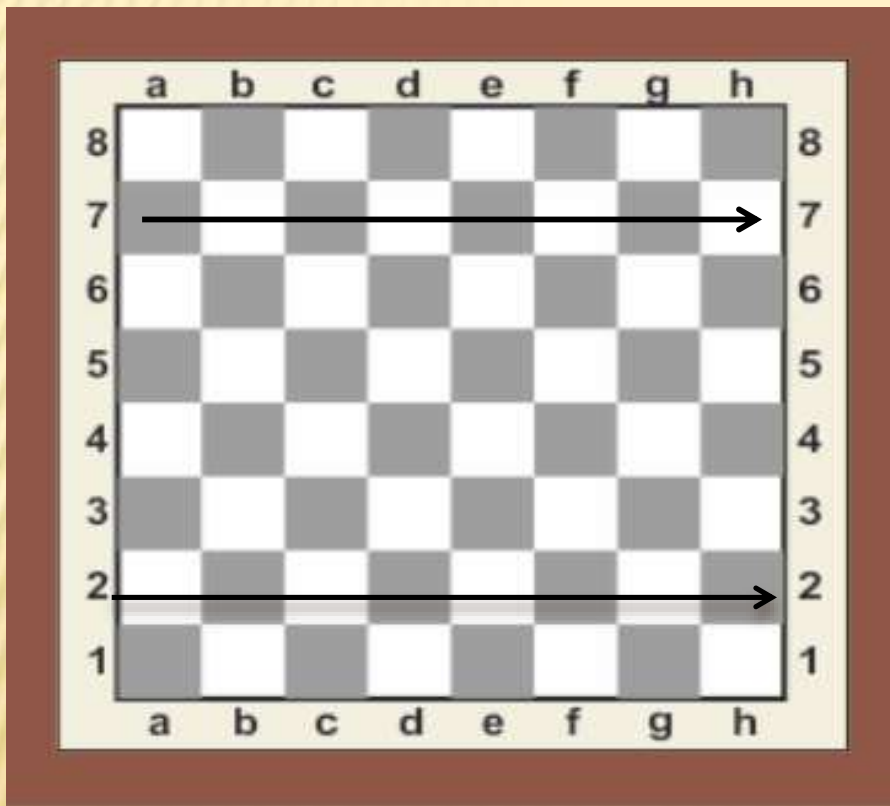
# ВЕРТИКАЛЬ




Вертикаль




КАК НАЗЫВАЕТСЯ ОБОЗНАЧЕННАЯ СТРЕЛКОЙ ЛИНИЯ?  
КАК ОБОЗНАЧАЮТСЯ НА ДОСКЕ ГОРИЗОНТАЛИ?



НАЙДИ ОШИБКУ




ПОВТОРЕНИЕ ИЗУЧЕННОГО



**ВЕРТИКАЛЬ** - ЭТО 8 ПОЛЕЙ, РАСПОЛОЖЕННЫХ  
СВЕРХУ ВНИЗ

СКОЛЬКО ВЕРТИКАЛЕЙ?

ВЕРТИКАЛИ ОБОЗНАЧАЮТСЯ  
ЛАТИНСКИМИ БУКВАМИ




ПЕЧАТНЫЕ БУКВЫ	Aa	Bb	Cc	Dd	Ee	Ff	Gg	Hh
РУКОПИС- НЫЕ БУКВЫ	<i>Aa</i>	<i>Bb</i>	<i>Cc</i>	<i>Dd</i>	<i>Ee</i>	<i>Ff</i>	<i>Gg</i>	<i>Hh</i>





# ПОКАЖИ ОСТАЛЬНЫЕ ВЕРТИКАЛИ

## Вертикаль g



# РАСКРАСЬ ПРОСТЫМ КАРАНДАШОМ ДВЕ ВЕРТИКАЛИ

Возьми простой карандаш и правильно, но по-разному, раскрась две вертикали.





# ИНТЕРЕСНЫЕ ФАКТЫ

- ✘ Во все времена шахматы считались атрибутом знатности, поэтому обычно располагались на самых видных местах в доме, а игровая доска и фигуры изготавливались из различных дорогостоящих материалов.





Всем СПАСИБО.  
ДО СВИДАНИЯ.

