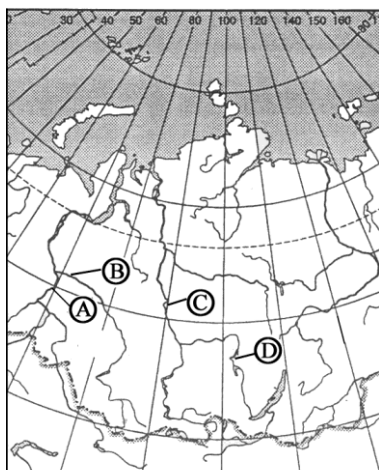


A10. Какой буквой на фрагменте карты России обозначена река Енисей?



- 1) A 2) B 3) C 4) D

A11. Бассейн какого из океанов, к которым относятся реки России, занимает меньшую площадь на территории России:

- 1) Северного Ледовитого; 2) Атлантического; 3) Тихого; 4) бассейн внутреннего стока.

A12. Какие почвы занимают значительные площади в Восточной Сибири?

- 1) серые лесные; 2) бурые лесные; 3) мерзлотно-таежные; 4) каштановые

A13. В Западной Сибири отсутствует природная зона

- 1) широколиственных лесов; 2) лесостепей и степей
3) тайги; 4) лесотундры и тундры

A14. Причиной смены лесной зоны лесостепью является:

- 1) изменение рельефа
2) снижение плодородия почв
3) уменьшение количества осадков
4) усиление суровости зим

A15. Типичное животное тундры:

- 1) белый медведь; 2) песец; 3) лось; 4) заяц.

Часть 2

Ответом к заданиям этой части (B1–B2) является число и последовательность букв. Впишите ответы сначала в текст работы, а затем перенесите их в бланк ответов № 1 справа от номера соответствующего задания, начиная с первой клеточки, без пробелов и других символов. Каждую цифру или букву пишите в отдельной клеточке в соответствии с приведенными образцами.

B1. Расположите города в порядке возрастания количества солнечной радиации

- А) Краснодар
Б) Тамбов
В) Норильск

Запишите в таблицу буквы, соответствующие выбранным ответам.

1	2	3

B2. Владимир из Москвы хочет поздравить Сергея, находящегося в Иркутске (VII часовой пояс), с наступлением Нового Года ровно в полночь по времени Иркутска. Определите, во сколько часов по московскому времени должен позвонить Владимир. Ответ запишите цифрами и занесите в бланк..

Ответ _____ ч.

В3. Установите соответствие:**УЧЕНЫЙ ВКЛАД В НАУКУ**

- 1) В.В. Докучаев А) Основатель науки - почвоведение
 2) В.И. Вернадский Б) Один из основателей геохимии и учения о биосфере
 3) А.И. Воейков В) Автор одной из теорий возникновения жизни на Земле
 Г) Основатель науки о климатах Земли.

Запишите в таблицу буквы, соответствующие выбранным ответам.

1	2	3

Часть 3

Запишите сначала номер задания (С1), а затем не только ответ на поставленный вопрос, но и весь ход ваших рассуждений. Ответы записывайте разборчиво.

С1. Почему на Чукотском нагорье количество высотных поясов меньше, чем в Алтайских горах? Укажите две причины и объясните их.

Вариант 2**Часть 1**

При выполнении заданий этой части в бланке ответов № 1 под номером выполняемого вами задания (А1 – А15) поставьте знак «х» в клеточке, номер которой соответствует номеру выбранного вами ответа.

А1. Мыс Дежнева обозначен на карте России буквой

	<p>1) А 2) В 3) С 4) D</p>
---	---

А2. С какой из перечисленных стран Россия имеет сухопутную границу?

- 1) Туркмения; 2) Швеция; 3) Монголия; 4) Иран

А3. Какая из перечисленных территорий расположена в пределах сейсмического пояса?

- 1) остров Сахалин; 2) острова Новая Земля; 3) полуостров Таймыр; 4) полуостров Ямал

А4. Дюны относятся к формам рельефа, созданным

- 1) ветровыми процессами; 2) текучими водами
 3) деятельностью ледников; 4) вулканической деятельностью

А5. Огромные валуны, встречающиеся на полях Псковской области, попали туда в результате деятельности:

- 1) ледника 2) ветра 3) моря 4) текущих вод

A6. В каком из высказываний идет речь о климате?

- 1) Во время ливня, во второй половине дня выпала треть месячной нормы осадков.
- 2) В течение суток давление будет падать, влажность увеличится, температура сильно не изменится.
- 3) Постоянно дующие с океана ветры способствуют выпадению осадков в Англии в течение всего года.
- 4) С северо-запада движется циклон, который принесет небольшое понижение температуры и осадков.

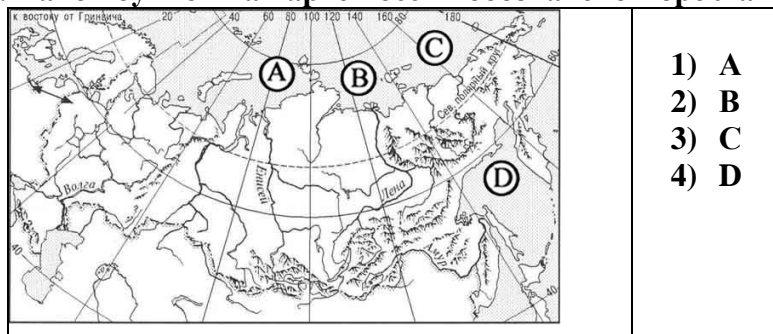
A7. Какие горы в России являются линией климатического раздела между областями умеренно-континентального и континентального типов климата умеренного пояса?

- 1) Кавказские
- 2) Уральские
- 3) Алтай
- 4) Саяны

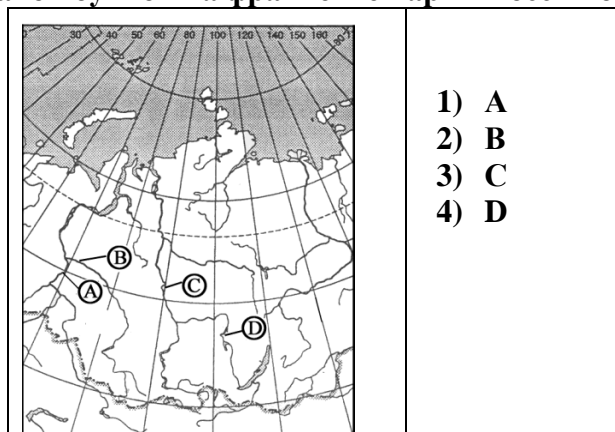
A8. Какой из океанов оказывает большее воздействие на климат России:

- 1) Атлантический;
- 2) Северный Ледовитый;
- 3) Тихий;
- 4) Индийский

A9. Какой буквой на карте России обозначено море Лаптевых?



A10. Какой буквой на фрагменте карты России обозначена река Обь?



A11. Какое происхождение котловины озера Ладжское:

- 1) вулканическое;
- 2) тектоническое;
- 3) лиманное;
- 4) ледниковое.

A12. Почвы лесостепей и степей.

- 1) серые лесные;
- 2) черноземы;
- 3) мерзлотно-таежные;
- 4) каштановые

A13. Какая природная зона расположена на севере Западной Сибири?

- 1) смешанные леса;
- 2) тайга;
- 3) тундра;
- 4) широколиственные леса

A14. В азиатской части России отсутствует зона широколиственных лесов потому, что здесь:

- 1) суровые зимы
- 2) выпадает большое количество осадков
- 3) господствуют сильные ветры
- 4) малопродуктивные почвы

A15. Что характерно для природы Северного Кавказа?

- 1) континентальный тип климата
- 2) минеральные источники
- 3) равномерное увлажнение территории
- 4) действующие вулканы

Часть 2

Ответом к заданиям этой части (В1–В3) является число и последовательность букв. Впишите ответы сначала в текст работы, а затем перенесите их в бланк ответов № 1 справа от номера соответствующего задания, начиная с первой клеточки, без пробелов и других символов. Каждую цифру или букву пишите в отдельной клеточке в соответствии с приведенными образцами.

В1. Установите соответствие между каждым из природных ресурсов и видом, к которому он относится.

ПРИРОДНЫЕ РЕСУРСЫ		ВИДЫ ПРИРОДНЫХ РЕСУРСОВ	
1) лесные	А)	неисчерпаемые	
2) почвенные	Б)	исчерпаемые возобновимые	
3) руды металлов	В)	исчерпаемые невозобновимые	
4) энергия приливов			

Запишите в таблицу буквы, соответствующие выбранным ответам.

1) 2) 3) 4)

В2. Определите время в Якутске () и в Магадане (), если в Москве 12 часов. (ответы запишите в бланке через запятую)

В3. Установите соответствие:

ИССЛЕДОВАТЕЛЬ		РЕГИОН	
1) П. П. Семенов –Тян -Шанский	А)	Средняя Азия	
2) И. Д. Черский	Б)	Охотское море	
3) Г. И. Невельский	В)	Северо-Восточная Азия	
	Г)	Аляска	

Запишите в таблицу буквы, соответствующие выбранным ответам.

1	2	3

Часть 3

Запишите сначала номер задания (С1), а затем не только ответ на поставленный вопрос, но и весь ход ваших рассуждений. Ответы записывайте разборчиво

С1. Почвы зоны степей обладают гораздо более мощным гумусовым горизонтом и высоким содержанием гумуса, чем почвы зоны тайги. Чем это объясняется? Укажите не менее двух причин.