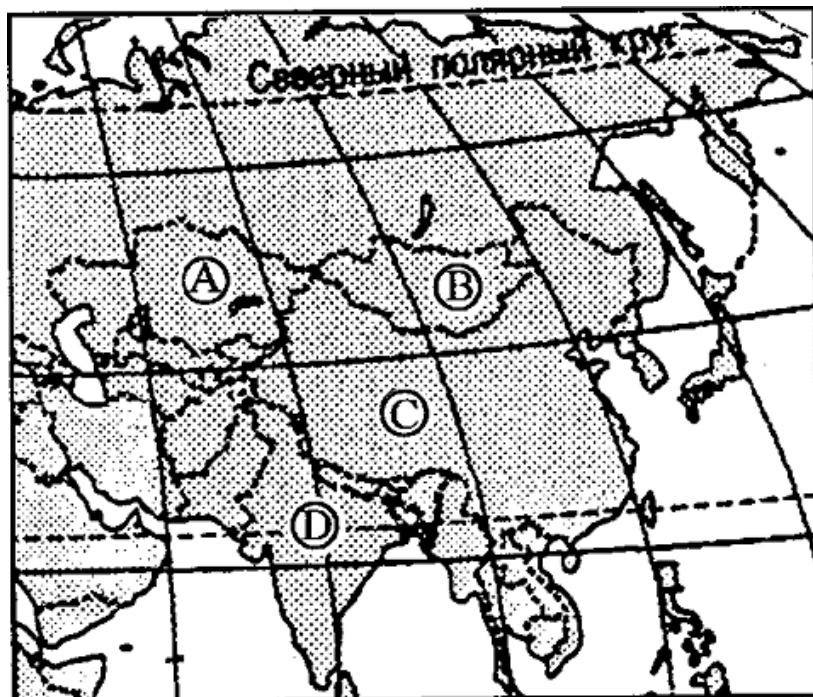


**Демонстрационная версия
контрольной работы по географии
за курс 11 класса**

**1 вариант
Часть 1**

- A1. Укажите название страны, расположенной в сейсмической зоне.
1) Япония
2) Вьетнам
3) Австралия
4) Танзания
- A2. Какая страна относится к новым индустриальным странам?
1) Китай
2) Алжир
3) Малайзия
4) Япония
- A3. Какое из перечисленных государств расположено в Африке?
1) Парагвай
2) Таиланд
3) Камерун
4) Ливан
- A4. Какое из перечисленных государств по форме правления является республикой?
1) Малайзия
2) Таиланд
3) Япония
4) Филиппины
- A5. Какая страна относится к странам с федеративным устройством?
1) Германия
2) Китай
3) Франция
4) Япония
- A6. В какой из стран большинство населения исповедует буддизм?
1) Турция
2) Индия
3) Казахстан
4) Монголия
- A7. В какой из перечисленных стран средняя плотность населения наибольшая?
1) Бангладеш
2) Казахстан
3) Монголия
4) Австралия
- A8. В какой из перечисленных стран ВВП на душу населения наибольший?
1) Непал
2) Албания
3) Бельгия
4) Свазиленд
- A9. Для какой из перечисленных стран характерен миграционный прирост населения?
1) Индия
2) Китай
3) Мали
4) Франция
- A10. Какой из перечисленных видов природных ресурсов является неисчерпаемым?
1) солнечная энергия
2) почвенные ресурсы
3) уголь и торф
4) нефть и газ
- A11. В результате антропогенной деятельности в XX веке значительно увеличилась площадь
1) саванн
2) пустынь
3) степей
4) тундры
- A12. В какой из перечисленных стран наиболее велика доля горожан в общей численности населения?
1) Индонезия
2) Бельгия
3) Монголия
4) Турция
- A13. Какая страна наиболее богата лесными ресурсами?
1) Франция
2) Канада
3) Китай
4) Австралия

A14. Какой буквой на фрагменте карты Азии обозначена Монголия?



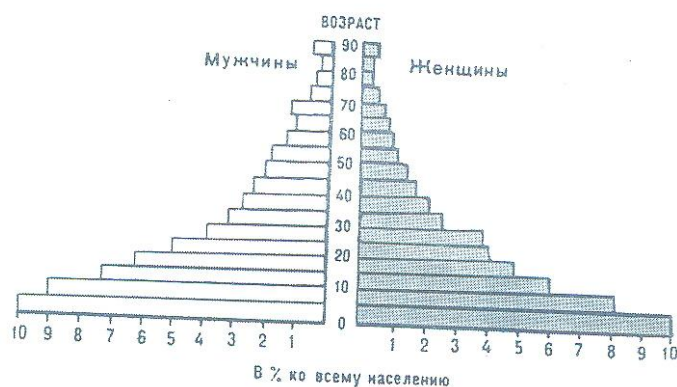
- 1) А
- 2) Б
- 3) В
- 4) Г

A15. Какая из перечисленных стран входит в состав ОПЕК?

- 1) Норвегия;
- 2) Саудовская Аравия;
- 3) Канада;
- 4) Казахстан.

A16. Представленная половозрастная пирамида в общем виде отражает демографическую ситуацию в:

- 1) Швейцарии, Италии, Латвии;
- 2) Афганистане, Индии, Нигерии;
- 3) Мексике, Франции, Великобритании;
- 4) Индонезии, Австралии, Польше.



A17. Основные производители натурального каучука в мире:

- 1) Малайзия, Индонезия, Таиланд;
- 2) Вьетнам, Филиппины, Мадагаскар;
- 3) Бразилия, Лаос, Таиланд;
- 4) Венесуэла, Бразилия, Малайзия.

A18. Самым высоким в мире гидроэнергопотенциалом обладает:

- 1) Индия;
- 2) Россия;
- 3) Китай;
- 4) США.

А-19. Для Канады характерна

- 1) однородность национального состава населения
- 2) размещение наиболее экономически развитых районов северной части страны
- 3) высокая средняя плотность населения
- 4) хорошая обеспеченность природными ресурсами

Часть 2

В-1. Определите страну по ее краткому описанию.

Эта европейская страна с федеративным устройством относится к группе высокоразвитых стран, не имеет морских границ. Ее столицу называют городом вальсов и парков. В разное время здесь жили такие композиторы, как Моцарт, Бетховен, Штраус, Кальман и др. Страна знаменита своими горнолыжными курортами.

Ответ: _____.

В-2. Установите соответствие между страной и её столицей.

СТРАНА СТОЛИЦА

- | | |
|-------------|---------------|
| А) Болгария | 1) София |
| Б) Румыния | 2) Братислава |
| В) Венгрия | 3) Бухарест |
| | 4) Будапешт |

Запишите в таблицу цифры, соответствующие выбранным ответам.

А	Б	В

В-3. Расположите страны в порядке возрастания в них естественного прироста населения (на 1 тыс. жителей).

- | | |
|----------------------|--------------|
| А) Венгрия | В) Аргентина |
| Б) Саудовская Аравия | Г) Канада |

Запишите в таблицу получившуюся последовательность букв.

--	--	--	--

В4. Используя данные из приведённой ниже таблицы, сравните обеспеченность стран лесными ресурсами. Расположите страны в порядке уменьшения показателя ресурсообеспеченности.

	Страна	Размеры лесной площади, млн га	Численность населения, млн чел.
А)	Австралия	145,0	21
Б)	Канада	494,0	33
В)	Перу	84,8	28

Запишите в таблицу получившуюся последовательность букв.

--	--	--

Часть 3

С-1

Используя приведенные в таблице данные, определите, в какой из стран - А, В или С доля лиц пожилого возраста в возрастной структуре населения **наименьшая**. Для обоснования своего ответа запишите необходимые числовые данные или рассуждения. Объясните, почему в этой стране доля лиц пожилого возраста в возрастной структуре населения **наименьшая**.

Демографические показатели стран А, В и С

Показатели	А	В	С
Общая численность населения, млн чел.	60	10	142
Численность населения в возрасте до 15 лет, млн чел.	14,0	1,7	21,3
Численность населения в возрасте старше 65 лет, млн чел.	6,0	1,4	19,9
Рождаемость, ‰	18	9	10
Смертность, ‰	7	14	15
Ожидаемая продолжительность жизни, лет	74	70	65
Доля городского населения, %	89	65	73

2 вариант

Часть 1

А1. Укажите самое большое по площади государство мира, не имеющее выхода к Мировому океану.

- 1) Монголия
- 2) Боливия
- 3) Казахстан
- 4) Афганистан

А2. Какая страна относится к странам «переселенческого капитализма»?

- 1) Израиль
- 2) Бразилия
- 3) Индия
- 4) Индонезия

А3. Выберите государство, расположенное в Европе:

- 1) Катар;
- 2) Бенин;
- 3) Сан-Марино;
- 4) Гаити.

А4. Какое из перечисленных государств по форме правления является республикой?

- 1) Япония;
- 2) Дания;
- 3) Италия;
- 4) Швеция.

А5. Какая страна относится к унитарным?

- 1) Россия
- 2) Китай
- 3) США
- 4) Мексика

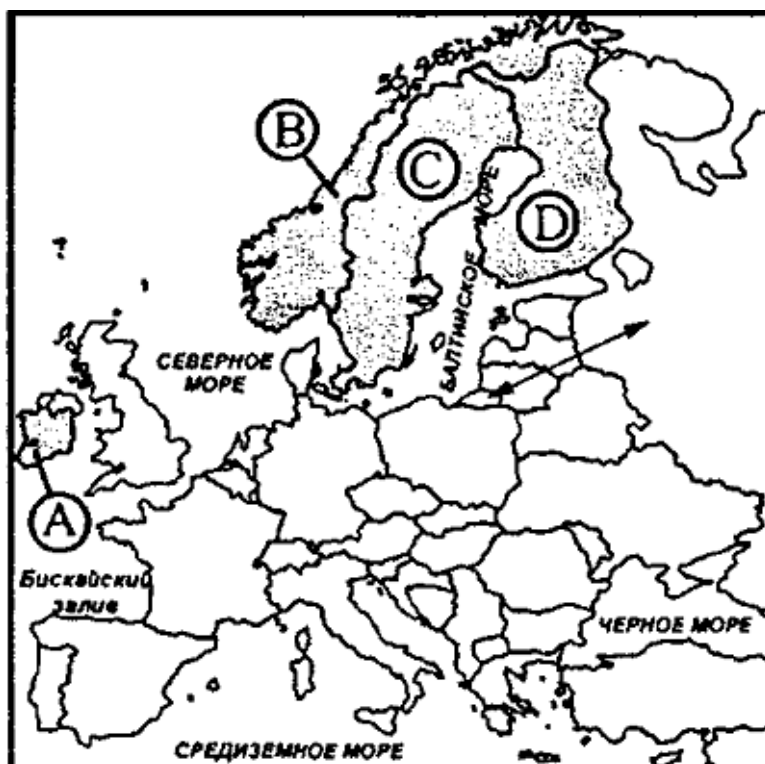
А 6. В какой из перечисленных стран большинство верующего населения исповедует буддизм?

- 1) Тунис;
- 2) Мьянма;
- 3) Япония;
- 4) Австралия

А7. В каких из перечисленных стран средняя плотность населения наибольшая?

- 1) Бангладеш
- 3) Россия

- 2)Ливия
 А-8 В какой из перечисленных стран ВВП на душу населения наибольший?
 1)Япония
 2)Болгария
 3)Китай
 4)Аргентина
- А9. Страна преимущественно трудовой эмиграции – это
 1)США
 2)Германия
 3)Латвия
 4)Великобритания
- А10. Какой(-ие) из перечисленных видов природных ресурсов является(-ются) неисчерпаемым(-и) возобновимым(-и)?
 1)солнечная энергия
 2)почвенные ресурсы
 3)уголь и торф
 4)нефть и газ
- А11. Основным видом загрязнения природной среды при эксплуатации авиационного транспорта является:
 1) химическое загрязнение;
 2) радиационное загрязнение;
 3) шумовое загрязнение;
 4) физическое загрязнение.
- А12. Для какой из перечисленных стран характерна минимальная доля городского населения?
 1)Польша
 2)Непал
 3)США
 4)Сингапур
- А13. Какая из перечисленных стран находится в пределах «оловянного пояса»?
 1)Малайзия
 2)США
 3)Египет
 4)Франция
- А14. Какой буквой на фрагменте политической карте Зарубежной Европы обозначено государство Норвегия?

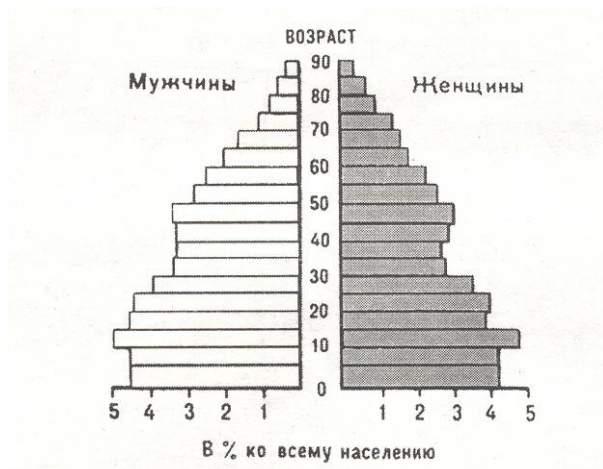


- 1) А
 2) Б
 3) В
 4) Г

- А15. Какая из перечисленных стран входит в состав АСЕАН?
 1) Индонезия;
 2) Канада;
 3) Индия;
 4) Бразилия.

A16. Представленная половозрастная пирамида в общем виде отражает демографическую ситуацию в:

- 1) Италии, США, Франции; 3) Мексике, Кубе, Аргентине;
 2) Болгарии, Албании, Вьетнаме; 4) Анголе, Нигерии, Сомали.



A17. Основным энергоресурсом для производства электроэнергии в мире является:

- 1) газ; 3) уголь;
 2) нефть; 4) гидроэнергоресурсы.

A18. Самыми большими в мире запасами нефти обладает:

- 1) Россия; 3) Саудовская Аравия;
 2) США; 4) Кувейт.

A-19.

Верны ли следующие утверждения о Бразилии?

А) Бразилия является крупнейшим в мире производителем сахарного тростника.

Б) Большая часть электроэнергии в Бразилии производится на атомных электростанциях.

- 1) верно только А
 2) верно только Б
 3) верны оба утверждения
 4) оба утверждения неверны

Часть 2

В-1. Определите страну по её краткому описанию. Эта африканская страна была в прошлом французской колонией, а сейчас она – член ОПЕК, один из крупных экспортёров нефти и газа. Это одна из немногих стран, название которой совпадает с названием столицы.

Ответ: _____.

В-2. Установите соответствие между страной и её столицей

А) Ирландия	1) Копенгаген
Б) Дания	2) Осло
В) Норвегия	3) Дублин
	4) Стокгольм

Запишите в таблицу цифры, соответствующие выбранным ответам.

А	Б	В

В-3. Расположите страны в порядке возрастания в них естественного прироста населения (на 1 тыс. жителей).

А) США

В) Аргентина

Б) Германия

Г) Судан

Запишите в таблицу получившуюся последовательность букв.

--	--	--	--

В-4. Используя данные из приведённой ниже таблицы, сравните ресурсообеспеченность стран пресной водой. Расположите в порядке уменьшения показателя ресурсообеспеченности.

	Страна	Ресурсы пресной воды, км ³	Численность населения, млн чел.
А)	Венесуэла	1320	28
Б)	Канада	2900	33
В)	Индия	2085	1132

Запишите в таблицу получившуюся последовательность букв.

--	--	--

Часть 3

С-1.

Демографические показатели Мексики

Показатель	1985 г.	2010 г.
Численность населения, млн человек	76,7	110,6
Доля лиц старше 65 лет, %	3	6
Рождаемость, ‰	31	19
Смертность, ‰	6	6
Сальдо миграций, ‰	-3	-4
Средняя продолжительность жизни,	69	76
Доля городского населения, %	75	77

Используя данные таблицы, объясните, почему в период с 1985 по 2010 г. доля лиц старше 65 лет в возрастной структуре населения Мексики значительно увеличилась. Укажите две причины. Если Вы укажете более двух причин, оцениваться будут только две, указанные первыми.